

Nom

Evaluation Géométrie

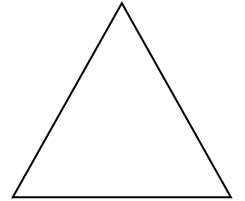
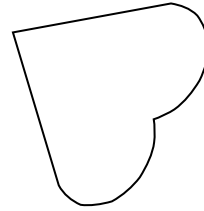
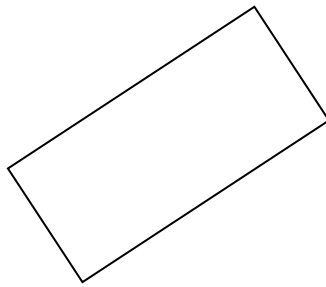
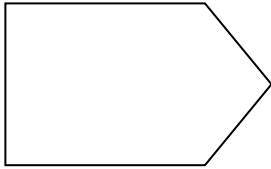
Cap Maths unités 13 à 15

Classe de CE1

Date

1. Reconnaître et construire l'axe de symétrie d'une figure	A	AR	ECA	NA
2. Construire le symétrique d'une figure par rapport à un axe	A	AR	ECA	NA

1 Pour chaque figure, trace le ou les axes de symétrie s'il y en a.



2 Complète la figure pour que le trait en gras devienne son axe de symétrie.

