

Prénom : _____

Date : _____

Problèmes : l'addition

Niveau 1

1. Luc achète pour son fils un vélo à 4 euros et un casque à 3 euros. Combien dépense-t-il ?



2. Oscar a 5€ dans sa tirelire. Margot a 3 € de plus que lui. Combien Margot-a-t-elle dans sa tirelire ?



3. Paul a 8 voitures. Sacha en a 2. Combien de voitures ont-ils en tout ?



4. Il y a 8 enfants dans le bus. Il y a 1 fille et 2 garçons qui montent. Combien y-a-t-il d'enfants en tout ?



Prénom : _____

Date : _____

Problèmes : l'addition

Niveau 2

1. Luc achète pour son fils un vélo à 63 euros et un casque à 35 euros. Combien dépense-t-il ?




2. Oscar a 56€ dans sa tirelire. Margot a 35 € de plus que lui. Combien Margot-a-t-elle dans sa tirelire ?



3. Paul a 58 voitures. Sacha en a 26. Combien de voitures ont-ils en tout ?



4. Il y a 38 enfants dans le bus. Il y a 11 filles et 12 garçons qui montent. Combien y-a-t-il d'enfants en tout ?






Prénom : _____

Date : _____

Problèmes : l'addition

Niveau 3

<p>1. Luc achète pour son fils un vélo à 163 euros et un casque à 45 euros. Combien dépense-t-il ?</p>	
<p>2. Oscar a 256€ dans sa tirelire. Margot a 135 € de plus que lui. Combien Margot-a-t-elle dans sa tirelire ?</p>	
<p>3. Paul a 158 voitures. Sacha en a 226. Eric en a 358. Combien de voitures ont-ils en tout ?</p>	
<p>4. Il y a 58 enfants dans le bus. Il y a 19 filles et 45 garçons qui montent. Combien y-a-t-il d'enfants en tout ?</p>	