








1.   
 $7 - 6 =$

2.   
 $5 - 4 =$

3.   
 $6 - 3 =$

4.   
 $8 - 7 =$


5.   
 $9 - 6 =$


6.   
 $5 - 3 =$

7.   
 $8 - 5 =$

8.   
 $6 - 5 =$

9.   
 $8 - 6 =$

10.   
 $7 - 5 =$

11.   
 $4 - 3 =$

12.   
 $9 - 8 =$

