

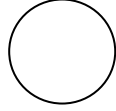
Plan de travail n°1 – CM1/CM2 – LA TERRE

I. Résumé général. p.4/5

- La planète Terre est la ____ ème _____ du système solaire. Il y a le _____ et 7 autres planètes : _____.

La _____ tourne autour de la Terre, qui s'appelle aussi _____.

- La surface de l'eau représente :



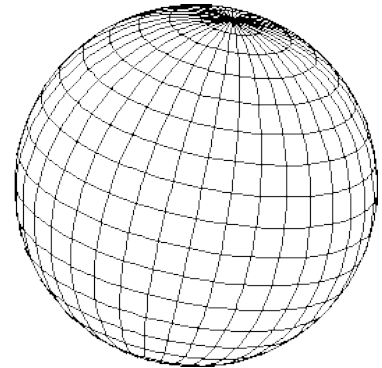
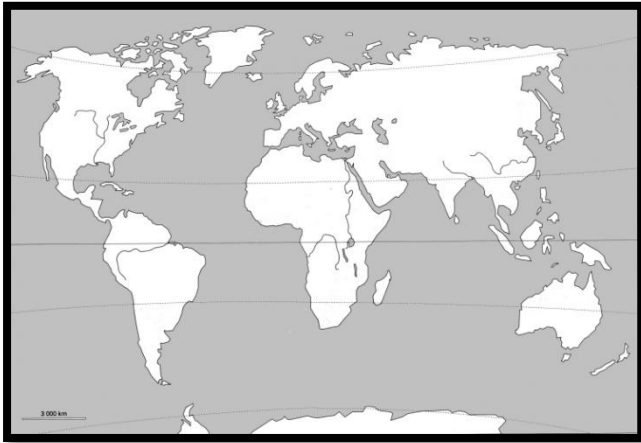
- Autrefois, l'homme pensait que _____ parce qu'il _____.

Au _____ siècle, des explorateurs découvrent la Terre : _____.

- On représente la Terre grâce à _____ ou _____. La meilleure représentation est _____ parce que _____.

- Pour se repérer, l'homme _____.

Complète :



II. La planète Terre. p.6/7

- De quoi est composé le système solaire ?

- Pourquoi peut-on vivre sur la Terre et pas ailleurs ?

- De quoi est composée la planète bleue ?

- Décris les continents :

- _____

- _____

- _____

- _____

- _____

- _____



III. L'homme à la découverte de la Terre. p.8/9

- Comment les hommes imaginaient-ils la Terre jusqu'au Moyen-âge ?

3^{ème} siècle : _____

4^{ème} siècle : _____

Moyen-âge : _____

- Quelle est la carte de référence ? Pourquoi tous les continents ne s'y trouvent-ils pas ?

- Que font les Européens et pourquoi ? _____

- Que fait Christophe Colomb ? _____

- Comment Magellan prouve t-il que la Terre est ronde ? _____

- Plus les hommes découvrent des continents, plus _____

- Comment connaît-on la planète de nos jours ? _____

- Quel évènement marquant s'est déroulé en 1969 ? _____

Cartes et documents :

IV. Se repérer sur Terre. p.10/11

- Décris les deux façons de représenter la Terre. Explique les inconvénients.

- Comment fait-on pour s'orienter sur la planète ?

- Que fait la planète par rapport au Soleil ? À elle-même ?

- Donne les définitions de :

- Hémisphère : _____

- Equateur : _____




- Parallèle : _____

- Méridien : _____

- Tropique : _____

- Quel est le point de départ de tous les méridiens ? _____
- On calcule la position d'un endroit en se référant à sa _____ et sa _____.



 _____
 _____
 _____

Quel est le mot situé

- 20°S-140°E : _____
- 0°-160°E : _____
- 40°N-100°O : _____