


Les jouets

1. Observe les dessins.



Soldat
12 €



Voiture
10 €

Sachet de
20 billes
+ 1 calot
9 €



Yo-yo
6 €

2. Qu'indiquent les nombres :

• 20 ?

• 10 ?

3. Indique le prix :

• du yo-yo : €

• du sachet de billes : €

4. Quel est le jouet le plus cher ?

le moins cher ?

5. Antoine possède :

5€

10€

1€


2€

• Quels jouets peut-il acheter ?


Les jouets télécommandés




Voiture télécommandée 26 €



Voiture simple 15 €



Bateau télécommandé 34 €



Bateau simple 19 €

1. Indique le prix :

• de la voiture télécommandée : €

• de la voiture simple : €

• du bateau simple : €

2. Indique :

• la voiture la moins chère :

• la voiture la plus chère :

3. Agnès possède 20€ et 10€. Que peut-elle acheter ?

.....

.....