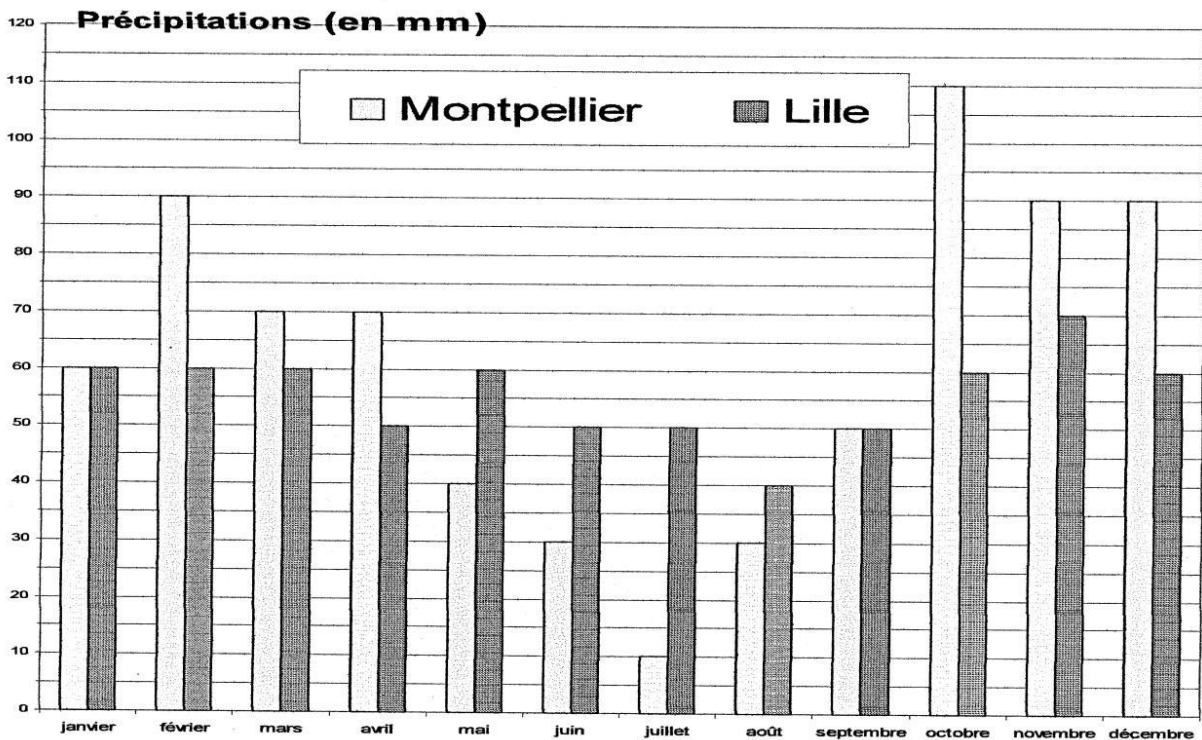



LIRE UN HISTOGRAMME DE PRECIPITATIONS

Mathilde a représenté les précipitations mensuelles dans deux villes de France : Lille et Montpellier en 2002.



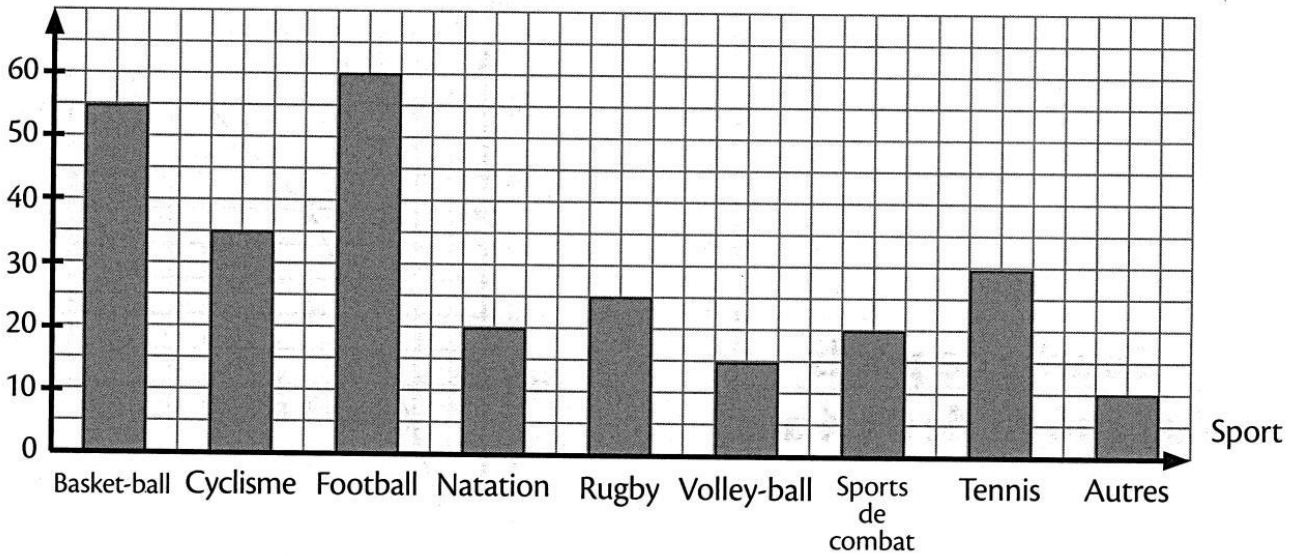
Observez l'histogramme ci-dessus puis pour chaque question, cochez la case correspondant à la réponse exacte.

- La légende  correspond à la ville de Lille.
 - Vrai
 - Faux
 - Le document ne me permet pas de répondre.
- Au mois de juin, il est tombé 50 mm d'eau à Lille.
 - Vrai
 - Faux
 - Le document ne me permet pas de répondre.
- Au mois de mars, il pleut davantage à Montpellier qu'à Lille.
 - Vrai
 - Faux
 - Le document ne me permet pas de répondre.
- Le mois d'octobre est le mois où il pleut le plus à Montpellier.
 - Vrai
 - Faux
 - Le document ne me permet pas de répondre.
- En avril, à Montpellier, il a plu chaque jour.
 - Vrai
 - Faux
 - Le document ne me permet pas de répondre.
- A Lille, en juillet, il pleut moins que les autres mois.
 - Vrai
 - Faux
 - Le document ne me permet pas de répondre.

Histogrammes

Sports préférés des élèves de l'école

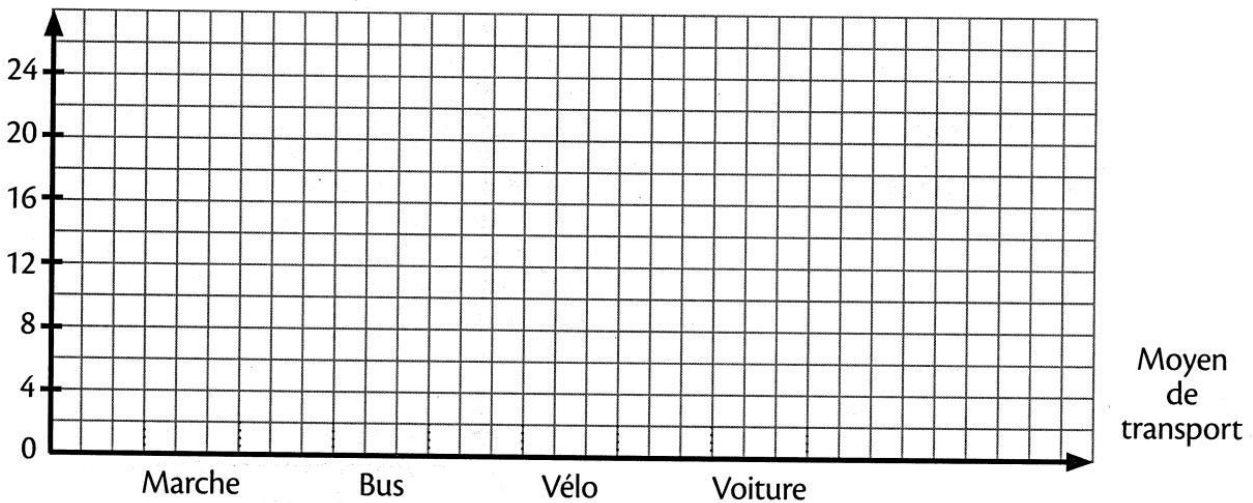
Nombre d'élèves



Sport	Basket-ball	Cyclisme	Football	Natation	Rugby	Volley-ball	Sports de combat	Tennis	Autres
Nombre d'élèves									

Moyens de transport pour se rendre à l'école

Nombre d'élèves



Hugo est tombé malade. Sa mère a pris sa température tous les jours.
On veut représenter par un graphique en courbe l'évolution de la température d'Hugo.
Utilise les données du tableau pour compléter le tracé du graphique.

Jour	Lundi	Mardi	Mercredi	Jeudi	Vendredi
Température (en °C)	37,5	38,5	39	38	37,5

