

1. **CALCUL MENTAL – dictée de nombres jusqu'à 10.**


2. **Lis les nombres puis écris-les en chiffres au-dessous.**

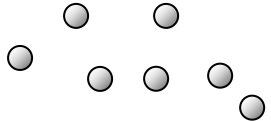
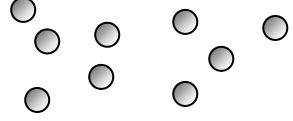
dix      deux      huit      cinq      quatre

.....

Neuf      six      trois      un      sept

.....

3. **Problème :** Voici les billes de **Paul** et de son frère **Théo**.

<p>Billes de <b>Paul</b></p> 	<p>Billes de <b>Théo</b></p> 
--	--

Nombre de billes : \_\_\_\_\_ Nombre de billes : \_\_\_\_\_

Quel enfant a **le plus** de billes ? : \_\_\_\_\_

**Paul** et **Théo** rassemblent leurs billes.

Combien ont-ils de billes en tout ?

Dessin

Opération : \_\_\_\_\_

Réponse : Ils ont \_\_\_\_\_ billes en tout.

Nombre de  
réponses  
justes



Nombre de  
réponses  
justes



Je sais  
résoudre un  
problème  
additif.

OUI
MOYEN
NON



1. **CALCUL MENTAL – dictée de nombres jusqu'à 10.**


2. **Lis les nombres puis écris-les en chiffres au-dessous.**

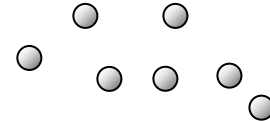
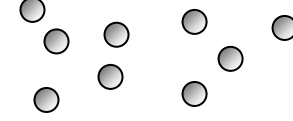
dix      deux      huit      cinq      quatre

.....

Neuf      six      trois      un      sept

.....

3. **Problème :** Voici les billes de **Paul** et de son frère **Théo**.

<p>Billes de <b>Paul</b></p> 	<p>Billes de <b>Théo</b></p> 
--	--

Nombre de billes : \_\_\_\_\_ Nombre de billes : \_\_\_\_\_

Quel enfant a **le plus** de billes ? : \_\_\_\_\_

**Paul** et **Théo** rassemblent leurs billes.

Combien ont-ils de billes en tout ?

Dessin

Opération : \_\_\_\_\_

Réponse : Ils ont \_\_\_\_\_ billes en tout.

Nombre de  
réponses  
justes



Nombre de  
réponses  
justes



Je sais  
résoudre un  
problème  
additif.

OUI
MOYEN
NON

