

1. Calcul mental :  Trouver le complément à 10.



2. Connaître des répertoires additifs



Relie chaque étiquette au calcul qui lui correspond.

5

9

10

3+2

4+5

4+1

5+5

4+6

4+5

3+7

3. Compléter des histoires d'additions :




Complète les histoires et les calculs.

Maman achète 2 pommes et 6 bananes.

$2 + 6 = 8$  ou  $6 + 2 = \underline{\quad}$


→ Maman achète  $\underline{\quad}$  fruits en tout.



Papa achète  $\underline{\quad}$  poires et  $\underline{\quad}$  tomates.

$3 + 5 = \underline{\quad}$  ou  $\underline{\quad} + \underline{\quad} = \underline{\quad}$

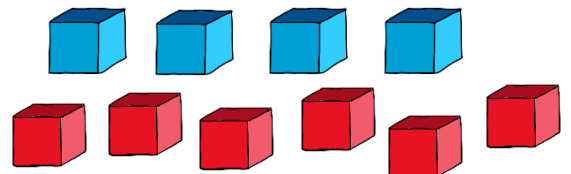
→ Papa achète  $\underline{\quad}$  fruits en tout.



Nino a  $\underline{\quad}$  cubes rouges et  $\underline{\quad}$  cubes bleus

$\underline{\quad} + \underline{\quad} = \underline{\quad}$  ou  $\underline{\quad} + \underline{\quad} = \underline{\quad}$

→ Nino a  $\underline{\quad}$  cubes en tout.



Dans la cour, il y a  $\underline{\quad}$  pigeons et  $\underline{\quad}$  pies

$\underline{\quad} + \underline{\quad} = \underline{\quad}$  ou  $\underline{\quad} + \underline{\quad} = \underline{\quad}$

→ Dans la cour, il y a  $\underline{\quad}$  oiseaux en tout.

