


Prénom :

Date :


Évaluation : Droite, segment, points alignés

Compétences évaluées	Acquis	En voie d'acquisition	Non acquis
Savoir tracer une droite			
Savoir tracer un segment			
Trouver et placer un point aligné avec deux points			
Savoir reproduire un segment à l'aide du compas			


1. Trace en violet la droite (AB), en rouge la droite (EC), en vert la droite (EB), en bleu la droite (AD) et en jaune la droite (ED) :



2. Trace en violet le segment [AD], en rouge le segment [BC], en vert le segment [DC], en bleu le segment [EA] et en jaune le segment [AC] :



3. Trouve les points qui sont alignés. (Il faut trois points alignés)



4. Place le point G aligné avec les points C et D.

5. Reproduis ces segments sur ta feuille.

