




Sur mon rosier, il y a 7 coccinelles jaunes et 4 coccinelles rouges.  
Combien y a-t-il de coccinelles sur mon rosier?

7



4



Il y a **11** coccinelles sur mon rosier.




Sur mon rosier, il y a 3 coccinelles jaunes et 9 coccinelles rouges.  
Combien y a-t-il de coccinelles sur mon rosier?

3



9




Il y a **12** coccinelles sur mon rosier.




Sur mon rosier, il y a 2 coccinelles jaunes et 5 coccinelles rouges.  
Combien y a-t-il de coccinelles sur mon rosier?

2



5



Il y a **7** coccinelles sur mon rosier.



Sur mon rosier, il y a 8 coccinelles jaunes et 1 coccinelle rouge.  
Combien y a-t-il de coccinelles sur mon rosier?

8



1



Il y a **9** coccinelles sur mon rosier.




Sur mon rosier, il y a 4 coccinelles jaunes et 2 coccinelles rouges.

Combien y a-t-il de coccinelles sur mon rosier?

4



2



Il y a **6** coccinelles sur mon rosier.




Sur mon rosier, il y a 1 coccinelle jaune et 3 coccinelles rouges.

Combien y a-t-il de coccinelles sur mon rosier?

1



3




Il y a **4** coccinelles sur mon rosier.




Sur mon rosier, il y a 9 coccinelles jaunes et 7 coccinelles rouges.

Combien y a-t-il de coccinelles sur mon rosier?

9



7




Il y a **16** coccinelles sur mon rosier.




Sur mon rosier, il y a 5 coccinelles jaunes et 8 coccinelles rouges.

Combien y a-t-il de coccinelles sur mon rosier?

7



4



Il y a **13** coccinelles sur mon rosier.