



CARTABLE
FANTASTIQUE

CYCLE 2 - LES NOMBRES

Nommer, lire et écrire
jusqu'à 199

Le cahier d'exercices pour la classe

100

cent

$$99 + 1 = 100$$

J'ajoute une unité :

$$100 + 1 = 101$$

cent - un

$$100 + 2 = 102$$

cent - deux

$$100 + 3 = 103$$

cent - trois

$$100 + 4 = 104$$

cent - quatre

J'ajoute un nombre à deux chiffres :

$$100 + 24 = 124$$

cent - vingt - quatre

$$100 + 36 = 136$$

cent - trente - six

$$100 + 77 = 177$$

cent - soixante - dix - sept

$$100 + 99 = 199$$

cent - quatre - vingt - dix - neuf



1 Relie les étiquettes entre elles.

cent-trois	104
cent-un	103
cent-six	101
cent-sept	105
cent	107
cent-quatre	100

2 Complète pour faire :

cent - treize : 1....

cent - seize : 1....

cent - onze : 1....

cent - dix - neuf : 1....

cent - quatorze : 1....

cent - dix - sept : 1....

3 Souligne en bleu le chiffre des unités, en rouge le chiffre des dizaines et en vert le chiffre des centaines.

Exemple : 125 → cent-vingt-cing

147 → cent – quarante – sept

151 → cent – cinquante – et – un

169 → cent – soixante – neuf

184 → cent – quatre – vingt - quatre

136 → cent – soixante - treize



4 Entoure le bon nombre :

cent-vingt-huit : 123 – 128

cent-cinquante-neuf : 129 – 159

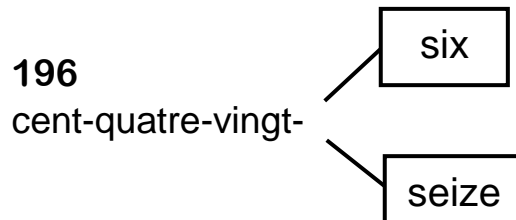
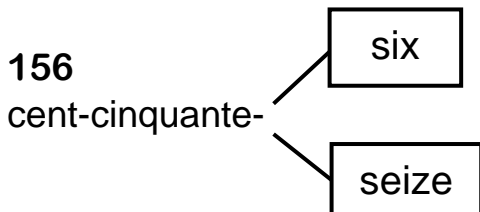
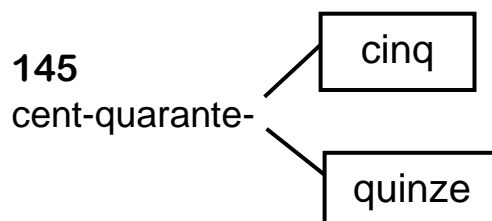
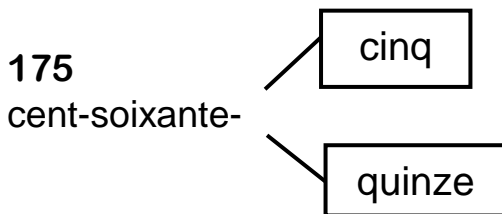
cent-trente-quatre : 134 – 139

cent-soixante-trois : 163 – 133

cent-quarante-et-un : 141 – 146

cent-vingt-huit : 128 – 148

5 Colorie la bonne étiquette pour écrire le nombre en lettres.



6 Écris le nombre en chiffre :

Le nombre a 1 centaine, 8 dizaines et 5 unités :

Le nombre a 1 centaine, 2 dizaines et 1 unité :

Le nombre a 1 centaine et 6 dizaines :

Le nombre a 1 centaine et 7 unités :

Le nombre a 1 centaine et 14 unités :



7 Écris en chiffres :

cent - trente - deux :

cent - quatre - vingt - cinq :

cent - quarante - trois :

cent - quinze :

cent - soixante - six :

cent - soixante - dix - huit :

cent - trente :

cent - quatre - vingt - dix - neuf :

8 Dictée de nombre : écris les nombres que je te dis (en chiffres).

9 Utilise les étiquettes pour écrire les nombres (N'oublie pas les tirets) :

cent six soixante seize dix trois

106 – 163 – 170 – 176 – 116

10 Écris les nombres en lettres.

113 _____

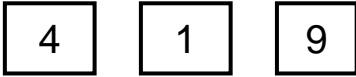
148 _____

163 _____

197 _____



11 Écris des nombres à deux ou trois chiffres, plus petits que 199 et en utilisant :



12 Devinette : quel est ce nombre ?

Le nombre est :

- Plus grand que 128
- Plus petit que 136
- Il a deux fois le même chiffre

C'est le nombre

Le nombre est :

- Plus grand que 179
- Plus petit que 189
- Il a 0 unité

C'est le nombre

