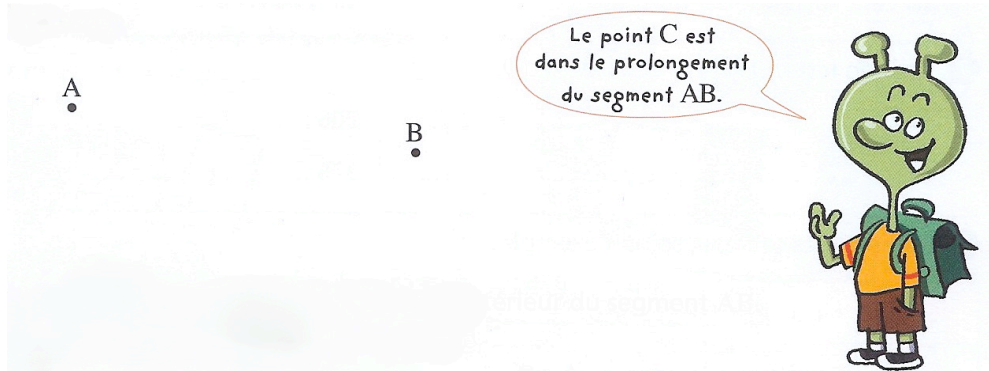


Alignement, segment, milieu.


1. Trace le segment AB.



Place un point C aligné avec les points A et B, à l'extérieur du segment AB.

Prolonge en rouge le segment AB jusqu'au point C.

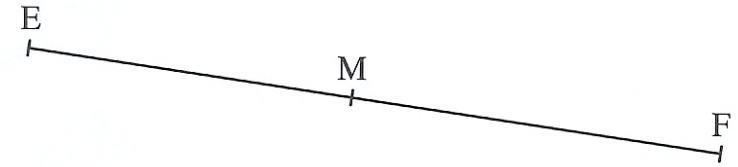
2. Pour placer le milieu d'un segment, tu peux utiliser une bande de papier comme l'indique la bande dessinée ci-dessous :



Trace un segment AB et place son milieu I en utilisant la méthode ci-dessus.

Compare les longueurs des segments AI et IB.

3. Observe cette figure.



Le point M est-il le milieu du segment EF ? oui non

Quel outil as-tu utilisé pour trouver la bonne réponse ?

Alignement, segment, milieu.

1. Trace les alignements de 3 étoiles.



2. Trace le segment AC en prolongeant le segment AB : le point B doit être le milieu de AC.

