

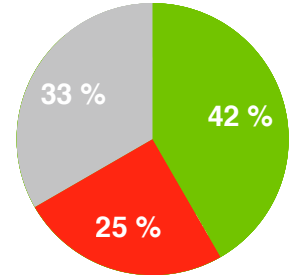
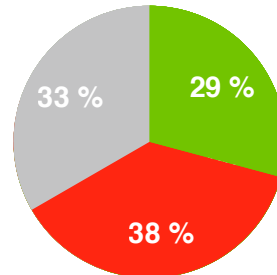
## Répartition des réponses

après recherche individuelle

après recherche à plusieurs

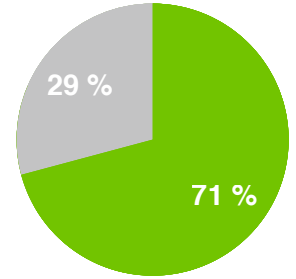
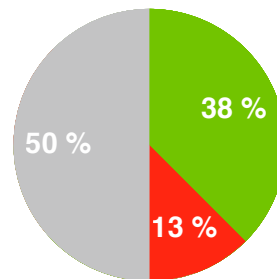
Un cochon blanc et un cochon noir pèsent ensemble 320 kg. Le cochon noir pèse 32 kg de plus que le cochon blanc.

**Combien pèse le cochon blanc ?**



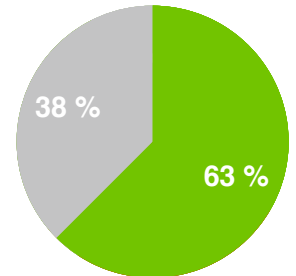
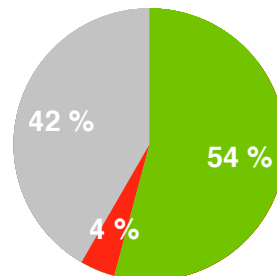
Un groupe de danse comprend 25 garçons et 19 filles. Chaque semaine, le groupe s'agrandit de 2 nouveaux garçons et 3 nouvelles filles.

**Au bout de combien de semaines le groupe aura le même nombre de filles que de garçons ?**



Un fermier possède 30 vaches et des poulets. Le nombre total de pattes de poulets est égal au nombre total de pattes de vaches.

**Combien de poulets le fermier a-t-il ?**

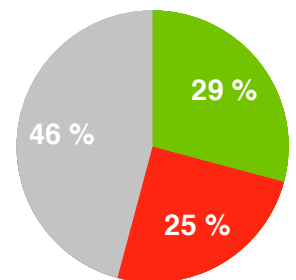
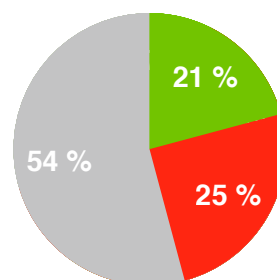


Il y a de plus en plus de poissons dans l'aquarium. Leur nombre est égal à la somme des nombres de poissons des deux années précédentes.

L'année dernière, il y en avait 60.

Cette année, il y en a 96.

**Combien y avait-il de poissons il y a 3 ans ?**



On utilise les deux dominos ci-contre à droite. On les accole, en pouvant les tourner, pour former un carré.

**Quelle figure ne peut-on pas obtenir ?**

1, 2, 3, ou 4 ?

