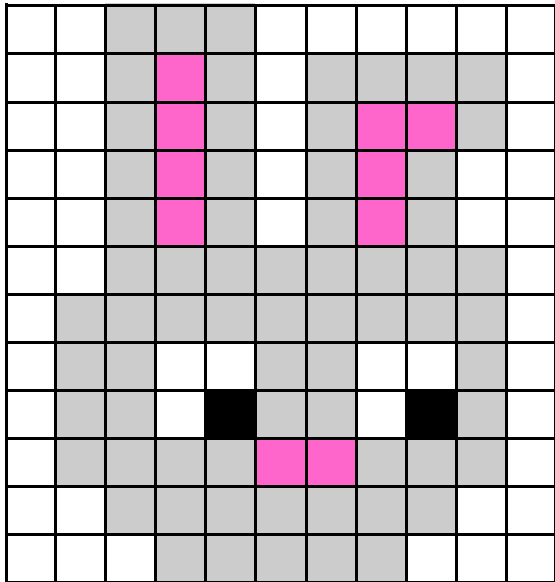


Défi

1



Reproduisez la même chose :



Défi

2


Trouvez l'intrus :



Défi

3

Combien faut-il de triangles pour boucher le trou ?



Défi

4



La maîtresse a planté 5 rangées de 5 fleurs.

Combien de fleurs aura-t-elle en tout ?

Défi

5




A qui est l'oeuf en chocolat ?



A

B

C



TOMA




* L'œuf de JADE n'est pas vert.
* L'œuf de TIBO n'est pas au milieu.

TIBO



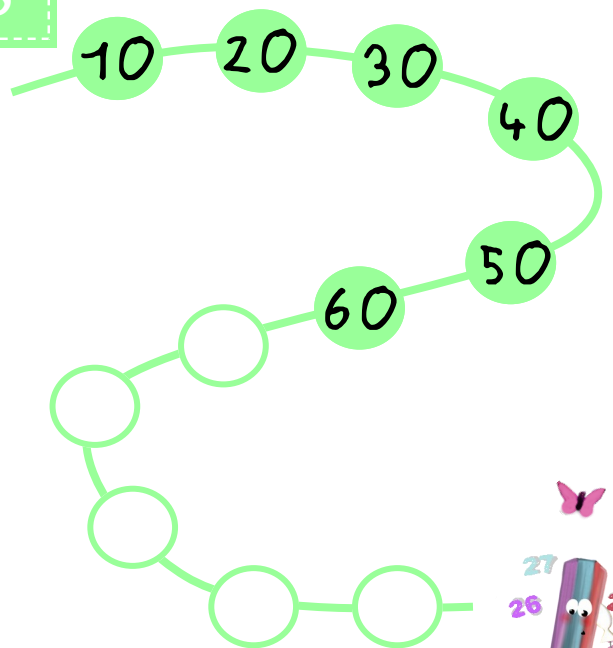
JADE



Défi

6









Continuez la suite...




Défi

7

Ecris les codes de chaque chose :

6						
5						
4						
3						
2						
1						
	A	B	C	D	E	F



Défi

10

Tibo et Jade ont
un chien,
deux lapins,
deux oiseaux
trois poissons rouges.

Combien y a-t-il de pattes d'animaux dans
la maison lorsqu'ils y sont tous?



Défi

8

Combien d'enfants mangent tous
les jours à la cantine ?

	Lundi	Mardi	Jeudi	Vendredi
JADE	x	x	x	x
TOMA		x		x
TIBO	x	x	x	x
ROMAIN	x	x	x	
ELMA	x			x



Défi

11

Dans sa tirelire, Toma a :

deux billet de 100 €
cinq billets de 10 €



Combien d'argent a-t-il en tout ?

Défi

9

Un peu de calcul...
Coloriez le calcul et son résultat
de la même couleur :



2×7	36
$30 - 4$	18
$26 + 11$	12
2×9	14
$36 - 4$	26
6×2	32

Défi

12

Jade a eu 5 oeufs pour Pâques.
Chacun a une couleur différente.

- * Le rose n'est ni à côté du bleu, ni à côté du rouge, ni à côté du vert.
- * Le jaune n'est ni à côté du bleu, ni à côté du vert.
- * Le bleu n'est pas à côté du rouge.
- * Le vert est à droite du rouge.

Colorie les 5 oeufs dans l'ordre indiqué.






Feuille réponses

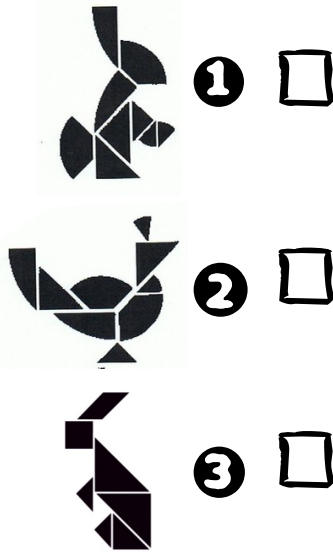
Défi

1



Défi

2



Défi

3

Il faut _____ triangles pour boucher le trou.



Défi

4

Elle aura _____ fleurs en tout.



Défi

5

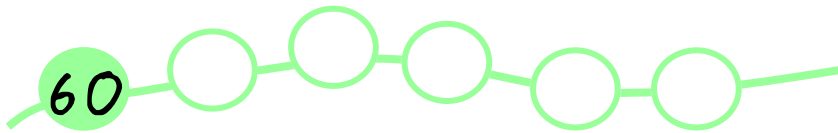
TOMA TIBO JADE







Feuille réponses

Défi 6



Défi 7



Défi 8


G enfants mangent tous les jours à la cantine.



Défi 9



2×7	36
$30 - 4$	18
$26 + 11$	12
2×9	14
$36 - 4$	26
6×2	32



Défi 10

Il y a _____ pattes d'animaux dans la maison lorsqu'ils y sont tous.



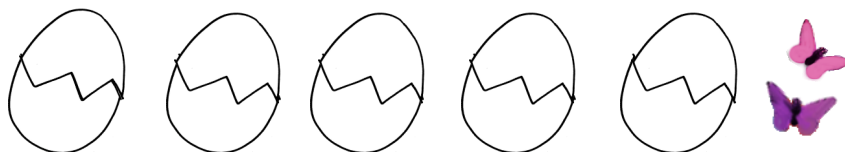
Défi 11



Toma a € dans sa tirelire.



Défi 12



VALIDÉES

TOTAL :