

Prénom : _____

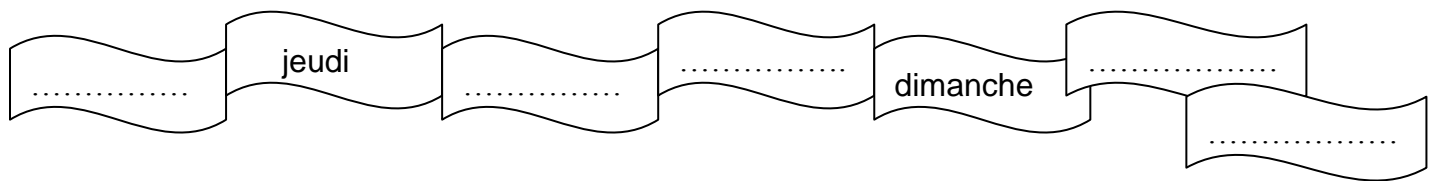
date : _____

La mesure du temps : jours, mois, années...

Quand on **étudie le passé**, il est nécessaire de savoir si un évènement a eu lieu il y a très longtemps ou récemment, s'il s'est produit avant ou après un autre évènement. C'est pourquoi les hommes ont inventé des **systèmes de mesure** qui leur permettent de se **repérer dans le temps**.

➤ Les jours

1- Complète la frise des jours :



2- Combien y a-t-il de jours dans une semaine ?

3- Combien y a-t-il de jours dans une année ?

4- Complète ce tableau

Avant-hier	-----	Aujourd'hui	-----	Après- demain
Avant-veille	-----	Jour	Lendemain	Surlendemain

5- Réponds aux questions :

- Nous irons à la campagne dimanche prochain. La veille nous irons au cinéma

Quel jour irons-nous au cinéma ?

- Lundi, Mickaël va à la piscine, le lendemain il fait du football.

Quel jour fait-il du football ?

- Dimanche, maman dit : « Demain, j'irai chez le dentiste et après-demain, j'irai chez le coiffeur.

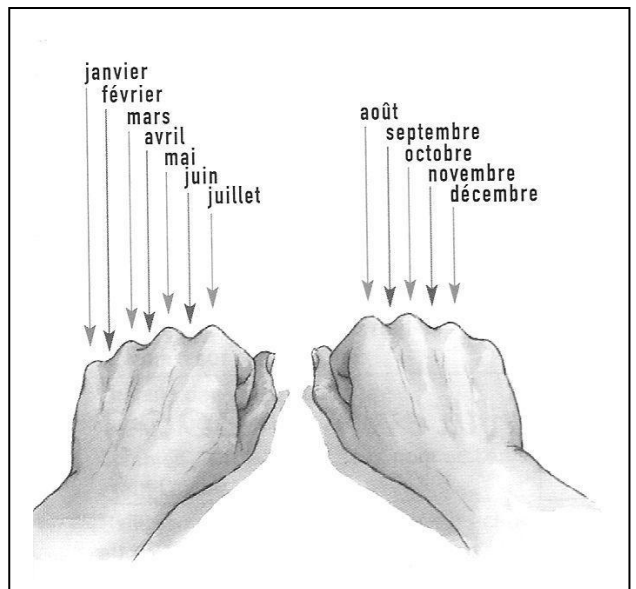
Quel jour ira-t-elle chez le dentiste ?

Quel jour ira-t-elle chez le coiffeur ?

➤ Les mois

Des mois de durées différentes.

Pour trouver le nombre de jours dans un mois, sers-toi de tes deux poings : nomme les mois en posant ton doigt tantôt sur une bosse, tantôt dans un creux ; les mois que tu cites sur une bosse possèdent 31 jours ; ceux que tu cites dans un creux possèdent 30 jours (sauf février qui en compte 28 ou 29)



6- A l'aide du dessin, nomme, dans l'ordre, les mois de l'année et leur nombre de jours.

Noms :						
Jours :						

Noms :						
Jours :						

7- Combien y-a-t-il de mois dans une année ?.....

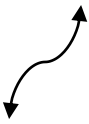


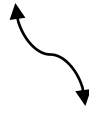
➤ Les années

8- En quelle année vivons-nous ?.....

9- Quel est le premier mois d'une année civile ?

10- Quel est le premier mois d'une année scolaire ?

11- Nomme la date d'aujourd'hui sous les différents éléments qui la compose :

			
Jour de la semaine	numéro du jour dans le mois	Nom du mois	nombre d'années écoulées depuis la naissance de Jésus-Christ, en l'an 1

12- Les historiens utilisent d'autres unités pour mesurer le temps.

Ecris les durées de la plus courte à la plus longue : heure, siècle, année, mois, millénaire, jour, semaine, minute.

.....

.....