

MATHS CE1 Lundi 2 septembre

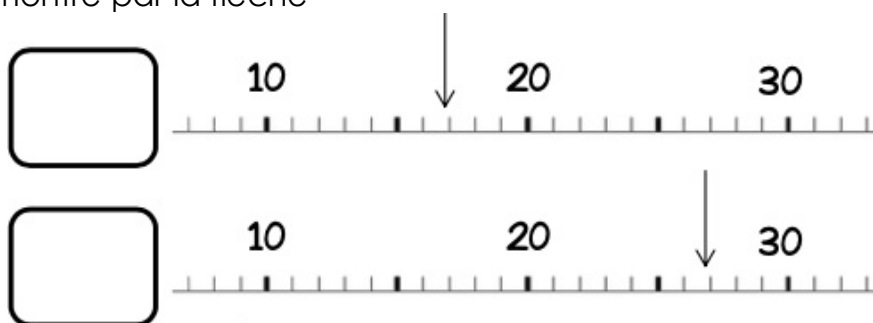
Calculs

$5+3 =$	$9-4 =$	$50+50 =$	$15-5 =$
$18+4 =$	$56-10 =$	$8+46 =$	$35-15 =$

Bandes numériques

<p>35 37</p> <p>36 39 34 38 4 46</p>	<p>31 35</p> <p>12 44 35 34 30 36</p>
<p>80 90</p> <p>82 79 83 91 92 39</p>	<p>75 85</p> <p>74 86 80 50 90 81</p>
<p>40 50</p> <p>25 55 46 51 39 45</p>	<p>35 45</p> <p>34 38 39 46 75 48</p>

Écris le nombre montré par la flèche



MATHS CE1 Jeudi 5 septembre

Calculs

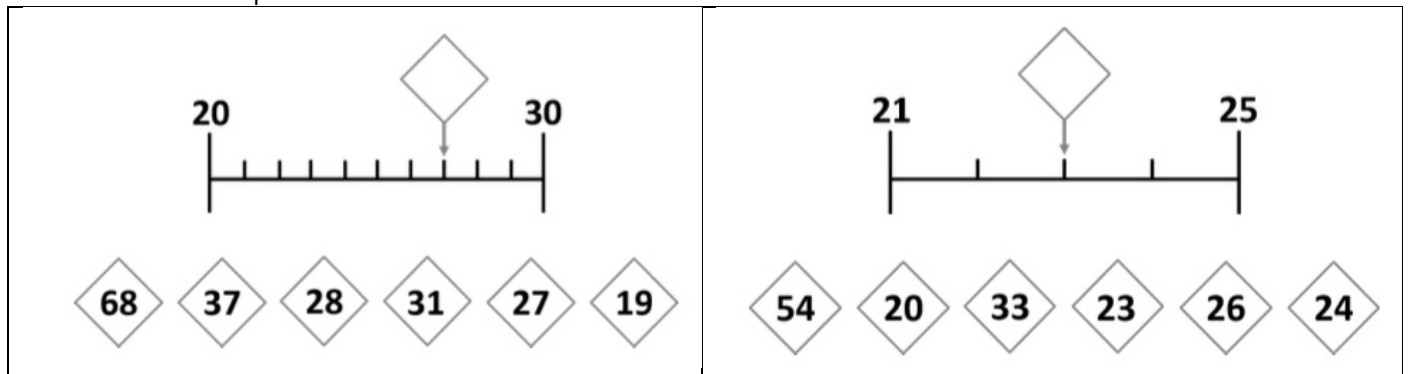
$10+8 =$	$9+9 =$	$10-2 =$	$20+30 =$
$19-2 =$	$21+53 =$	$50+10+8 =$	$33-5 =$

Bandes numériques

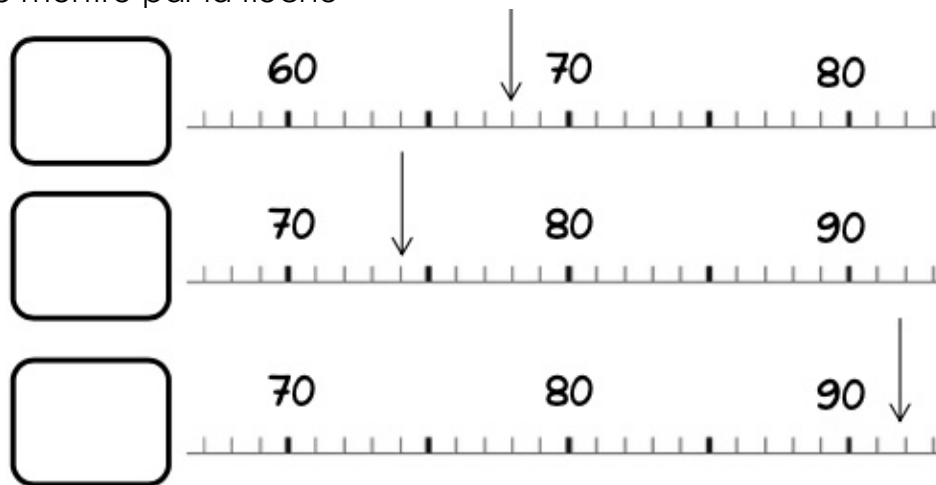
Écris le nombre montré par la flèche

MATHS CE1 (je m'entraîne) JEUDI 5 SEPTEMBRE

Bandes numériques



Écris le nombre montré par la flèche



Calculs

	dizaine	unité
	1	5
+		3
<hr/>		

15 + 3 = ...

	d	u
	1	7
+	2	4
<hr/>		

	d	u
	4	9
+	2	1
<hr/>		

Complète la bande numérique:

