

→ Comment les habitants des villages font-ils pour se déplacer ?  
Quelles difficultés rencontrent-ils ?




**J'observe le déplacement de deux enfants sur le chemin de l'école.**

**Doc. 1 Zahira (Maroc).**

Heure de réveil : 5 h. Temps de parcours : 4 h.  
Distance : 22 km

Zahira est une petite fille de 12 ans. Elle habite avec sa famille un village perdu de la vallée de l'Imlil, dans la chaîne montagneuse de l'Atlas. L'hiver, les températures peuvent descendre jusqu'à -20°C, avec plusieurs mois de neige. Son école est à Asni, à plus de 20 km. Elle ne peut s'y rendre qu'une fois par semaine tant la route est longue. Aussi, chaque lundi, elle parcourt le chemin, à pied, avec ses 2 amies, Zineb et Noura.

Texte extrait du site du film *Sur le chemin de l'école*.



**Doc. 2 Carlito (Argentine).**


Heure de réveil : 5 h. Temps de parcours : 1 h 30.  
Distance : 18 km



Fils de berger, Carlito a 11 ans. Il vit isolé au cœur de la Cordillère avec son père, sa mère Nelido et sa petite sœur. Depuis deux ans, il va à l'école à cheval et depuis cette année, il emmène avec lui sa petite sœur Micaela. Beaucoup d'enfants dans le monde rêveraient d'aller à l'école à cheval. Mais Carlito, lui, n'a pas le choix : il se lève tous les matins très tôt et doit parcourir chaque jour plus de 18 km à travers les montagnes pour se rendre à l'école.

Texte extrait du site du film *Sur le chemin de l'école*.



**1. À partir de la lecture de ces deux textes, complète le tableau ci-dessous.**



			Toi
Prénom et âge	.....	.....	.....
Nom du continent	.....	.....	.....
Nom du pays	.....	.....	.....
Heure du réveil	.....	.....	.....
Mode de transport	.....	.....	.....
Distance en kilomètres et durée du parcours	.....	.....	.....
Nom des montagnes traversées	.....	.....	.....



# J'identifie les difficultés de déplacements dans les pays pauvres.

2. Ces cinq photographies représentent les moyens de transport les plus utilisés dans la République démocratique du Congo. Donne un titre à chaque photographie en utilisant les propositions suivantes : la marche à pied, la pirogue, le mini bus, le vélo, la voiture tout-terrain.



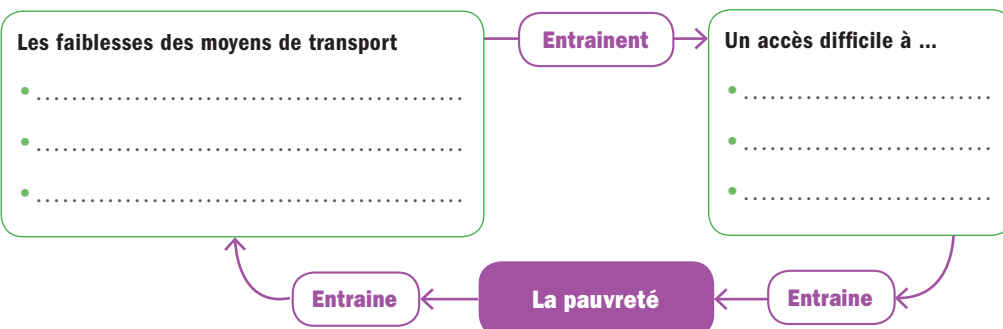
3. Penses-tu que ces moyens de transport sont pratiques ? Justifie ta réponse.

4. Ces modes de transport sont une des causes de la pauvreté du Congo parce qu'ils provoquent :

- Un isolement dans les villages
- Un accès difficile aux soins et aux hôpitaux
- Un accès difficile aux écoles et à l'éducation
- Un accès difficile à l'emploi
- Un accès difficile aux marchés pour vendre des marchandises
- Un temps de déplacement augmenté

## JE RETIENS

Complète le schéma avec les mots et les expressions suivants : routes non goudronnées, matériel vétuste, l'hôpital, l'emploi, l'école, lenteur des déplacements.



### Mon petit dico

**Atlas :** massif montagneux d'Afrique du Nord.

**Cordillère des Andes :** chaîne de montagnes s'étendant du nord au sud de l'Amérique du Sud.

**Vétuste :** ancien, dépassé.