

**LE NOMBRE
DU JOUR**

CM2

Le nombre du jour n°1



Écris-le en chiffres : _____

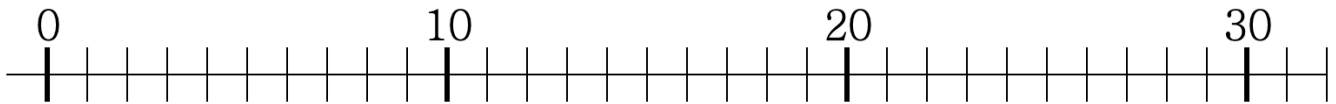
Décompose-le : _____

Quel est le nombre d'unités ? _____


Quel est le chiffre des unités ? _____

Quel nombre vient juste avant ? _____

Place-le sur cette droite :



Le nombre du jour n°2



Écris-le en lettres : _____

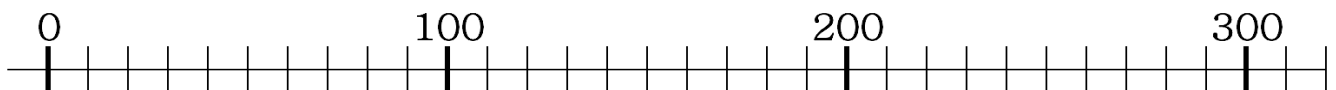
Décompose-le : _____

Quel est le nombre de dizaines ? _____

Quel est le chiffre des centaines ? _____

Quel nombre vient juste après ? _____

Place-le sur cette droite :



Le nombre du jour n°3



Écris-le en chiffres : _____

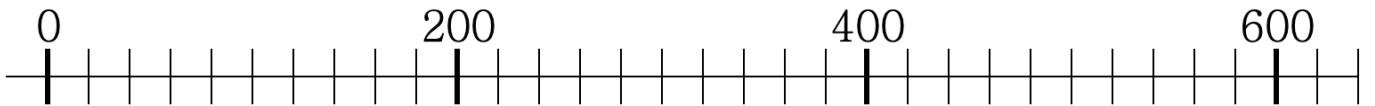
Décompose-le : _____

Quel est le nombre de centaines ? _____

Quel est le chiffre des dizaines ? _____

Quel nombre vient juste avant ? _____

Place-le sur cette droite :



Le nombre du jour n°4



Écris-le en lettres : _____

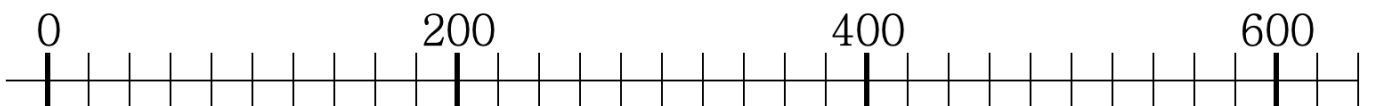
Décompose-le : _____

Quel est le nombre de dizaines ? _____

Quel est le chiffre des centaines ? _____

Quel nombre vient juste après ? _____

Place-le sur cette droite :



Le nombre du jour n°5



Écris-le en chiffres : _____

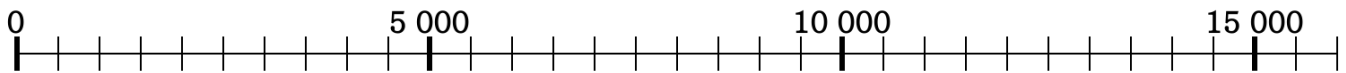
Décompose-le : _____

Quel est le nombre de centaines ? _____

Quel est le chiffre des dizaines ? _____

Quel nombre vient juste avant ? _____

Place-le sur cette droite :



Le nombre du jour n°6



Écris-le en lettres : _____

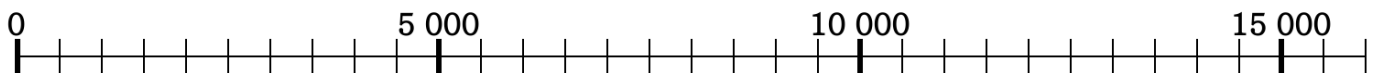
Décompose-le : _____

Quel est le nombre de dizaines ? _____

Quel est le chiffre des centaines ? _____

Quel nombre vient juste après ? _____

Place-le sur cette droite :



Le nombre du jour n°7



Écris-le en chiffres : _____

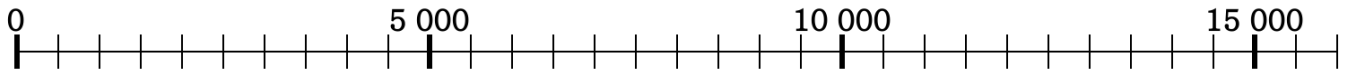
Décompose-le : _____

Quel est le nombre de centaines ? _____

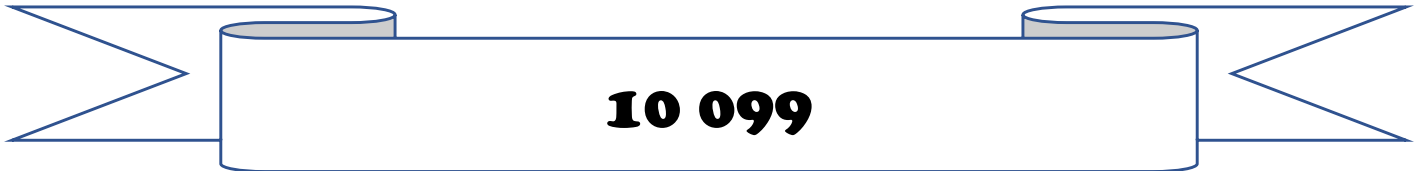
Quel est le chiffre des dizaines ? _____

Quel nombre vient juste avant ? _____

Place-le sur cette droite :



Le nombre du jour n°8



Écris-le en lettres : _____

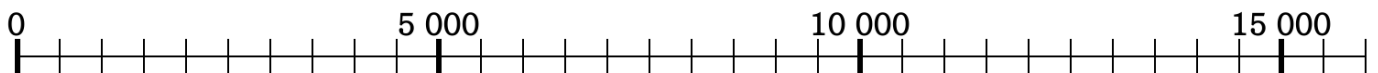
Décompose-le : _____

Quel est le nombre de dizaines ? _____

Quel est le chiffre des centaines ? _____

Quel nombre vient juste après ? _____

Place-le sur cette droite :



Le nombre du jour n°9



Écris-le en chiffres : _____

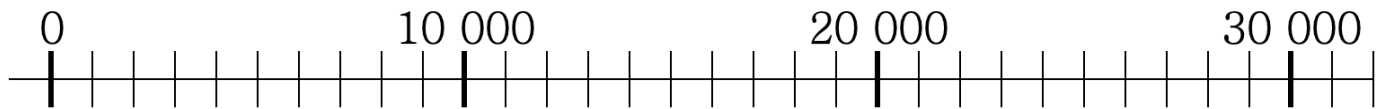
Décompose-le : _____

Quel est le nombre de centaines ? _____

Quel est le chiffre des dizaines ? _____

Quel nombre vient juste avant ? _____

Place-le sur cette droite :



Le nombre du jour n°10



Écris-le en lettres : _____

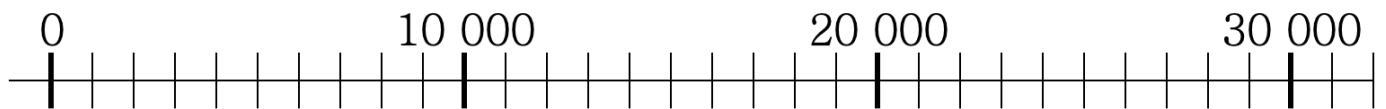
Décompose-le : _____

Quel est le nombre de dizaines ? _____

Quel est le chiffre des centaines ? _____

Quel nombre vient juste après ? _____

Place-le sur cette droite :



Le nombre du jour n°11

seize-mille-neuf-cent-seize

Écris-le en chiffres : _____

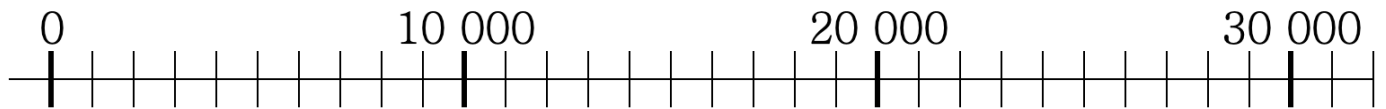
Décompose-le : _____

Quel est le nombre de dizaines ? _____

Quel est le chiffre des unités ? _____

Quel nombre vient juste après ? _____

Place-le sur cette droite :



Le nombre du jour n°12

14 099

Écris-le en lettres : _____

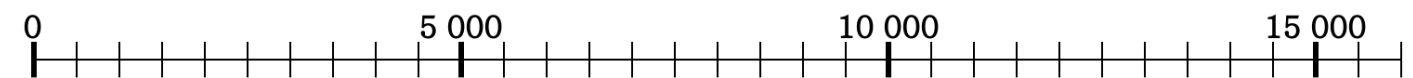
Décompose-le : _____

Quel est le nombre de dizaines ? _____

Quel est le chiffre des centaines ? _____

Quel nombre vient juste après ? _____

Place-le sur cette droite :



Le nombre du jour n°13

**deux-millions-six-cent-quatre-mille-
deux cent-huit**

Écris-le en chiffres : _____

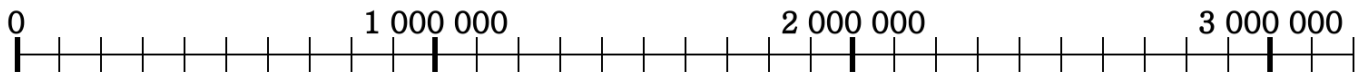
Décompose-le : _____

Quel est le nombre de centaines de mille ? _____

Quel est le chiffre des dizaines de mille ? _____

Quel nombre vient juste avant ? _____

Place-le sur cette droite :



Le nombre du jour n°14

5 202 804

Écris-le en lettres : _____


Décompose-le : _____

Quel est le nombre de dizaines de mille ? _____

Quel est le chiffre des centaines ? _____

Quel nombre vient juste après ? _____

Place-le sur cette droite :



Le nombre du jour n°15

quatre-millions-seize-mille-neuf-cent-seize

Écris-le en chiffres : _____

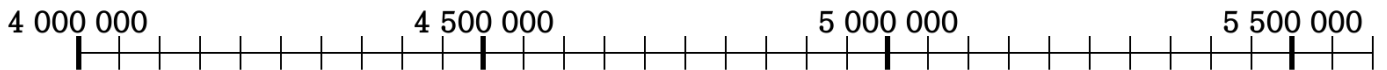
Décompose-le : _____

Quel est le nombre de dizaines ? _____

Quel est le chiffre des unités ? _____

Quel nombre vient juste avant ? _____

Place-le sur cette droite :



Le nombre du jour n°16

5 203 899

Écris-le en lettres : _____

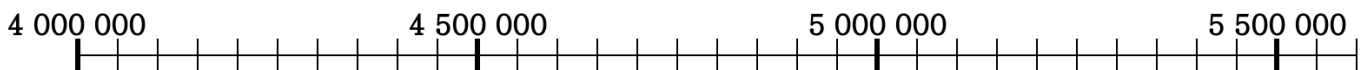
Décompose-le : _____

Quel est le nombre de dizaines ? _____

Quel est le chiffre des centaines ? _____

Quel nombre vient juste après ? _____

Place-le sur cette droite :



Le nombre du jour n°17

**quinze-milliards-trois-cent-
quarante-six-mille-quatre-vingt-**

Écris-le en chiffres : _____

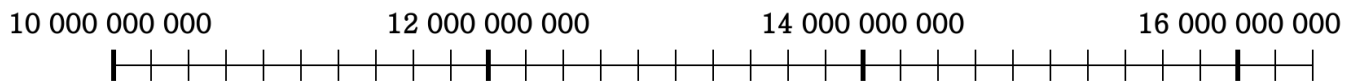
Décompose-le : _____

Quel est le nombre de centaines de millions ? _____

Quel est le chiffre des dizaines de mille ? _____

Quel nombre vient juste avant ? _____

Place-le sur cette droite :



Le nombre du jour n°18

13 054 000 999

Écris-le en lettres : _____

Décompose-le : _____

Quel est le nombre de centaines de mille ? _____

Quel est le chiffre des millions ? _____

Quel nombre vient juste après ? _____

Place-le sur cette droite :



Le nombre du jour n°19

neuf-milliards-trois-cent-dix-millions

Écris-le en chiffres : _____

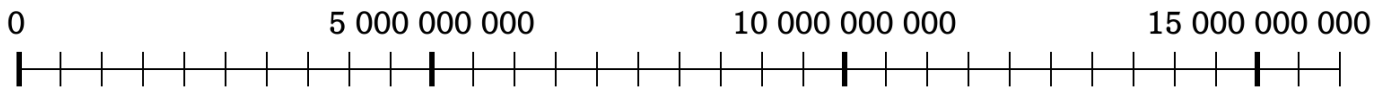
Décompose-le : _____

Quel est le nombre de dizaines de mille ? _____

Quel est le chiffre des centaines de millions ? _____

Quel nombre vient juste avant ? _____

Place-le sur cette droite :



Le nombre du jour n°20

12 981 004 056

Écris-le en lettres : _____

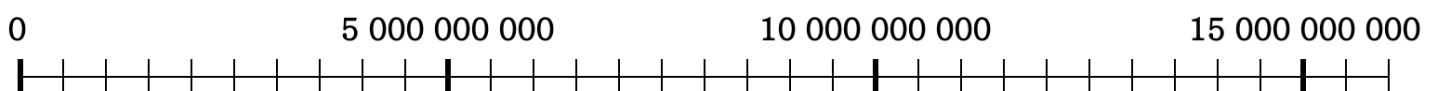
Décompose-le : _____

Quel est le nombre de dizaines ? _____

Quel est le chiffre des centaines ? _____

Quel nombre vient juste après ? _____

Place-le sur cette droite :



Le nombre du jour n°21



Écris-la en chiffres :

Est-elle plus grande que 1 ? _____

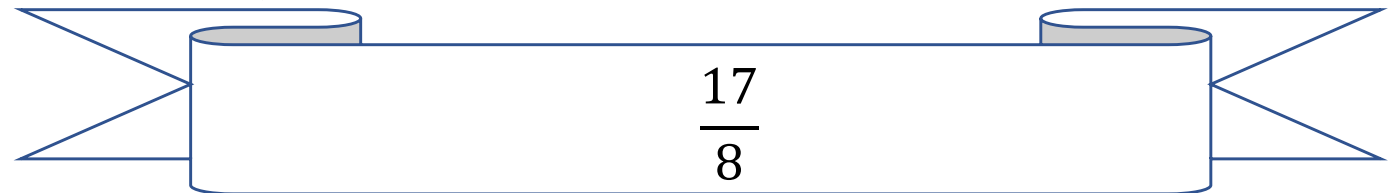
Décompose-la en somme d'un entier et d'une fraction :

Encadre-le entre deux entiers :

Place-la sur la droite :



Le nombre du jour n°22



Écris-la en lettres : _____

Est-elle plus grande que 1 ? _____

Décompose-la en somme d'un entier et d'une fraction :

Encadre-le entre deux entiers :

Place-la sur la droite :



Le nombre du jour n°23



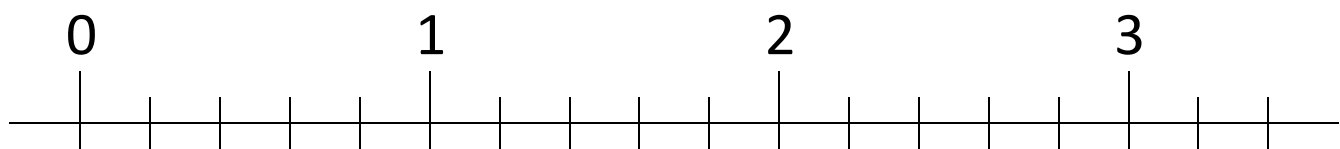
Écris-la en chiffres :

Est-elle plus grande que 1 ? _____

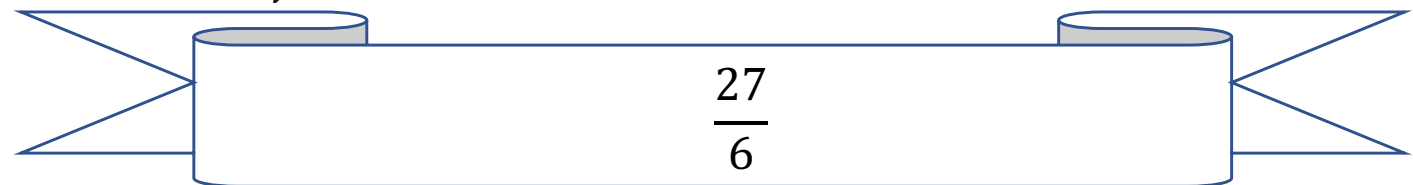
Décompose-la en somme d'un entier et d'une fraction :

Encadre-le entre deux entiers :

Place-la sur la droite :



Le nombre du jour n°24



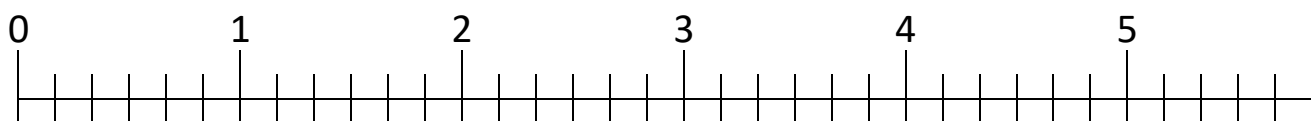
Écris-la en lettres : _____

Est-elle plus grande que 1 ? _____

Décompose-la en somme d'un entier et d'une fraction :

Encadre-le entre deux entiers :

Place-la sur la droite :



Le nombre du jour n°25



Écris-la en chiffres :

Est-elle plus grande que 1 ? _____

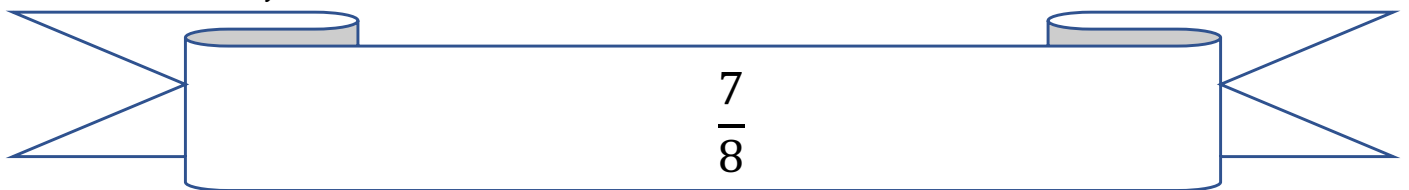
Décompose-la en somme d'un entier et d'une fraction :

Encadre-le entre deux entiers :

Place-la sur la droite :



Le nombre du jour n°26



Écris-la en lettres : _____

Est-elle plus grande que 1 ? _____

Décompose-la en somme d'un entier et d'une fraction :

Encadre-le entre deux entiers :

Place-la sur la droite :



Le nombre du jour n°27



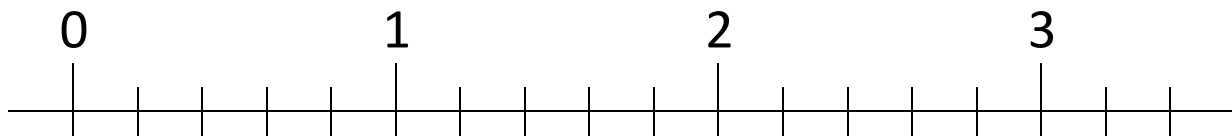
Écris-la en chiffres :

Est-elle plus grande que 1 ? _____

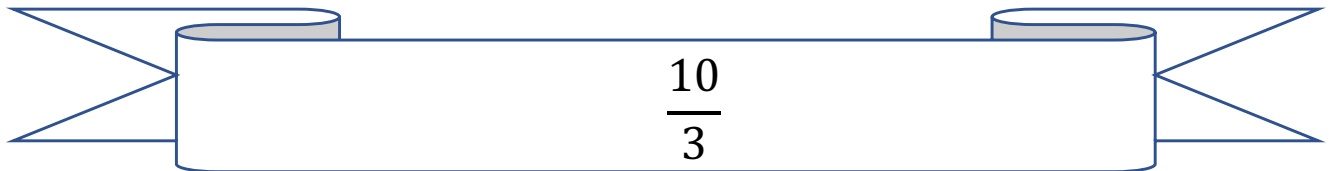
Décompose-la en somme d'un entier et d'une fraction :

Encadre-le entre deux entiers :

Place-la sur la droite :



Le nombre du jour n°28



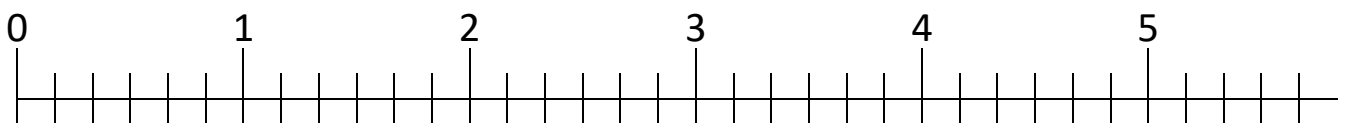
Écris-la en lettres : _____

Est-elle plus grande que 1 ? _____

Décompose-la en somme d'un entier et d'une fraction :

Encadre-le entre deux entiers :

Place-la sur la droite :



Le nombre du jour n°29




Écris-la en chiffres :

Est-elle plus grande que 1 ? _____

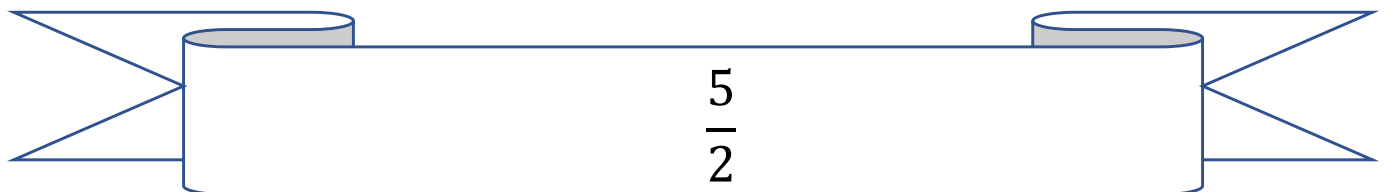
Décompose-la en somme d'un entier et d'une fraction :

Encadre-le entre deux entiers :

Place-la sur la droite :



Le nombre du jour n°30



Écris-la en lettres : _____

Est-elle plus grande que 1 ? _____

Décompose-la en somme d'un entier et d'une fraction :

Encadre-le entre deux entiers :

Place-la sur la droite :



Le nombre du jour n°31



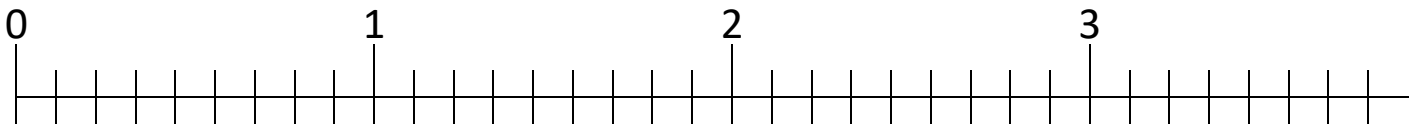
Écris-la en chiffres :

Est-elle plus grande que 1 ? _____

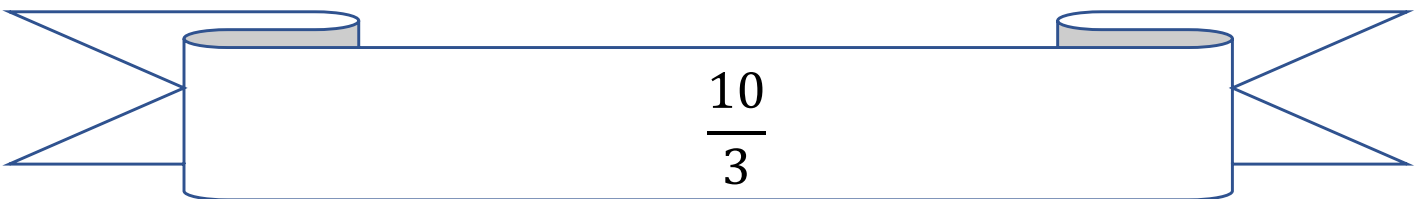
Décompose-la en somme d'un entier et d'une fraction :

Encadre-le entre deux entiers :

Place-la sur la droite :



Le nombre du jour n°32



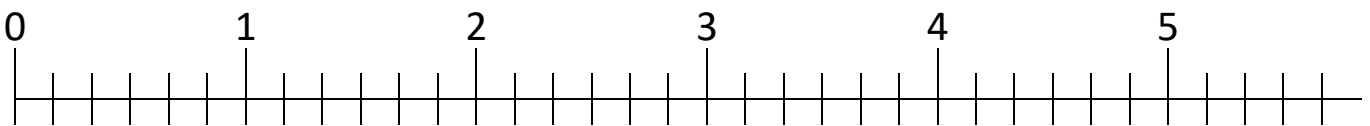
Écris-la en lettres : _____

Est-elle plus grande que 1 ? _____

Décompose-la en somme d'un entier et d'une fraction :

Encadre-le entre deux entiers :

Place-la sur la droite :



Le nombre du jour n°33



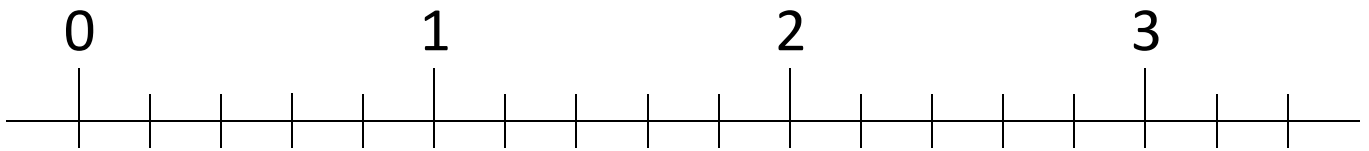
Écris-la en chiffres :

Est-elle plus grande que 1 ? _____

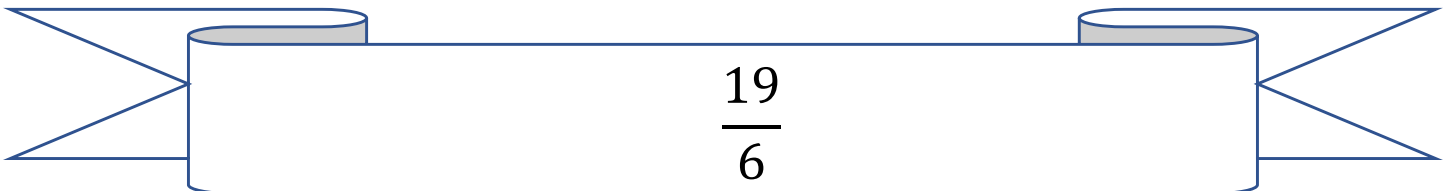
Décompose-la en somme d'un entier et d'une fraction :

Encadre-le entre deux entiers :

Place-la sur la droite :



Le nombre du jour n°34



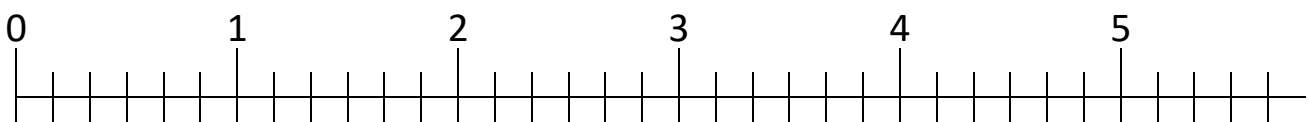
Écris-la en lettres : _____

Est-elle plus grande que 1 ? _____

Décompose-la en somme d'un entier et d'une fraction :

Encadre-le entre deux entiers :

Place-la sur la droite :



Le nombre du jour n°35



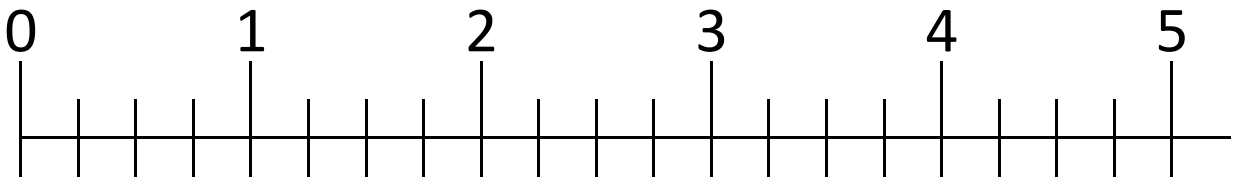
Écris-la en chiffres :

Est-elle plus grande que 1 ? _____

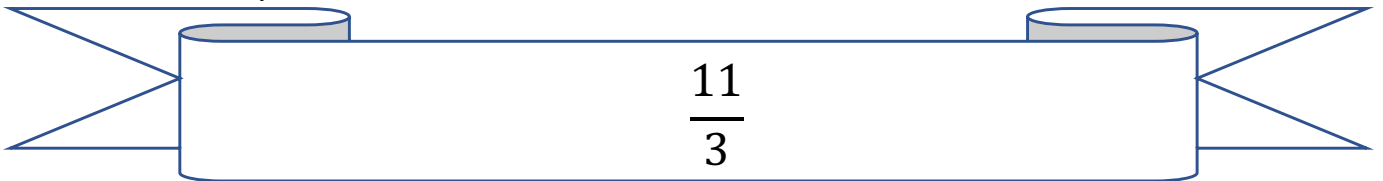
Décompose-la en somme d'un entier et d'une fraction :

Encadre-le entre deux entiers :

Place-la sur la droite :



Le nombre du jour n°36



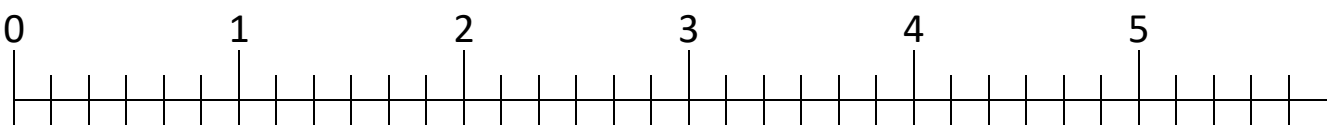
Écris-la en lettres : _____

Est-elle plus grande que 1 ? _____

Décompose-la en somme d'un entier et d'une fraction :

Encadre-le entre deux entiers :

Place-la sur la droite :



Le nombre du jour n°37



Écris-le en chiffres : _____

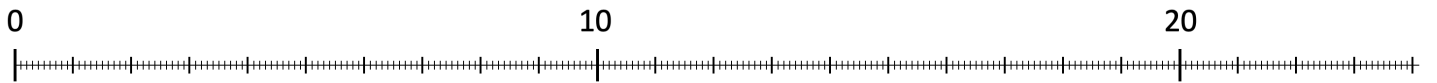
Écris-le sous forme de fractions :

Décompose-le : _____

Encadre-le entre deux entiers : _____ < _____ < _____

Arrondis-le au dixième supérieur : _____

Place-la sur la droite :



Le nombre du jour n°38



Écris-le en lettres : _____

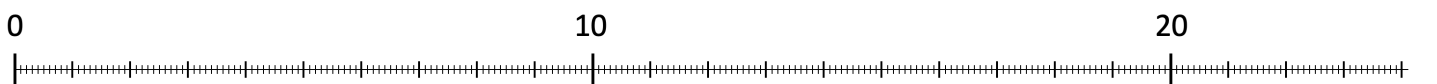
Écris-le sous forme de fractions :

Décompose-le : _____

Encadre-le entre deux entiers : _____ < 19,6 < _____

Arrondis-le au dixième supérieur : _____

Place-la sur la droite :



Le nombre du jour n°39

quatorze unités et huit dixièmes

Écris-le en chiffres : _____

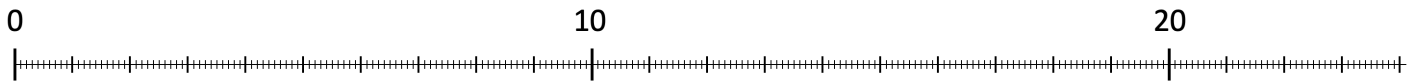
Écris-le sous forme de fractions :

Décompose-le : _____

Encadre-le entre deux entiers : _____ < _____ < _____

Arrondis-le au dixième supérieur : _____

Place-la sur la droite :



Le nombre du jour n°40

8,9

Écris-le en lettres : _____


Écris-le sous forme de fractions :

Décompose-le : _____

Encadre-le entre deux entiers : _____ < 19,6 < _____

Arrondis-le au dixième supérieur : _____

Place-la sur la droite :



Le nombre du jour n°41

deux dizaines trois unités et quatre dixièmes

Écris-le en chiffres : _____


Écris-le sous forme de fractions :

Décompose-le : _____

Encadre-le entre deux entiers : _____ < _____ < _____

Arrondis-le au dixième supérieur : _____

Place-la sur la droite :



Le nombre du jour n°42

14,9

Écris-le en lettres : _____

Écris-le sous forme de fractions :

Décompose-le : _____

Encadre-le entre deux entiers : _____ < 14,9 < _____

Arrondis-le au dixième supérieur : _____

Place-la sur la droite :



Le nombre du jour n°43



Écris-le en chiffres : _____


Écris-le sous forme de fractions :

Décompose-le : _____

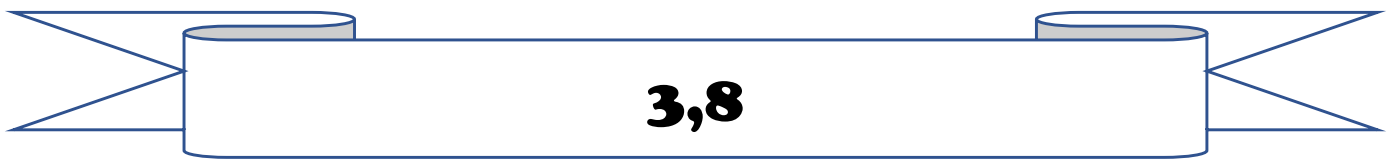
Encadre-le entre deux entiers : _____ < _____ < _____

Arrondis-le au dixième supérieur : _____

Place-la sur la droite :



Le nombre du jour n°44



Écris-le en lettres : _____

Écris-le sous forme de fractions :

Décompose-le : _____


Encadre-le entre deux entiers : _____ < 3,8 < _____

Arrondis-le au dixième supérieur : _____

Place-la sur la droite :



Le nombre du jour n°45



Écris-le en lettres : _____

Écris-le sous forme de fractions :

Décompose-le : _____

Encadre-le entre deux entiers : _____ $< 9,67 <$ _____

Arrondis-le au dixième supérieur : _____

Place-la sur la droite :



Le nombre du jour n°46



Écris-le en chiffres : _____

Écris-le sous forme de fractions :

Décompose-le : _____

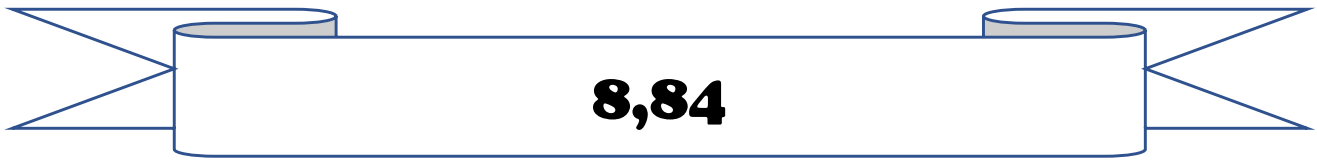
Encadre-le entre deux entiers : _____ $<$ _____ $<$ _____

Arrondis-le au dixième supérieur : _____

Place-la sur la droite :



Le nombre du jour n°47



Écris-le en lettres : _____


Écris-le sous forme de fractions :

Décompose-le : _____

Encadre-le entre deux entiers : _____ < 8,84 < _____

Arrondis-le au dixième supérieur : _____

Place-la sur la droite :



Le nombre du jour n°48



Écris-le en chiffres : _____

Écris-le sous forme de fractions :

Décompose-le : _____


Encadre-le entre deux entiers : _____ < _____ < _____

Arrondis-le au dixième supérieur : _____

Place-la sur la droite :



Le nombre du jour n°49



Écris-le en lettres : _____

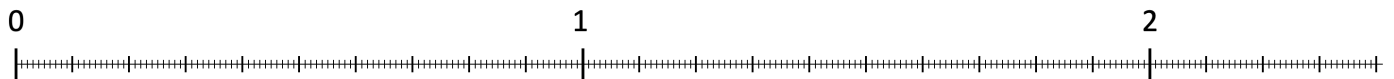
Écris-le sous forme de fractions :

Décompose-le : _____

Encadre-le entre deux entiers : _____ $< 2,17 <$ _____

Arrondis-le au dixième supérieur : _____

Place-la sur la droite :



Le nombre du jour n°50



Écris-le en chiffres : _____

Écris-le sous forme de fractions :

Décompose-le : _____

Encadre-le entre deux entiers : _____ $<$ _____ $<$ _____

Arrondis-le au dixième supérieur : _____

Place-la sur la droite :



Le nombre du jour n°51



Écris-le en lettres : _____


Écris-le sous forme de fractions : _____

Décompose-le : _____

Encadre-le entre deux entiers : _____ $< 28,78 <$ _____

Arrondis-le au dixième supérieur : _____

Place-la sur la droite :



Le nombre du jour n°52



Écris-le en lettres : _____

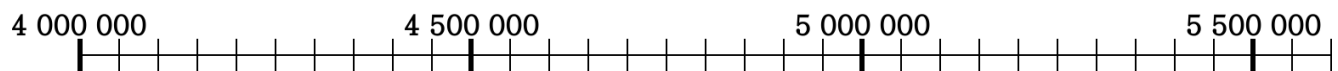
Décompose-le : _____

Quel est le nombre de dizaines ? _____

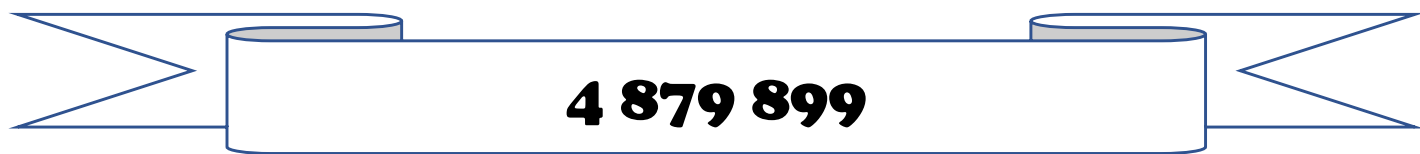
Quel est le chiffre des centaines ? _____

Quel nombre vient juste après ? _____

Place-le sur cette droite :



Le nombre du jour n°53



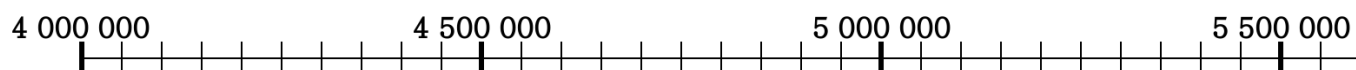
Écris-le en lettres : _____

Décompose-le : _____

Quel est le nombre de dizaines ? _____

Quel est le chiffre des centaines ? _____

Quel nombre vient juste après ? _____



Le nombre du jour n°54



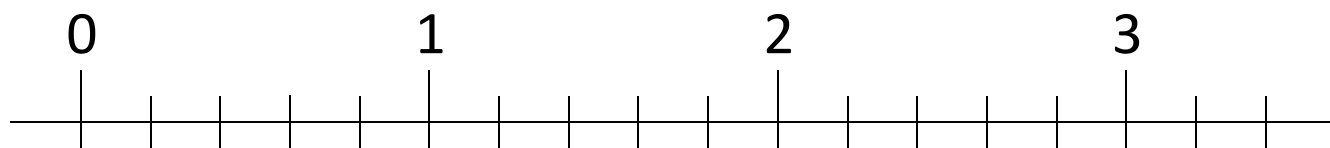
Écris-la en chiffres :

Est-elle plus grande que 1 ? _____

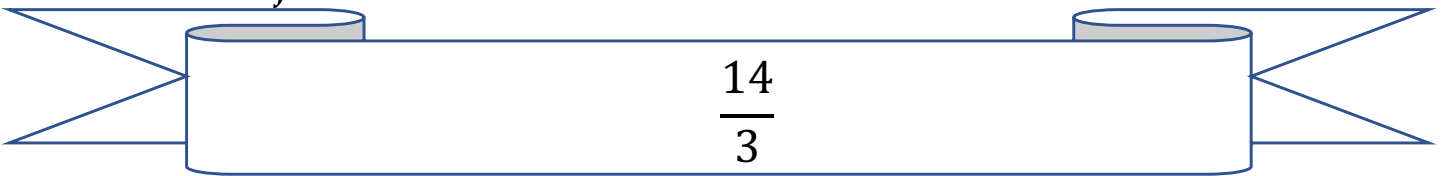
Décompose-la en somme d'un entier et d'une fraction :

Encadre-le entre deux entiers :

Place-la sur la droite :



Le nombre du jour n°55



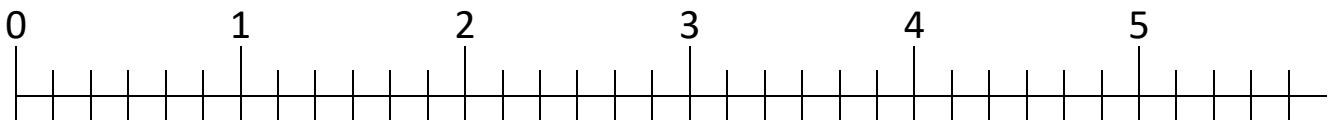
Écris-la en lettres : _____

Est-elle plus grande que 1 ? _____

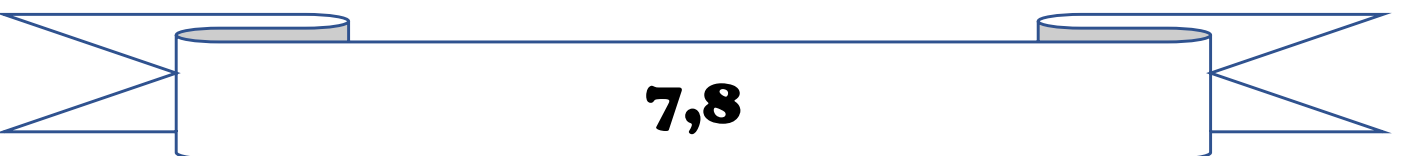
Décompose-la en somme d'un entier et d'une fraction :

Encadre-le entre deux entiers :

Place-la sur la droite :



Le nombre du jour n°56




Écris-le en lettres : _____

Écris-le sous forme de fractions :

Décompose-le : _____

Encadre-le entre deux entiers : _____ $< 7,8 <$ _____

Arrondis-le au dixième supérieur : _____



Le nombre du jour n°57



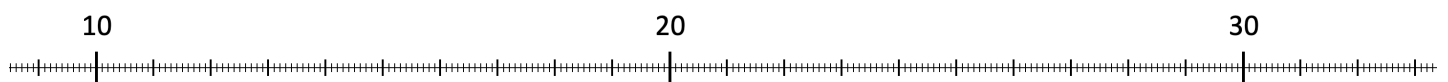
Écris-le en lettres : _____

Écris-le sous forme de fractions :

Décompose-le : _____

Encadre-le entre deux entiers : _____ $<$ 25,97 $<$ _____

Arrondis-le au dixième supérieur : _____



Le nombre du jour n°58



Écris-le en chiffres : _____

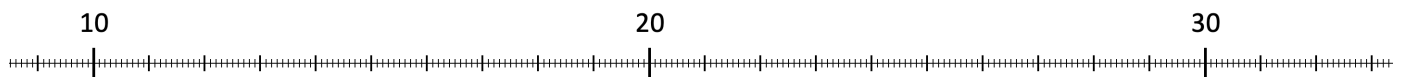
Écris-le sous forme de fractions :

Décompose-le : _____

Encadre-le entre deux entiers : _____ $<$ _____ $<$ _____

Arrondis-le au dixième supérieur : _____

Place-la sur la droite :



Le nombre du jour n°59



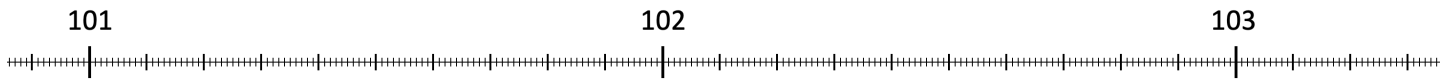
Écris-le en lettres : _____

Écris-le sous forme de fractions :

Décompose-le : _____

Encadre-le entre deux entiers : _____ $<$ 102,56 $<$ _____

Arrondis-le au dixième supérieur : _____



Le nombre du jour n°60



Écris-le en chiffres : _____

Écris-le sous forme de fractions :

Décompose-le : _____

Encadre-le entre deux entiers : _____ $<$ _____ $<$ _____

Arrondis-le au dixième supérieur : _____

Place-la sur la droite :

