







EVALUATION DE « QUESTIONNER LE MONDE » :

LE TEMPS 2



Se repérer dans un calendrier : découvrir l'histoire du calendrier. (ex 1)	
Se repérer dans un calendrier : connaître la date et le calendrier. (ex 2)	
Lire et écrire les nombres en chiffres romains. (et 3)	
Lire et écrire les siècles. (ex 4)	

**Ex 1 : Complète les vignettes suivantes :**

 <p>Les hommes inventent le _____.</p>	 <p>Puis les hommes ont inventé les premières _____ qui tournaient grâce à des roues crantées et des ressorts.</p>
 <p>Pour savoir l'heure dans la nuit, les hommes inventent la _____ (On fait couler de l'eau d'un pot dans un autre.)</p>	 <p>Pour mesurer les heures, les Egyptiens inventent le _____.</p>
 <p>Aujourd'hui, ces horloges sont de plus en plus petites. On les appelle des _____.</p>	 <p>Les hommes découvrent les _____ grâce à la pleine Lune.</p>

**Ex 2 : Réponds aux questions suivantes :**

- A) L'année scolaire commence en ..... et se termine en .....
- B) Comment nomme-t-on les événements qui se sont produits avant la naissance de Jésus-Christ ?  
→ ..... → .....
- C) L'année civile commence le ..... et se termine le .....
- D) Quel calendrier utilise-t-on ? .....

E) Quand débute ce calendrier ? .....

**Ex 3 : Écris les nombres suivants en chiffres romains ou en chiffres arabes.**

<b>3</b>	.....	.....	<b>VI</b>	<b>100</b>	.....
.....	<b>X</b>	<b>20</b>	.....	.....	<b>XII</b>
<b>50</b>	.....	.....	<b>D</b>	<b>8</b>	.....
.....	<b>IV</b>	<b>18</b>	.....	.....	<b>V</b>
<b>1000</b>	.....	.....	<b>IX</b>	<b>19</b>	.....

**Ex 4 : Pour chacune des dates, écris en chiffres romains à quel siècle elle appartient:**

- a) 1789 appartient au ..... siècle.
- b) 1944 appartient au ..... siècle.
- c) 1848 appartient au ..... siècle.
- d) 1492 appartient au ..... siècle.
- e) 1632 appartient au ..... siècle.
- f) 2001 appartient au ..... siècle.
- g) 547 appartient au ..... siècle.
- h) 923 appartient au ..... siècle.
- i) 800 appartient au ..... siècle.
- j) 1000 appartient au ..... siècle.

**BONUS : Réponds aux questions suivantes :**

1) Numérote les événements suivants dans le bon ordre.

- \_ Au Moyen Age, on fait brûler des bougies graduées.      \_ Pour mesurer le temps, les hommes comptent les jours et les nuits.
- \_ Les hommes découvrent les heures.                              \_ Les hommes comptent les années grâce aux saisons.

2) Chaque année, ton anniversaire tombera-t-il le même jour de la semaine ? Pourquoi ? .....

.....

.....

.....

3) Écris les nombres suivants en chiffres romains ou en chiffres arabes.

<b>58</b>	.....	.....	<b>MII</b>	<b>106</b>	.....
.....	<b>LX</b>	<b>30</b>	.....	.....	<b>XXXIV</b>

4) Pour chacune des dates, écris en chiffres romains à quel millénaire elle appartient :

- \_ 2000 appartient au ..... millénaire.
- \_ 800 appartient au ..... millénaire.
- \_ 2018 appartient au ..... millénaire.
- \_ 1000 appartient au ..... millénaire.
- \_ 1789 appartient au ..... millénaire.