


On utilise la monnaie pour acheter et **payer**.  
Notre monnaie est l'**euro** que l'on note **€**.


## Les centimes



## Les euros



## Les billets



Je retiens :


- 1 € = 100 pièces de 1 centime.
- 1 € = 10 pièces de 10 centimes.
- 100 € = 100 pièces de 1 €
- 100 € = 10 billets de 10 €

On utilise la monnaie pour acheter et **payer**.  
Notre monnaie est l'**euro** que l'on note **€**.

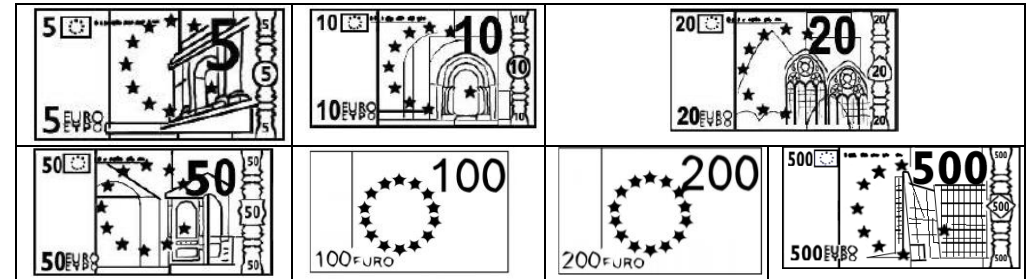
## Les centimes



## Les euros



## Les billets



Je retiens :

- 1 € = 100 pièces de 1 centime.
- 1 € = 10 pièces de 10 centimes.
- 100 € = 100 pièces de 1 €
- 100 € = 10 billets de 10 €