



Problèmes : Trouver la bonne opération

1 Ecris la bonne opération :

1. Djibril a 34 timbres. Clara en a 16 de moins.
Combien de timbres Clara possède-t-elle ?



2. Amar récolte 145 kg de pommes,
230 kg de poires et 85 kg de prunes.
Quelle masse de fruits a-t-il récoltés ?



3. Dans la classe, il y a 23 élèves. La maîtresse
distribue 5 feuilles de papier à chaque élève.
Combien lui faut-il de feuilles ?



Prénom : _____

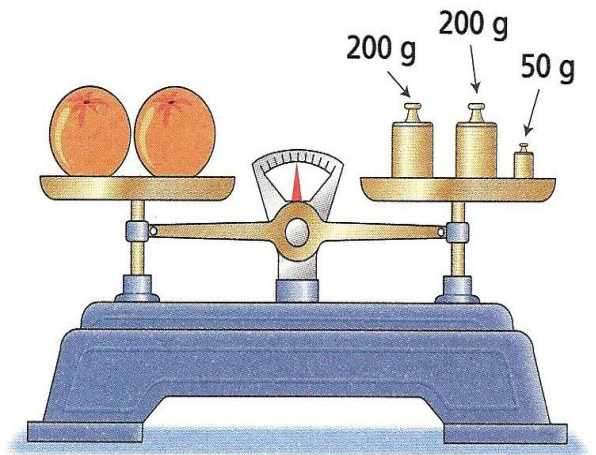
Date: _____

Problèmes : Trouver la bonne opération

3 Ecris la bonne opération :

1. Quelle est la masse des deux oranges ?

Quelle est la masse d'une orange ?



.....

2. Leila a une boîte de 50 cubes. Elle réalise la construction ci-contre.
Combien de cubes a-t-elle utilisés ?

Combien de cubes lui reste-t-il ?

