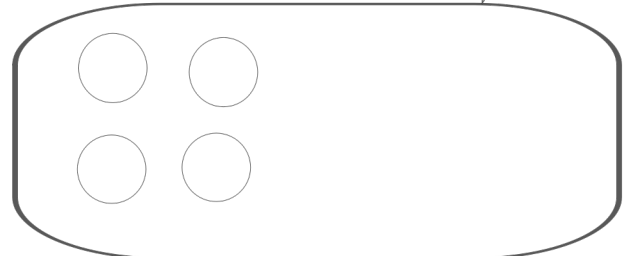


Prénom :

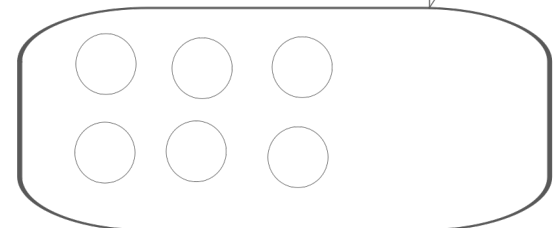
Complète le dessin pour obtenir le nombre demandé puis complète l'égalité.

9



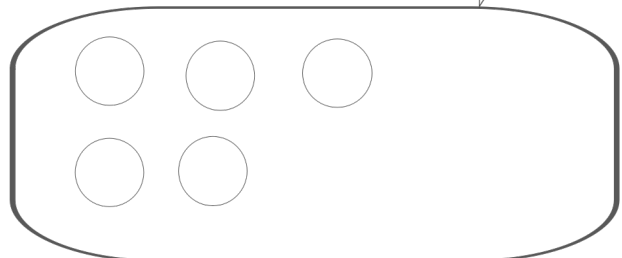
$4 + \dots = 9$

8




$6 + \dots = 8$

10



$5 + \dots =$

7



$\dots + \dots =$

Entoure si oui ou non, la somme fait 10.

$3 + 2 + 3 + 2 = 10$

oui

non

$5 + 1 + 2 + 2 = 10$

oui

non

$4 + 2 + 2 + 3 = 10$

oui

non

$6 + 4 = 10$

oui

non

$7 + 2 + 2 = 10$

oui

non

$1 + 3 + 2 + 3 = 10$

oui

non