

GESTION DES DONNEES

Dans ce tableau, la directrice a écrit combien d'enfants mangent à la cantine.




	Cantine 2 ^{ème} semaine d'octobre				
	CP	CE1	CE2	CM1	CM2
lundi	2	5	3	5	9
mardi	3	7	4	3	8
jeudi	3	8	5	4	9
vendredi	2	5	3	5	10

Quel jour, 7 élèves du CE1 mangent à la cantine ?

GESTION DES DONNEES

Trouve la réponse.



Mardi

GESTION DES DONNEES

Dans ce tableau, la directrice a écrit combien d'enfants mangent à la cantine.




	Cantine 2 ^{ème} semaine d'octobre				
	CP	CE1	CE2	CM1	CM2
lundi	2	5	3	5	9
mardi	3	7	4	3	8
jeudi	3	8	5	4	9
vendredi	2	5	3	5	10

Le jeudi, 10 élèves du CM2 vont à la cantine.
VRAI ou **FAUX** ?

GESTION DES DONNEES

Trouve la réponse.



FAUX

GESTION DES DONNEES

Dans ce tableau, la directrice a écrit combien d'enfants mangent à la cantine.




	Cantine 2 ^{ème} semaine d'octobre				
	CP	CE1	CE2	CM1	CM2
lundi	2	5	3	5	9
mardi	3	7	4	3	8
jeudi	3	8	5	4	9
vendredi	2	5	3	5	10

Le vendredi, il y a autant d'élèves de CE1 que de CM1 qui mangent à la cantine ?
VRAI ou **FAUX**

GESTION DES DONNEES

Trouve la réponse.



VRAI