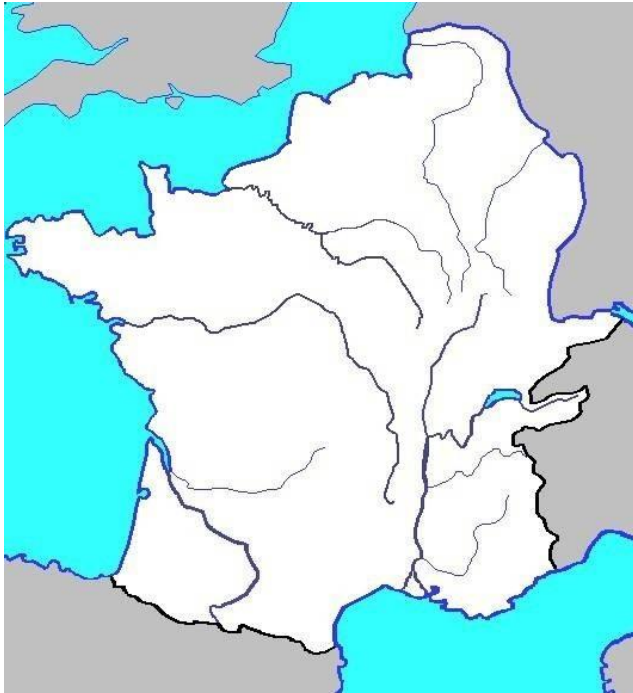


LA CONQUETE DE LA GAULE



- Colorie en orange les territoires gaulois
- Colorie en mauve les territoires romains
- Trace la marche de troupes romaines
- Représente sur la carte Alésia

Qui a conquis la Gaule ?



Qui est représenté sur cette pièce de monnaie ?


Que sais-tu de lui ?

.....
.....



Qui sont les personnages représentés par Lionel-Noël Royer dans ce tableau ?

Donne le nom de ces vestiges romains



.....

.....






.....



En 52 avant Jésus Christ, Vercingétorix se rend à César après la défaite à Alésia.

POUR LE CAHIER DES ELEVES





LA CONQUETE DE LA GAULE

En 52 avant notre ère, **la Gaule** est conquise par les Romains, après **la victoire de Jules César sur Vercingétorix à Alésia**.

Après cette conquête, la Gaule devient une partie de l'Empire Romain. Ses habitants adoptent **une partie de la manière de vivre des Romains**.

De nombreuses **villes** sont créées et reliées entre elles par un **réseau de routes pavées**. Les villes s'ornent de construction de pierre comme les **acqueducs**.

Les **grands domaines** se multiplient à la campagne. La **villa** où réside le riche propriétaire est parfois un véritable palais.

LA CONQUETE DE LA GAULE

En 52 avant notre ère, **la Gaule** est conquise par les Romains, après **la victoire de Jules César sur Vercingétorix à Alésia**.

Après cette conquête, la Gaule devient une partie de l'Empire Romain. Ses habitants adoptent **une partie de la manière de vivre des Romains**.

De nombreuses **villes** sont créées et reliées entre elles par un **réseau de routes pavées**. Les villes s'ornent de construction de pierre comme les **acqueducs**.

Les **grands domaines** se multiplient à la campagne. La **villa** où réside le riche propriétaire est parfois un véritable palais.

LA CONQUETE DE LA GAULE

En 52 avant notre ère, **la Gaule** est conquise par les Romains, après **la victoire de Jules César sur Vercingétorix à Alésia**.

Après cette conquête, la Gaule devient une partie de l'Empire Romain. Ses habitants adoptent **une partie de la manière de vivre des Romains**.

De nombreuses **villes** sont créées et reliées entre elles par un **réseau de routes pavées**. Les villes s'ornent de construction de pierre comme les **acqueducs**.

Les **grands domaines** se multiplient à la campagne. La **villa** où réside le riche propriétaire est parfois un véritable palais.