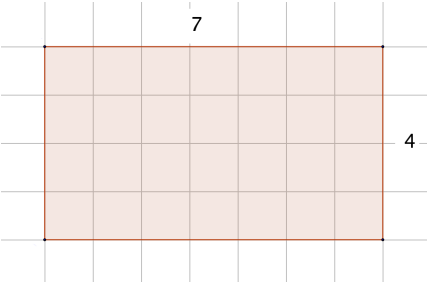


Prénom		Evaluation CM2		Date		
MATHS	Grandeurs et mesures	Calculer l'aire d'un polygone en utilisant les formules adaptées.			A	EA
					NA	

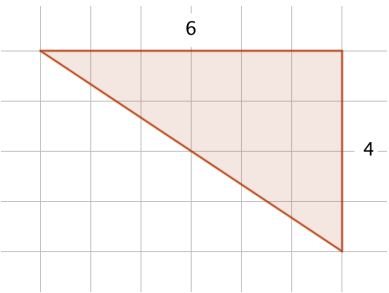
Calcule le périmètre et l'aire de chacune des figures suivantes en utilisant les formules que nous avons apprises.

Remarque : Les mesures sont en cm (les dessins ne sont pas à l'échelle)



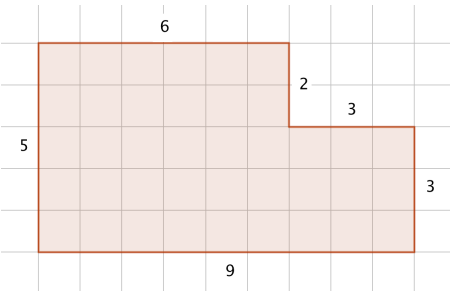
Périmètre :
.....

Aire :
.....



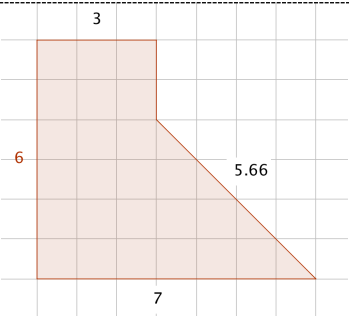
Périmètre :
.....

Aire :
.....



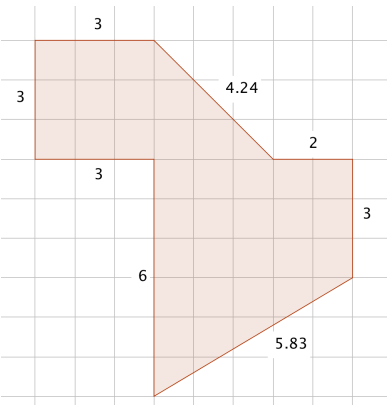
Périmètre :
.....

Aire :
.....



Périmètre :
.....

Aire :
.....



Périmètre :
.....

Aire :
.....