

Planning de travail _ CM2

Lundi 25 mai

Voici le programme pour ce lundi :

1. Dictée flash

Sur une feuille, écris la phrase dictée par un adulte. Dans cette phrase :



- entoure en rouge le verbe conjugué, note son infinitif, son groupe et le temps de conjugaison
- souligne en bleu le sujet, note sa nature et précise par quel pronom on peut le remplacer.
- souligne en vert, les compléments circonstanciels et note en dessous CCL (s'il s'agit d'un complément circonstanciel de lieu), CCT (s'il s'agit d'un complément circonstanciel de temps), CCM (s'il s'agit d'un complément circonstanciel de manière).

2. Français

- Les adverbes

Tu feras les exercices 4 et 5 p.102.

- Le pluriel des adjectifs

Avant de commencer les exercices, tu liras le texte du « cherchons » p.130 et tu répondras aux questions oralement. Ensuite, tu liras le « je retiens » page 130. Puis, tu feras les exercices 2 et 3 p. 130.

Pour l'exercice 3, tu dois recopier le texte, souligner les adjectifs et indique sous chacun le genre et le nombre.

Pour compléter le « je retiens », tu pourras aussi regarder la vidéo des fondamentaux de Canopé. Clique sur le lien : <https://lesfondamentaux.reseau-canope.fr/video/les-accords-de-ladjectif-qualificatif-au-pluriel.html>

- Les compléments circonstanciels ou compléments de phrase

Tu commenceras la fiche de travail_ les compléments de phrase (parcours 2)

Tu auras un temps de prévu dans le planning jeudi pour la finir. Si tu ne peux pas imprimer, tu recopieras les exercices sur une feuille.

3. Mathématiques

- Calculer des durées

Pour t'entraîner, tu pourras faire le jeu en ligne sur le calcul de durées. Clique sur le lien : https://www.logicieleducatif.fr/math/problemes/pb_tps.php (clique sur niveau 1)

- Les programmes de construction

Tu feras les exercices de la page suivante.

Si tu ne peux pas imprimer le document page suivante, voici comment rédiger tes réponses sur ta feuille

Exercice 1 :

Programme 1 : figure

Programme 2 : figure ...

Programme 3 : figure

Exercice 2

Tu recopies le programme de construction

Exercice 3

Tu écris le programme de construction

Le programme de construction

1. **Colorie** d'une même couleur le programme de construction et la figure qui lui correspond.

1

Trace un carré ABCD. Trace ses diagonales, elles se coupent en M. Place le milieu E du segment [AB]. Trace le cercle de centre M et de rayon [MA].

2

Trace un carré ABCD. Trace ses diagonales, elles se coupent en M. Place le milieu E du segment [AB]. Trace le cercle de centre B et de rayon [BE].

3

Trace un carré ABCD. Trace ses diagonales, elles se coupent en M. Place le milieu E du segment [AB]. Trace le cercle de centre M et de rayon [ME].

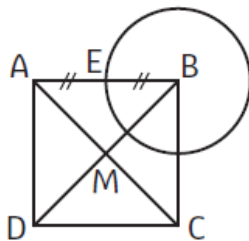


Figure A

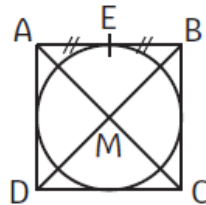


Figure B

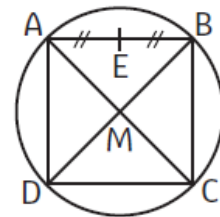


Figure C

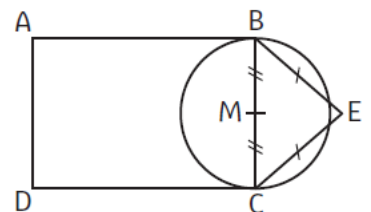
2. **Complète** ce programme de construction avec des mots de géométrie.

Trace un ABCD tel que $AB = 3 \text{ cm}$ et $BC = 2 \text{ cm}$.

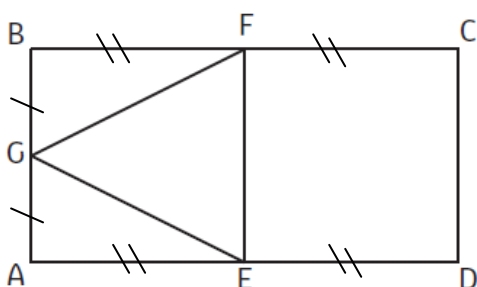
Construis le BCE en E tel que $BE = CE = 1,5 \text{ cm}$.

Place le M de [BC]

Trace le de M et de [MB].



3. **Observe** la figure et **écris** son programme de construction, **utilise** les mots : tracer, placer, segment, milieu et rectangle. (observe bien le codage, il n'y a rien à mesurer)



1.
 2.
 3.