

Rallye pédestre :

A la découverte de
mon village




Carnet de route de :

.....

Là, tu es prêt à partir en expédition.

1° Pars à la recherche d'une boîte qui t'aidera à trouver ton chemin. Celle-ci se trouve dans un rayon de 5 mètres autour de la porte d'entrée de l'école.

2° Ca y est ! Tu l'as trouvée... Super ! Distribue cet instrument (1 pour 2) et complète la rose des vents.



3° Face à la grille de l'école, tu devras partir vers le S.O. Pour cela, place la boussole à plat sur la paume de ta main. Tourne-la pour trouver le nord et dirige-toi ensuite dans la bonne direction.

4° Au carrefour, dirige-toi vers le S.E.

Avance jusqu'au numéro 18 de cette rue.



Comment cela s'appelle-t-il ? un

A quoi cela servait-il ?

.....

5° Continue tout droit jusqu'au « R^{au} ».

- Qu'est-ce qu'un R^{au} ?
- Quel est son nom ?
- Quel est le sens du courant ? Place une flèche sur la photographie. Ecris les mots AMONT et AVAL au bon endroit. Où se trouvent la rive gauche (R.G.) et la rive droite (R.D.) ?



Par définition, l'eau coule de l'amont vers l'aval.

6° Fais demi-tour et avance jusqu'au panneau ci-dessous :



Un panneau triangulaire signifie :

.....




La croix au centre du panneau indique

.....

7° Avance jusqu'au carrefour et dirige-toi vers le nord.

8° Fais environ une vingtaine de mètres avant de te diriger vers le N.O.

9° Suis la route. Sur ton chemin, sois observateur et trouve le numéro des maisons des photographies suivantes.



10° Au carrefour, dirige-toi vers le S.E.

11° Tu arrives face à ce panneau.




Un panneau rond bordé de rouge indique

Le panneau signifie

.....

12° Continue ton chemin et trouve le numéro de cette maison.




13° Tu arrives sur la place. Place-toi à côté du lion dos à l'école. Prends ta boussole et complète.

« La gueule du lion est ouverte vers le »

14° Sur le mur de l'école maternelle, il y a une plaque commémorative. Complète-là :

..... -



.....

Né à

Mussy-la-Ville

.....

.....

15° Mets-toi dos à la plaque et dirige-toi avec ta boussole vers le S.O. Traverse au passage pour piétons. Sois prudent.

16° Arrête-toi devant ce panneau :



Que trouves-tu en ...

B 4 ?

C 2 ?

Où se trouve l'école primaire ? en

Où se trouve la rue du 113^e Régiment d'infanterie Français ? en à

Suis le ruisseau des écrevisses. Dans quel autre cours d'eau se jette-t-il ?

17° Avance jusqu'au prochain carrefour et prends la direction du S.O.

18° Avance jusqu'au prochain carrefour et note les directions de chaque route (près des flèches).



19° Tourne ensuite vers le sud et 30 mètres plus loin, tourne vers l'est.

20° Ton expédition est presque terminée. Avant de rentrer à l'école, colorie le chemin parcouru sur le plan.