

# L'INTÉRIEUR DE LA CLASSE

Date: \_\_\_\_\_

## A La photographie, le dessin

1  Entoure : l'image (A) est...

- une photographie
- un dessin
- une maquette

2  Coche ce que tu vois dans cette classe.

- le maître
- des tables
- des élèves
- des cartables
- le tableau




3  Entoure : l'image (B) est...

- une photographie
- un dessin
- une maquette

4  Coche ce que tu vois dans cette classe.


- le maître
- des tables
- des élèves
- des cartables
- le tableau



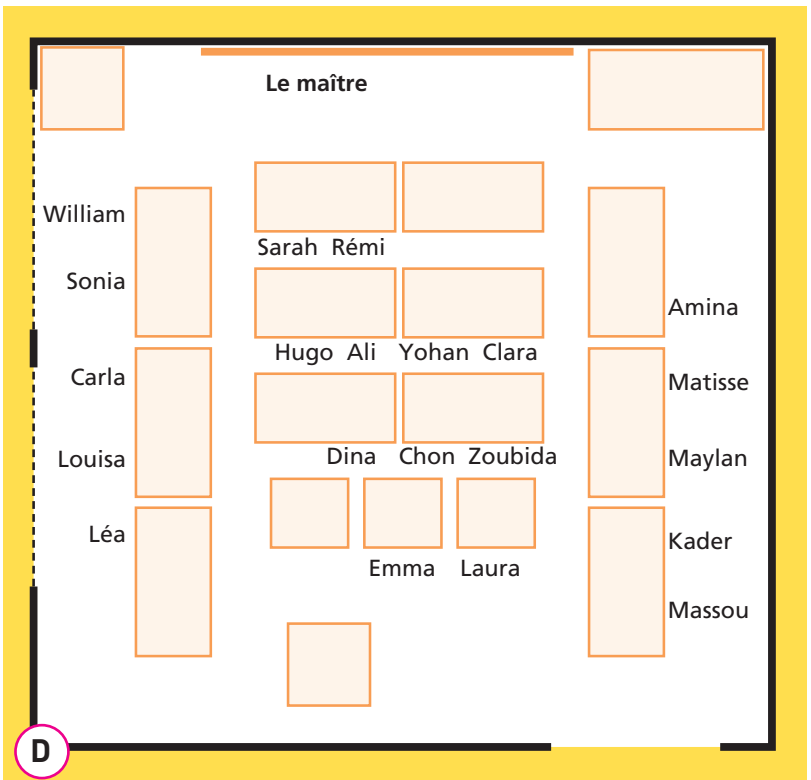
## B La maquette, le plan


- 5  Entoure : l'image (C) est...  
 un plan  
 un dessin  
 une maquette



- 6  Coche ce que tu vois dans cette classe.
- le maître
  - des tables
  - des élèves
  - le tableau

- 7  Entoure : l'image (D) est...  
 une photographie  
 une maquette  
 un plan



- 8  Coche la bonne réponse.
- Le plan montre la classe vue de côté.
  - Le plan montre la classe vue du dessus.
  - Le plan montre la classe vue depuis le ciel.

### JE RETIENS

→ Maintenant, je sais reconnaître une photographie, un dessin,  
 une \_\_\_\_\_ et un \_\_\_\_\_.