

Géométrie

1/ Complète avec les mots de la leçon

- a) On le représente par une croix : c'est _____
 b) On nomme un segment entre _____
 c) Des droites qui se coupent sont des droites _____

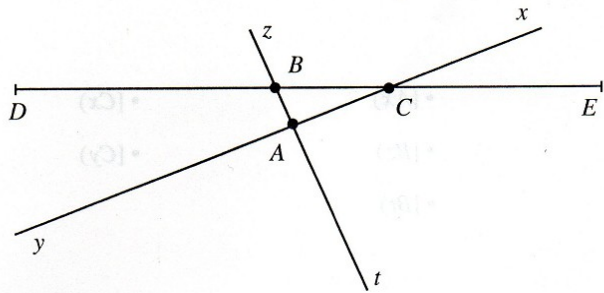
2/ Quels instruments utilises-tu ?

- a) Pour tracer un demi-cercle : _____
 b) Pour mesurer un segment : _____
 c) Pour tracer des droites perpendiculaires : _____

3/ Trace un segment $[AB]$ mesurant 6 cm.

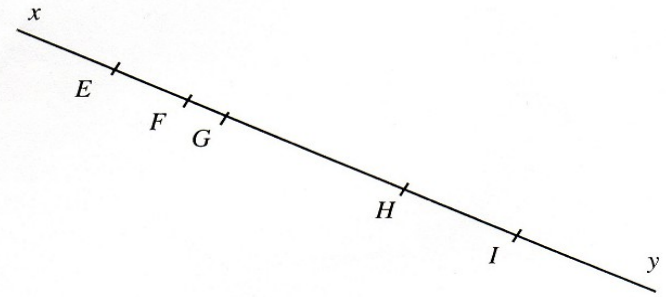
Place le point J milieu de $[AB]$.

4/ Donne le nom de toutes les demi-droites:



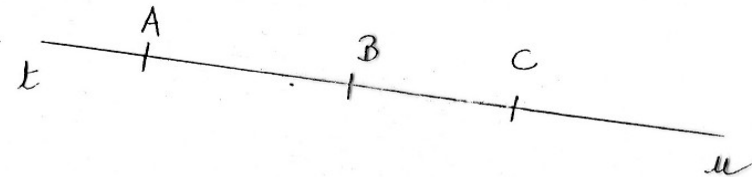
- | | | |
|---------|---------|---------|
| • | • | • |
| • | • | • |
| • | • | • |

5/ Donne le nom de tous les segments:



- | | |
|---------|---------|
| • | • |
| • | • |
| • | • |
| • | • |
| • | • |

6/ Observe cette figure et réponds ci-dessous :



- Les droites:
- Les demi-droites:
- Les segments: