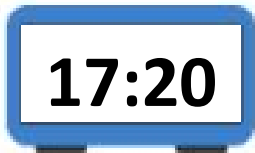
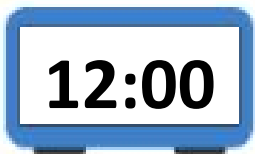
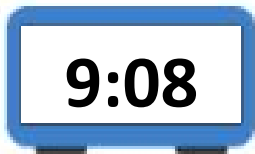

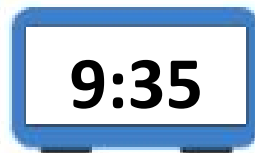
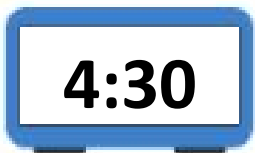
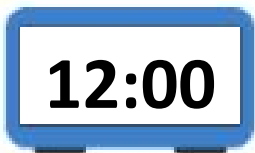


Découpe les étiquettes et place les à côté du bon réveil

Si j'ai une erreur ou moins par exercice je valide l'étoile.





Lis l'heure inscrite sur les réveils






12h00	6h00	9h08	7h30	17h20	11h45
-------	------	------	------	-------	-------



Sur la pendule fais l'heure, demandée par l'adulte



Si j'ai une erreur ou moins par exercice je valide l'étoile.



10h00  

7h00  


9h00  

4h00  

11h00  

12h00  




 Ecris l'heure sous les pendules.



   h   



   h   



   h   




   h   



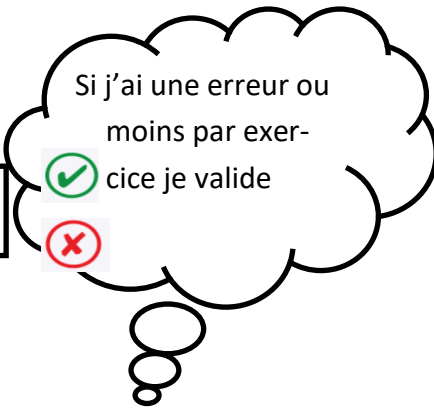
   h   





   h   







Sur la pendule fais l'heure, demandée par l'adulte







10h15  

7h30  


9h15  

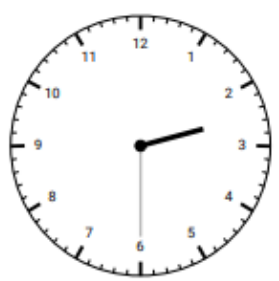
4h30  

11h15  


12h30  



 Ecris l'heure sous les pendules.



   h   



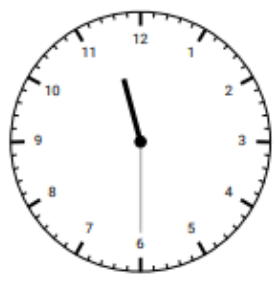
   h   




   h   




   h   




   h   




   h   



   h   





   h   





Si j'ai une erreur ou moins par exercice je valide l'étoile.



Sur la pendule fais l'heure, demandée par l'adulte



10h10  



7h25  

9h35  




4h50  


11h45  

12h05  


 Ecris l'heure sous les pendules.




   h   



   h   




   h   



   h   





   h   




   h   



   h   



   h   



Si j'ai une erreur ou moins par exercice je valide l'étoile.

Sur la pendule, fais l'heure demandée par l'adulte

14h15



21h30



23h25



16h10



13h15



20h40



Ecris l'heure sous les pendules.



matin

\_\_ h \_\_



\_\_ h \_\_



\_\_ h \_\_



\_\_ h \_\_

Après-midi

\_\_ h \_\_

\_\_ h \_\_

\_\_ h \_\_

\_\_ h \_\_

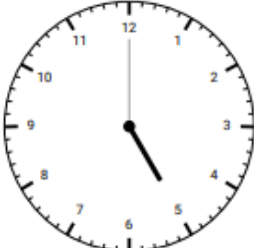


matin

\_\_ h \_\_



\_\_ h \_\_



\_\_ h \_\_



\_\_ h \_\_


Après-midi

\_\_ h \_\_

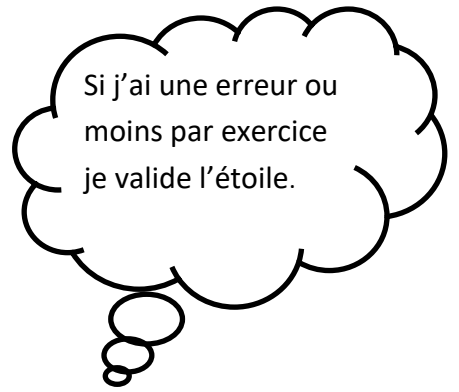
\_\_ h \_\_

\_\_ h \_\_

\_\_ h \_\_



Sur la pendule, fais l'heure demandée par l'adulte



Dix heures moins vingt



Quatre heures moins cinq



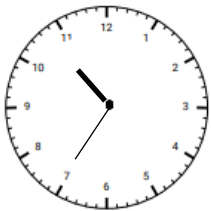
Deux heures moins dix



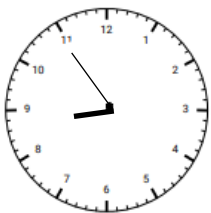
huit heures moins le quart



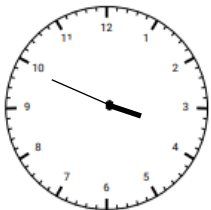
Réponds à la question



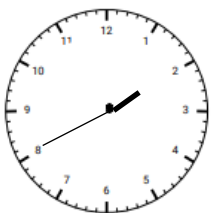
Dans combien de minutes sera-t-il 11h?



Dans combien de minutes sera-t-il 9h?



Dans combien de minutes sera-t-il 4h?



Dans combien de minutes sera-t-il 2h?



## Lis bien le programme télé

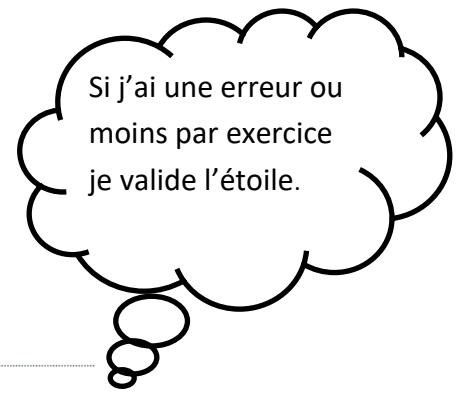
08h23

### JAMIE A DES TENTACULES !

Commando camping : Saison 1 épisode 20  
Pacte de paix au fond du jardin : Saison 1 épisode 22  
Fini de dormir : Saison 1 épisode 23



INFOS



09h03

### BIENVENUE CHEZ LES LOUD

Une araignée au plafond : Saison 1 épisode 23



INFOS



09h22

### Les sisters - le film



REPLAY



INFOS



10h44

Série Animation

### BOY, GIRL, ETC.



REPLAY



INFOS





Peux-tu répondre à ces questions ::

A quelle heure commence la série Bienvenue chez les Loud ?

à .....

A quelle heure finit-elle ? à .....


Combien de temps dure-t-elle ? Elle dure .....

A quelle heure commence le film Les sisters ? à .....

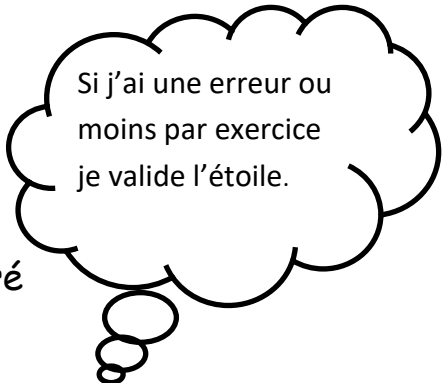
A quelle heure finit-il ? à .....

Combien de temps dure-t-il? Elle dure .....

Si je regarde les deux, combien de temps vais-je rester devant la télé ?

Réponds à chaque problème en faisant des phrases.



1) Une pièce de théâtre se commence à 20h30, elle a duré 2h10. A quelle heure a-t-elle débuté ?


2) Une émission de variétés commence à 19h45 et se termine à 20h40. Combien de temps dure-t-elle ?




3) Monsieur Paul arrive à la maison à 21h30... Sa femme s'inquiétait car ça fait 2h30 qu'elle l'attendait pour manger. A quelle heure avait-elle prévu de manger ?


4) Je commence mon gâteau à 11h. Je dois faire plusieurs étapes:  
 éplucher les pommes : 5 min - faire la compote : 15 min - préparer la pâte : 10 min - mettre la compote et les pommes sur le gâteau: 5 min - cuire au four : 30 min

Combien de temps dure la recette? A quelle heure vais-je finir?