

Pichon nom :

data :

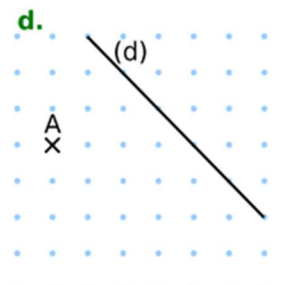
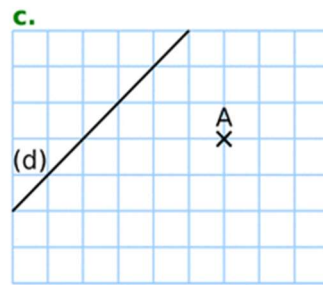
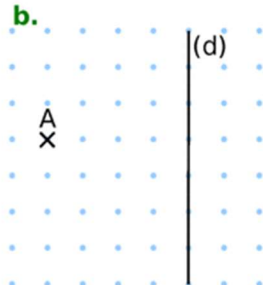
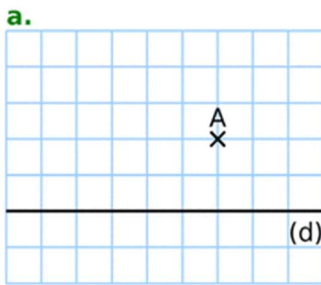
**Geometria**

**Pròva Blau Clar**

**EG4**

*Je sais tracer une perpendiculaire à une droite qui passe par un point donné*

**1/ Per cada figura traça la perpendiculara (e) a la dreita (d) que passa pel punt (a) :**



**2/ Traça las perpendicularas a la dreita (d) que passen pels punts A , B, C, D, E, F, G, H :**

