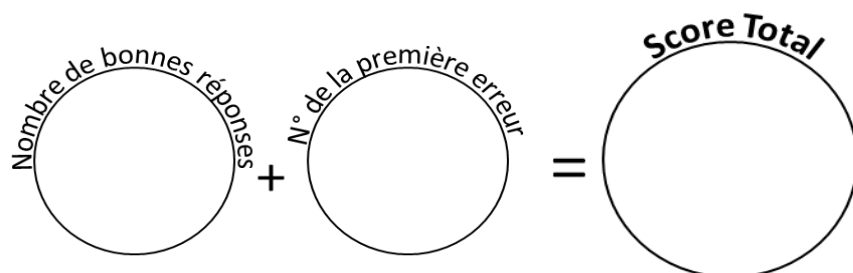


49 calculs en 5 minutes
(série 250)
Ceinture noire

Réponses
Ceinture noire
série 250

1	76,7 pour aller à 77 : _____	26	36 x 25 = _____	0,3	900
2	34,1 pour aller à 35 : _____	27	8 x 75 = _____	0,9	600
3	88,02 : 10 = _____	28	80 : 4 = _____	8,802	20
4	33 x 50 = _____	29	97,3 pour aller à 98 : _____	1650	0,7
5	39 x 25 = _____	30	70,25 pour aller à 71 : _____	975	0,75
6	20 x 75 = _____	31	44,9 : 10 = _____	1500	4,49
7	36 : 4 = _____	32	10 x 50 = _____	9	500
8	6,5 pour aller à 7 : _____	33	5 x 25 = _____	0,5	125
9	76,44 pour aller à 77 : _____	34	18 x 75 = _____	0,56	1350
10	60,42 : 10 = _____	35	40 : 4 = _____	6,042	10
11	34 x 50 = _____	36	88,5 pour aller à 89 : _____	1700	0,5
12	23 x 25 = _____	37	33,3 pour aller à 34 : _____	575	0,7
13	2 x 75 = _____	38	1,93 : 10 = _____	150	0,193
14	88 : 4 = _____	39	25 x 50 = _____	22	1250
15	55,3 pour aller à 56 : _____	40	13 x 25 = _____	0,7	325
16	27,06 pour aller à 28 : _____	41	19 x 75 = _____	0,94	1425
17	31,96 : 10 = _____	42	76 : 4 = _____	3,196	19
18	19 x 50 = _____	43	52,2 pour aller à 53 : _____	950	0,8
19	28 x 25 = _____	44	51,82 pour aller à 52 : _____	700	0,18
20	15 x 75 = _____	45	88,29 : 10 = _____	1125	8,829
21	100 : 4 = _____	46	19 x 50 = _____	25	950
22	72,6 pour aller à 73 : _____	47	7 x 25 = _____	0,4	175
23	56,88 pour aller à 57 : _____	48	16 x 75 = _____	0,12	1200
24	68,84 : 10 = _____	49	92 : 4 = _____	6,884	23
25	25 x 50 = _____			1250	

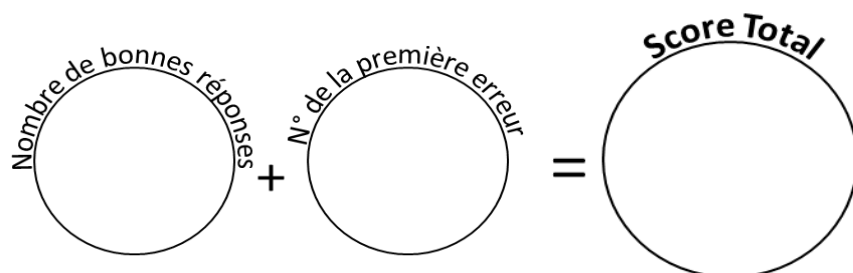


Reporte ton score sur ton graphique !

49 calculs en 5 minutes
(série 819)
Ceinture noire

Réponses
Ceinture noire
série 819

1	66,4 pour aller à 67 : _____	26	33 x 25 = _____	0,6	825
2	97,44 pour aller à 98 : _____	27	11 x 75 = _____	0,56	825
3	13,42 : 10 = _____	28	68 : 4 = _____	1,342	17
4	8 x 50 = _____	29	31,5 pour aller à 32 : _____	400	0,5
5	27 x 25 = _____	30	42,02 pour aller à 43 : _____	675	0,98
6	12 x 75 = _____	31	93,55 : 10 = _____	900	9,355
7	36 : 4 = _____	32	31 x 50 = _____	9	1550
8	44,2 pour aller à 45 : _____	33	32 x 25 = _____	0,8	800
9	64,88 pour aller à 65 : _____	34	18 x 75 = _____	0,12	1350
10	35,63 : 10 = _____	35	20 : 4 = _____	3,563	5
11	23 x 50 = _____	36	2,9 pour aller à 3 : _____	1150	0,1
12	21 x 25 = _____	37	45,45 pour aller à 46 : _____	525	0,55
13	16 x 75 = _____	38	80,09 : 10 = _____	1200	8,009
14	48 : 4 = _____	39	3 x 50 = _____	12	150
15	71,5 pour aller à 72 : _____	40	11 x 25 = _____	0,5	275
16	51,76 pour aller à 52 : _____	41	17 x 75 = _____	0,24	1275
17	85,7 : 10 = _____	42	88 : 4 = _____	8,57	22
18	11 x 50 = _____	43	85,4 pour aller à 86 : _____	550	0,6
19	6 x 25 = _____	44	37,89 pour aller à 38 : _____	150	0,11
20	13 x 75 = _____	45	99,02 : 10 = _____	975	9,902
21	96 : 4 = _____	46	9 x 50 = _____	24	450
22	34,3 pour aller à 35 : _____	47	18 x 25 = _____	0,7	450
23	34,11 pour aller à 35 : _____	48	10 x 75 = _____	0,89	750
24	70,63 : 10 = _____	49	28 : 4 = _____	7,063	7
25	1 x 50 = _____			50	

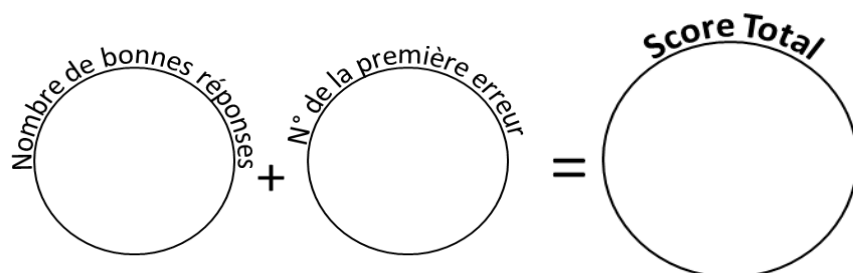


Reporte ton score sur ton graphique !

49 calculs en 5 minutes
(série 356)
Ceinture noire

Réponses
Ceinture noire
série 356

1	78,9 pour aller à 79 : _____	26	16 x 25 = _____	0,1	400
2	34,76 pour aller à 35 : _____	27	19 x 75 = _____	0,24	1425
3	20,53 : 10 = _____	28	68 : 4 = _____	2,053	17
4	24 x 50 = _____	29	48,2 pour aller à 49 : _____	1200	0,8
5	40 x 25 = _____	30	3,22 pour aller à 4 : _____	1000	0,78
6	1 x 75 = _____	31	55,37 : 10 = _____	75	5,537
7	72 : 4 = _____	32	14 x 50 = _____	18	700
8	6,6 pour aller à 7 : _____	33	4 x 25 = _____	0,4	100
9	40,76 pour aller à 41 : _____	34	11 x 75 = _____	0,24	825
10	80,25 : 10 = _____	35	28 : 4 = _____	8,025	7
11	4 x 50 = _____	36	82,8 pour aller à 83 : _____	200	0,2
12	19 x 25 = _____	37	39,57 pour aller à 40 : _____	475	0,43
13	8 x 75 = _____	38	65,59 : 10 = _____	600	6,559
14	20 : 4 = _____	39	28 x 50 = _____	5	1400
15	62,6 pour aller à 63 : _____	40	24 x 25 = _____	0,4	600
16	64,89 pour aller à 65 : _____	41	18 x 75 = _____	0,11	1350
17	53,3 : 10 = _____	42	96 : 4 = _____	5,33	24
18	31 x 50 = _____	43	15,6 pour aller à 16 : _____	1550	0,4
19	22 x 25 = _____	44	85,83 pour aller à 86 : _____	550	0,17
20	2 x 75 = _____	45	52,22 : 10 = _____	150	5,222
21	64 : 4 = _____	46	27 x 50 = _____	16	1350
22	36,6 pour aller à 37 : _____	47	24 x 25 = _____	0,4	600
23	57,68 pour aller à 58 : _____	48	13 x 75 = _____	0,32	975
24	35,48 : 10 = _____	49	64 : 4 = _____	3,548	16
25	15 x 50 = _____			750	

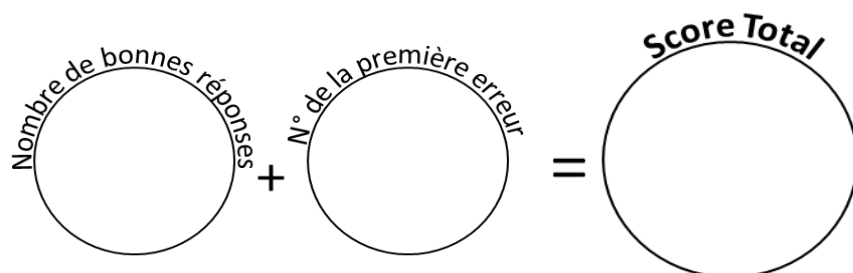


Reporte ton score sur ton graphique !

49 calculs en 5 minutes
(série 699)
Ceinture noire

Réponses
Ceinture noire
série 699

1	65,8 pour aller à 66 : _____	26	36 x 25 = _____	0,2	900
2	40,83 pour aller à 41 : _____	27	18 x 75 = _____	0,17	1350
3	95,99 : 10 = _____	28	52 : 4 = _____	9,599	13
4	29 x 50 = _____	29	33,1 pour aller à 34 : _____	1450	0,9
5	16 x 25 = _____	30	4,59 pour aller à 5 : _____	400	0,41
6	5 x 75 = _____	31	17,03 : 10 = _____	375	1,703
7	64 : 4 = _____	32	31 x 50 = _____	16	1550
8	38,2 pour aller à 39 : _____	33	10 x 25 = _____	0,8	250
9	8,85 pour aller à 9 : _____	34	19 x 75 = _____	0,15	1425
10	22,75 : 10 = _____	35	40 : 4 = _____	2,275	10
11	31 x 50 = _____	36	96,8 pour aller à 97 : _____	1550	0,2
12	39 x 25 = _____	37	27,46 pour aller à 28 : _____	975	0,54
13	14 x 75 = _____	38	62,9 : 10 = _____	1050	6,29
14	32 : 4 = _____	39	20 x 50 = _____	8	1000
15	15,7 pour aller à 16 : _____	40	30 x 25 = _____	0,3	750
16	14,02 pour aller à 15 : _____	41	6 x 75 = _____	0,98	450
17	86,42 : 10 = _____	42	20 : 4 = _____	8,642	5
18	36 x 50 = _____	43	97,2 pour aller à 98 : _____	1800	0,8
19	12 x 25 = _____	44	81,94 pour aller à 82 : _____	300	0,06
20	19 x 75 = _____	45	10,16 : 10 = _____	1425	1,016
21	88 : 4 = _____	46	40 x 50 = _____	22	2000
22	56,6 pour aller à 57 : _____	47	30 x 25 = _____	0,4	750
23	24,56 pour aller à 25 : _____	48	18 x 75 = _____	0,44	1350
24	54,98 : 10 = _____	49	36 : 4 = _____	5,498	9
25	4 x 50 = _____			200	

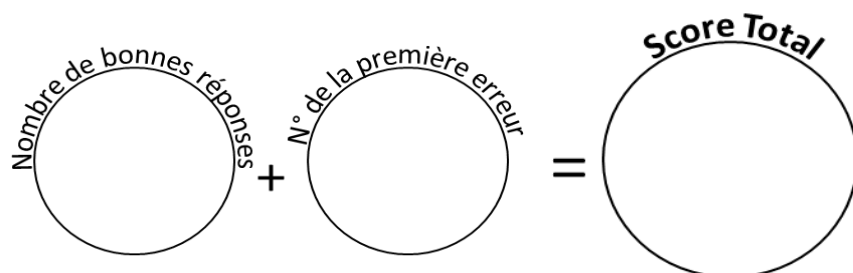


Reporte ton score sur ton graphique !

49 calculs en 5 minutes
(série 514)
Ceinture noire

Réponses
Ceinture noire
série 514

1	93,7 pour aller à 94 : _____	26	27 x 25 = _____	0,3	675
2	81,52 pour aller à 82 : _____	27	15 x 75 = _____	0,48	1125
3	9,92 : 10 = _____	28	40 : 4 = _____	0,992	10
4	29 x 50 = _____	29	83,8 pour aller à 84 : _____	1450	0,2
5	29 x 25 = _____	30	6,76 pour aller à 7 : _____	725	0,24
6	19 x 75 = _____	31	95,35 : 10 = _____	1425	9,535
7	60 : 4 = _____	32	35 x 50 = _____	15	1750
8	39,7 pour aller à 40 : _____	33	5 x 25 = _____	0,3	125
9	90,08 pour aller à 91 : _____	34	13 x 75 = _____	0,92	975
10	73,11 : 10 = _____	35	84 : 4 = _____	7,311	21
11	35 x 50 = _____	36	4,4 pour aller à 5 : _____	1750	0,6
12	32 x 25 = _____	37	34,84 pour aller à 35 : _____	800	0,16
13	17 x 75 = _____	38	67,84 : 10 = _____	1275	6,784
14	76 : 4 = _____	39	5 x 50 = _____	19	250
15	7,6 pour aller à 8 : _____	40	26 x 25 = _____	0,4	650
16	40,84 pour aller à 41 : _____	41	19 x 75 = _____	0,16	1425
17	73,32 : 10 = _____	42	92 : 4 = _____	7,332	23
18	34 x 50 = _____	43	76,4 pour aller à 77 : _____	1700	0,6
19	14 x 25 = _____	44	88,31 pour aller à 89 : _____	350	0,69
20	16 x 75 = _____	45	1,06 : 10 = _____	1200	0,106
21	64 : 4 = _____	46	6 x 50 = _____	16	300
22	50,3 pour aller à 51 : _____	47	8 x 25 = _____	0,7	200
23	4,32 pour aller à 5 : _____	48	8 x 75 = _____	0,68	600
24	55,51 : 10 = _____	49	40 : 4 = _____	5,551	10
25	13 x 50 = _____			650	

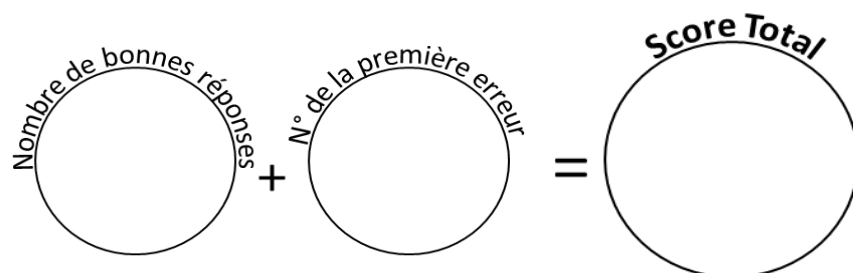


Reporte ton score sur ton graphique !

49 calculs en 5 minutes
(série 608)
Ceinture noire

Réponses
Ceinture noire
série 608

1	17,6 pour aller à 18 : _____	26	$30 \times 25 =$ _____	0,4	750
2	59,9 pour aller à 60 : _____	27	$9 \times 75 =$ _____	0,1	675
3	$83,07 : 10 =$ _____	28	$40 : 4 =$ _____	8,307	10
4	$38 \times 50 =$ _____	29	75,4 pour aller à 76 : _____	1900	0,6
5	$29 \times 25 =$ _____	30	36,01 pour aller à 37 : _____	725	0,99
6	$20 \times 75 =$ _____	31	$66,34 : 10 =$ _____	1500	6,634
7	$28 : 4 =$ _____	32	$23 \times 50 =$ _____	7	1150
8	37,6 pour aller à 38 : _____	33	$40 \times 25 =$ _____	0,4	1000
9	14,94 pour aller à 15 : _____	34	$7 \times 75 =$ _____	0,06	525
10	$35,79 : 10 =$ _____	35	$40 : 4 =$ _____	3,579	10
11	$15 \times 50 =$ _____	36	49,2 pour aller à 50 : _____	750	0,8
12	$23 \times 25 =$ _____	37	59,78 pour aller à 60 : _____	575	0,22
13	$5 \times 75 =$ _____	38	$91,78 : 10 =$ _____	375	9,178
14	$92 : 4 =$ _____	39	$37 \times 50 =$ _____	23	1850
15	49,2 pour aller à 50 : _____	40	$22 \times 25 =$ _____	0,8	550
16	61,12 pour aller à 62 : _____	41	$6 \times 75 =$ _____	0,88	450
17	$9,6 : 10 =$ _____	42	$100 : 4 =$ _____	0,96	25
18	$34 \times 50 =$ _____	43	12,2 pour aller à 13 : _____	1700	0,8
19	$39 \times 25 =$ _____	44	66,79 pour aller à 67 : _____	975	0,21
20	$18 \times 75 =$ _____	45	$29,22 : 10 =$ _____	1350	2,922
21	$48 : 4 =$ _____	46	$15 \times 50 =$ _____	12	750
22	48,6 pour aller à 49 : _____	47	$3 \times 25 =$ _____	0,4	75
23	19,04 pour aller à 20 : _____	48	$14 \times 75 =$ _____	0,96	1050
24	$13,34 : 10 =$ _____	49	$72 : 4 =$ _____	1,334	18
25	$31 \times 50 =$ _____			1550	



Reporte ton score sur ton graphique !