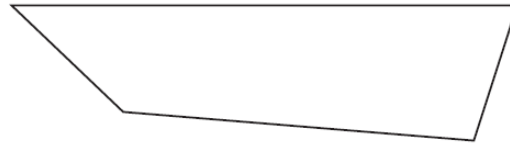



## Le périmètre CM2

**Mesurer et calculer des périmètres**

1. **Mesure** et indique le périmètre de ces figures. **Écrire les mesures.**




P (fig 1) = .....

P (fig 2) .....

**Tracer des polygones en fonction de leur périmètre**

2. **Construis** un carré, un rectangle et un triangle ayant chacun un périmètre de 16 cm. **Écrire les mesures.**

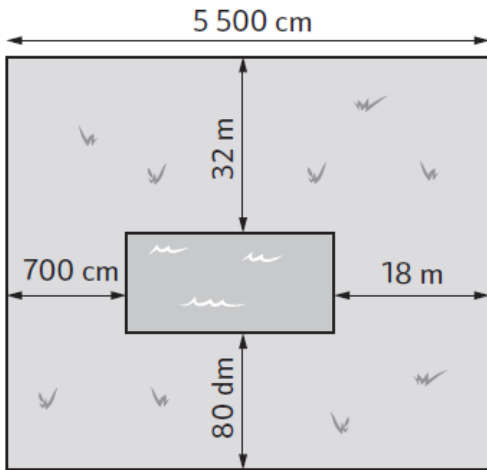


3. **Complète** le tableau ci-dessous.

Carré		Rectangle			
coté	périmètre	longueur	largeur	½ périmètre	périmètre
4,6 km	.....km	6,8 m	3 m	.....m	.....m
.....cm	24,8 cm	5 cm	.....cm	13,4 cm	.....cm
4,2 dm	.....cm	7 cm	.....cm	.....cm	20,6 cm

4. Dans un jardin carré se trouve une piscine rectangulaire.

Réponds aux différentes questions.



a. Calcule en mètres la longueur de la piscine

.....  
.....

b. Calcule en mètres la largeur de la piscine

.....  
.....

c. Calcule en mètres le périmètre de la piscine

.....  
.....