

# *Les longueurs*



**1 centimètre**

**10 centimètres**

**1 mètre**

**1 mètre = ..... centimètres**

**1 kilomètre = ..... mètres**

# Les longueurs



**1 millimètre**

**1 centimètre**

**10 centimètres**

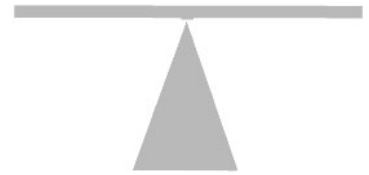
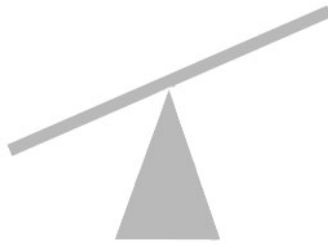
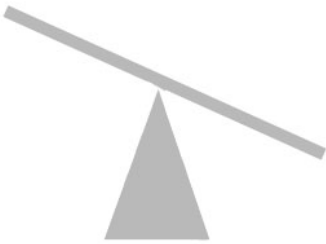
**1 mètre**

**1 centimètre = ..... millimètres**

**1 mètre = ..... centimètres**

**1 kilomètre = ..... mètres**

# Les masses



**1 gramme**

**100 grammes**

**1000 grammes**

**1 kilogramme**

**1 kilogramme = ..... grammes**

# Les capacités



**1.5 L**

1 litre et demi



**1 L**

1 litre



**50 CL**

50 centilitres



**25 CL**

25 centilitres



= ..... **X**



= ..... **X**



= ..... **X**



= ..... **X**



= ..... **X**



= ..... **X**



# La monnaie

## Les pièces

1 centime d'euro



2 centimes d'euro



5 centimes d'euro



10 centimes d'euro



20 centimes d'euro



50 centimes d'euro



1 euro



2 euros



**1 euro = 100 centimes d'euro**

# La monnaie

## Les billets

5 euros



10 euros



20 euros



50 euros



100 euros



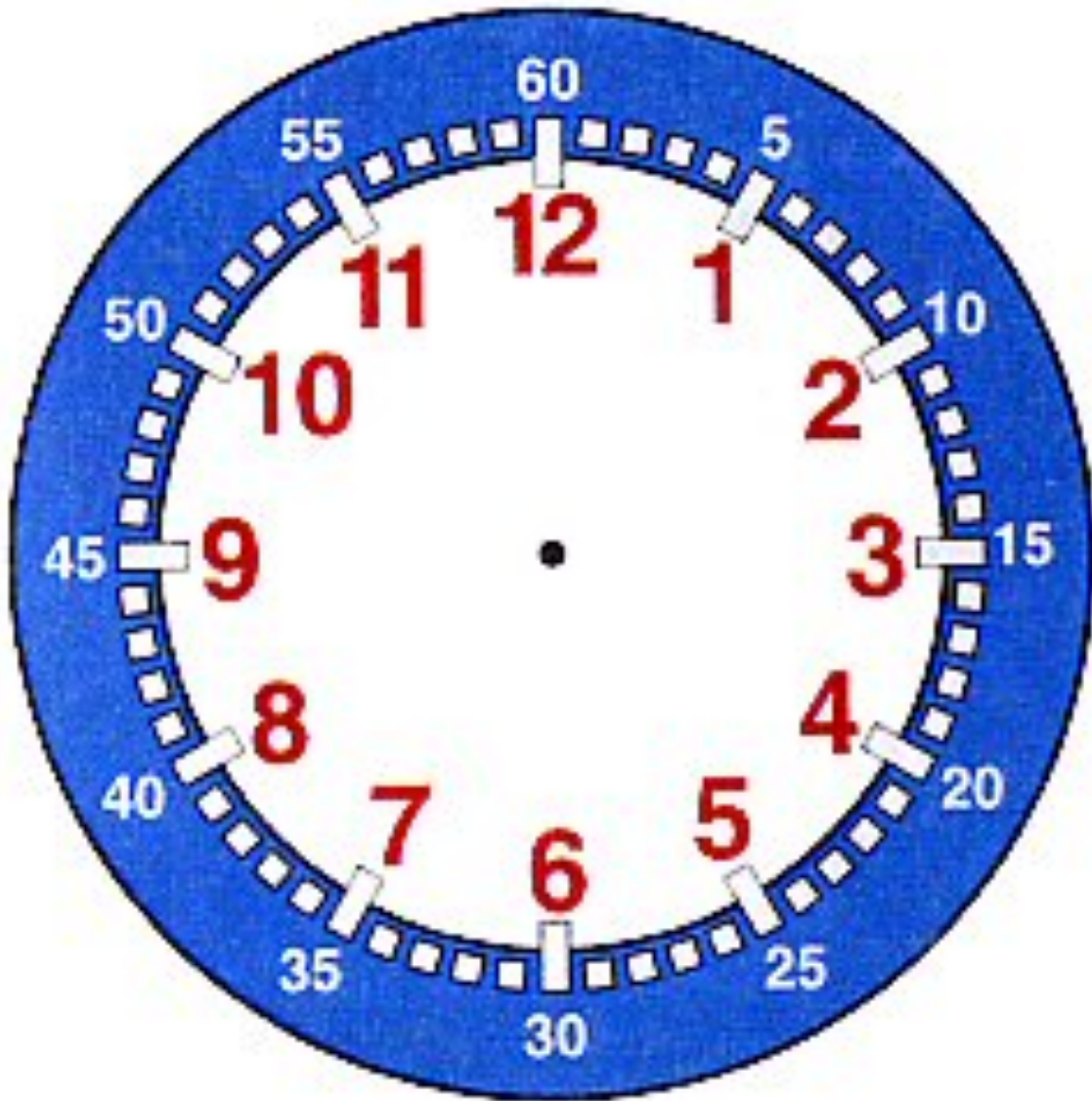
200 euros



500 euros



# L'heure



matin    \_ \_ : \_ \_  
+ 12 heures  
soir    \_ \_ : \_ \_

1 heure = ..... minutes