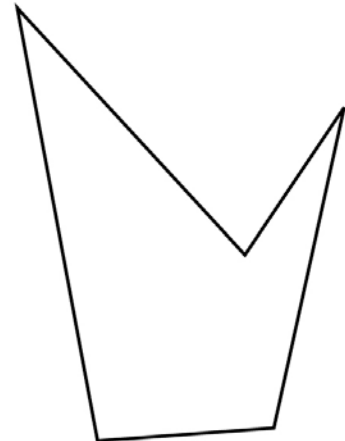
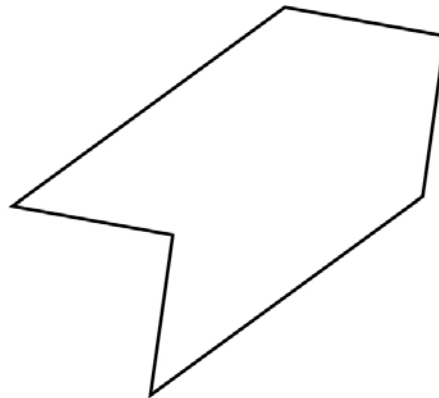
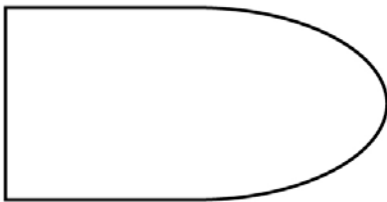
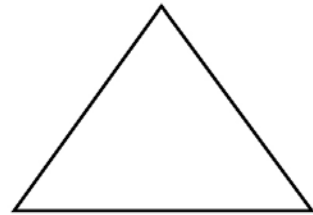
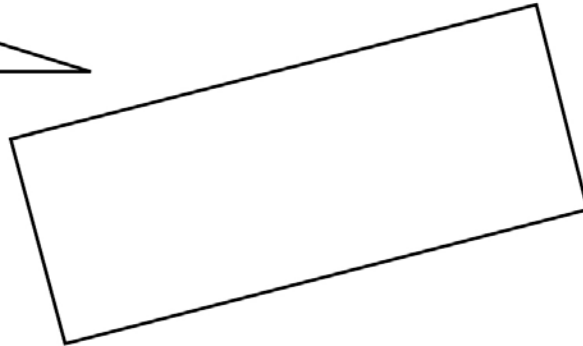
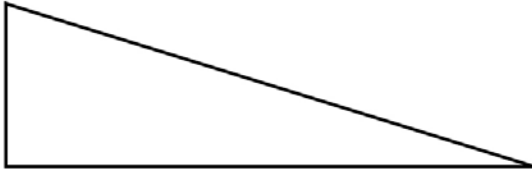



### La symétrie et les solides

Percevoir et reconnaître l'axe de symétrie d'une figure	
Reconnaître, nommer et décrire quelques solides droits	

① Observe ces figures. Barre celles qui n'ont pas d'axe de symétrie.

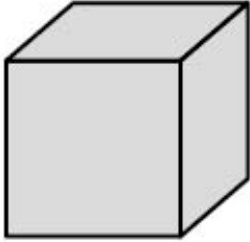


② Complète.



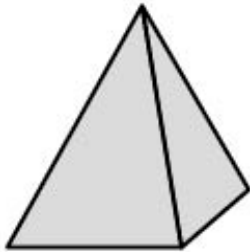
Je suis un .....

J'ai ..... faces, ..... sommets et ..... arêtes.



Je suis un .....

J'ai ..... faces, ..... sommets et ..... arêtes.



Je suis une .....

J'ai ..... faces, ..... sommets et ..... arêtes.

③ Qui suis-je ?



- a. J'ai des faces carrées. Je suis .....
- b. J'ai des faces triangulaires. Je suis .....
- c. J'ai des faces rectangulaires. Je suis .....