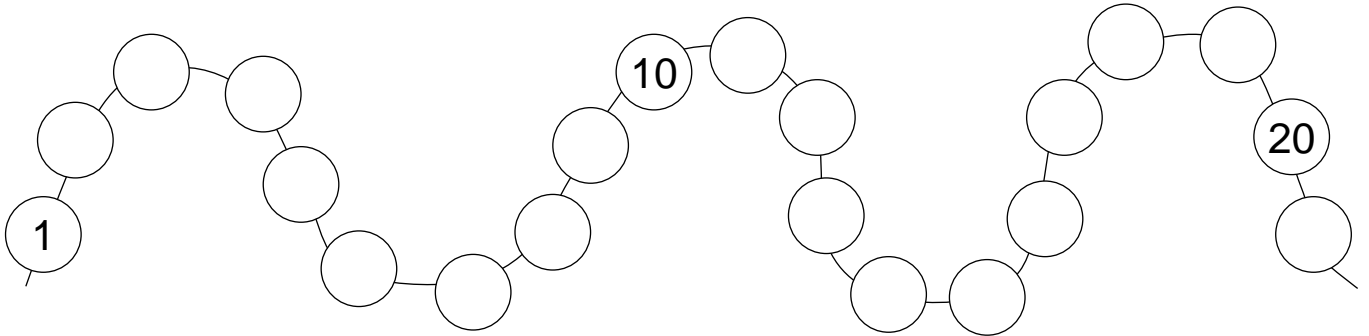


1. J'écris chaque nombre à sa place.

12 - 8 - 14 - 17 - 3 - 19



2. Je complète pour avoir le bon nombre de points.

14

17

12

3. J'écris le nombre de perles dans la case.

4. J'écris les nombres du plus petit au plus grand.

16      12      17      15

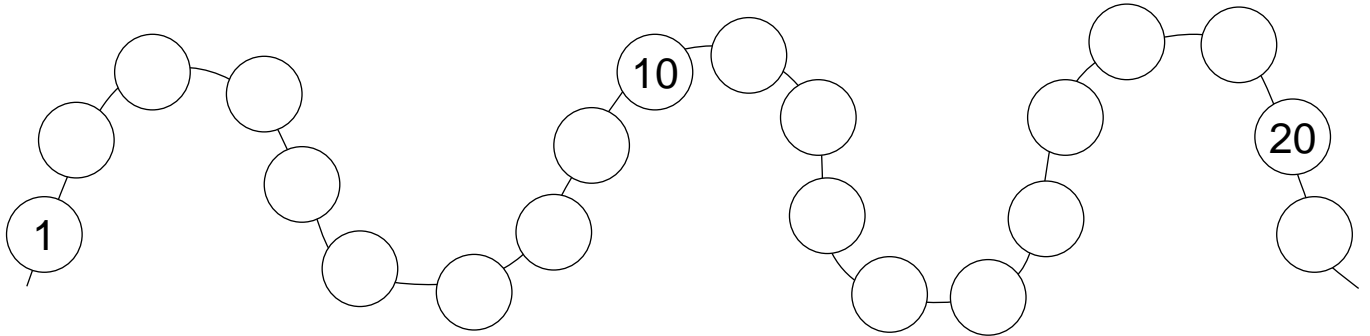
○ < ○ < ○ < ○

14      19      11      13


○ < ○ < ○ < ○

1. J'écris chaque nombre à sa place.

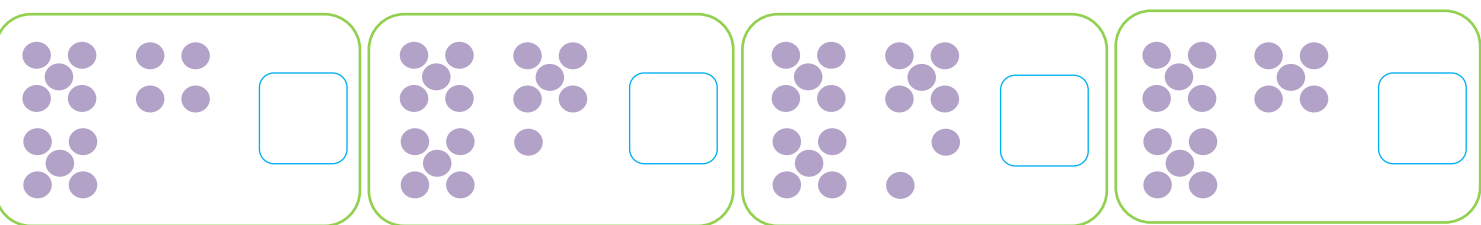
2 - 16 - 13 - 11 - 7 - 19



2. Je barre les points en trop.



3. Je groupe par 10 pour compter les points.



4. J'écris les nombres du plus grand au plus petit.

13      11      19      15

○ < ○ < ○ < ○

12      14      18      16

○ < ○ < ○ < ○