

Nom : _____

Date : Le ___/___/2012

Prénom : _____

Classe : _____





Evaluation de géographie
Le territoire français dans l'Union européenne

1) les grands types de paysages A – B – C – D -

Comment s'appelle ce type de photo? _____



Donne le nom de chaque paysage :

2) la diversité des régions françaises : A – B – C – D

Combien y a-t-il de régions en France ? _____

Combien de départements ? _____

Complète la fiche ci-dessous.

De la commune à la région.

Le nom de ta commune : _____

Le nom de ton département : _____

Le numéro de ton département : _____

Le nom de la préfecture de ton département : _____

Le nom de ta région : _____

Le nom de la ville principale de ta région : _____

Les citoyens qui vivent dans les régions votent et élisent des représentants :

- le conseil régional
- le conseil général
- le conseil municipal
- département
- commune
- région

A quoi sert le découpage administratif de la France ?

Pourquoi dit-on que les régions de France sont variées ?

3) Le découpage administratif de la France . A - B - C - D



Tu choisis la couleur que tu veux pour compléter la légende, puis, tu colories la carte.

- Notre région
- La Bretagne
- La région PACA
- _____
- _____

Pourquoi dit-on que les régions de France sont variées ?

3) Le découpage administratif de la France . A - B - C - D



Tu choisis la couleur que tu veux pour compléter la légende, puis, tu colories la carte.

- Notre région
- La Bretagne
- La région PACA
- _____
- _____

