



Nous mesurons nos guirlandes de Noël. Nous en avons 2 qui mesurent 57 cm chacune. Nous voulons les poser sur le muret qui mesure 1 m 20.

Cela sera-t-il possible ?




Avant de commencer : 1 m 20 = cm

Calcul, recherches, opérations...	Solution							



Nous mesurons nos guirlandes de Noël. Nous en avons 2 qui mesurent 57 cm chacune. Nous voulons les poser sur le muret qui mesure 1 m 20.

Cela sera-t-il possible ?



Avant de commencer : 1 m 20 = cm

Calcul, recherches, opérations...	Solution							

