

Plan de travail n° 20

Début du plan : / /

fin du plan : / /

1

Lis la première question et parcours rapidement le texte pour trouver la réponse. Écris-la sur une feuille séparée. Fais de même pour les autres questions.

- 1. Aurélie donne à manger trois fois par jour à son bébé tortue. A-t-elle raison ?**
- 2. Quelle est la température idéale de l'eau dans l'aquarium ?**
- 3. Pourquoi faire une plage avec des cailloux dans l'aquarium ?**
- 4. Que faire quand on change l'eau de l'aquarium peu souvent ?**
- 5. Comment faire pour que les tortues s'endorment ?**

Que faire pour bien installer les tortues d'eau ?

Les tortues d'eau ou tortues aquatiques ont besoin... d'eau et d'espace. Il faut les installer dans un aquarium de 60 litres, rempli aux deux tiers, avec une plage dans un coin, c'est-à-dire quelques cailloux qui dépassent. Les tortues peuvent ainsi se sécher de temps en temps. La meilleure température de l'eau, c'est 25°.

Les tortues doivent-elles dormir tout l'hiver ?

Si tu maintiens la température de l'eau à 25°, et si tu continues à la nourrir, la tortue n'hibernera pas, c'est-à-dire ne s'endormira pas pendant les mois d'hiver. Mais si tu veux lui accorder 3 ou 4 semaines de repos (c'est bon pour sa santé), refroidis l'eau à 12-15°.

Comment les nourrir ?

En variant les menus ! De la viande hachée, des morceaux de poisson, de petits insectes, des feuilles de salade. Sers 1 ou 2 repas par jour à tes jeunes tortues. Pour les adultes, 1 repas par jour suffira.

Quand doit-on changer l'eau ?

Si on la change peu souvent (tous les 15 jours), il faut veiller à ce que des aliments, des plantes mortes, ne restent pas dans l'eau. Si tu le peux, change-la plus souvent.

Plan de travail n°20 (suite 1)

2 Reforme les phrases en reliant par un trait le début et la fin de chacune d'entre elle.

- | | | |
|------------------|---|--------------------------------------|
| 1 Les voitures | • | • a tourne un film. |
| 2 L'alpiniste | • | • b nettoie ses pinceaux. |
| 3 Le moteur | • | • c bâtit son nid. |
| 4 Le cinéaste | • | • d dérapent sur le sol gelé. |
| 5 Le chat | • | • e construisent une cabane. |
| 6 La balle | • | • f grimpe le long du rocher. |
| 7 Le peintre | • | • g rebondit sur le sol. |
| 8 Le merle | • | • h se promènent par temps de pluie. |
| 9 Les enfants | • | • i attrape la souris. |
| 10 Les escargots | • | • j refuse de démarrer. |

3 A chaque phrase correspond une étiquette. Note le mot qui convient.

1. On y range les voitures pour les abriter ou les réparer.
2. _____ beaucoup de fruits : cerises, abricots, prunes...
3. Petit traîneau utilisé pour glisser sur la neige. _____
4. Elle retient nos amis chiens quand on les promène. _____
5. Tu es content de le retrouver le soir quand tu as sommeil.

luge

casque

lit

garage

laisse

Plan de travail n°20 (suite 2)

4 Complète chaque phrase avec le mot qui convient.

- (lait, laid)

Je bois du _____ dans un bol.

Que ce dessin est _____ !

- (paire, père, perd)

Le _____ de Tom _____ son calme.

Il a une _____ de chaussures neuves.

- (mer, mère, maire)

Le _____ de mon village organise un voyage à

la _____.

Mon père et ma _____ vont m'y envoyer.

- (ballet, balai)

Quel drôle de _____ ! Les danseurs dansent

avec un _____ !

5 Ajoute les pronoms personnels qui manquent.

Demain _____ auras sept ans. _____ auront un nouveau maître. _____ aurez bientôt de mes nouvelles. J'espère que _____ aurons beau temps. _____ aurai mon vélo dimanche. _____ aura une agréable surprise dimanche.

_____ serez surprises en apprenant la nouvelle. _____ serai bientôt seul à la maison. _____ seront huit à mon anniversaire. J'espère que demain _____ seras à l'heure. _____ serons ravis de t'accueillir. Ce soir, _____ sera à la fête.

Plan de travail n°20 (suite 3)

6 Ecris les phrases suivantes au futur.

Je joue aux cartes.

Elles pensent à toi.

Vous visitez l'Alsace.

Le vent se lève l'après-midi.

7 Ecris les phrases suivantes au singulier.

Les cloches sonnent.

Les verres sont fragiles.

Les randonneurs marchent et chantent.

Les poussins picorent.

Les bébés pleurent.

8 Encadre le mot mal accordé et écris-le correctement.

Les alpinistes monte au sommet de la montagne.

Des fleur magnifiques décorent la salle.

Tu aide les enfants malheureux.





Plan de travail n°20 (suite 5)

10 suite.

| | | | | | | | | | |
|---|---|---|---|---|---|---|---|---|---|
| 5 | 4 | 3 | 2 | 1 | 1 | 2 | 3 | 4 | 5 |
| 5 | 4 | 3 | 2 | 1 | 1 | 2 | 3 | 4 | 5 |
| 5 | 4 | 3 | 2 | 1 | 1 | 2 | 3 | 4 | 5 |
| 5 | 4 | 3 | 2 | 1 | 1 | 2 | 3 | 4 | 5 |
| 5 | 4 | 3 | 2 | 1 | 1 | 2 | 3 | 4 | 5 |
| 5 | 4 | 3 | 2 | 1 | 1 | 2 | 3 | 4 | 5 |

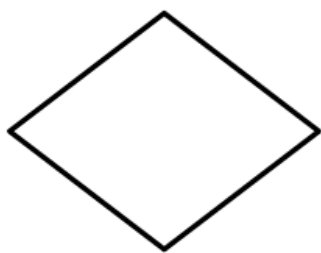
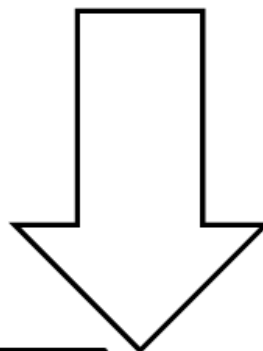
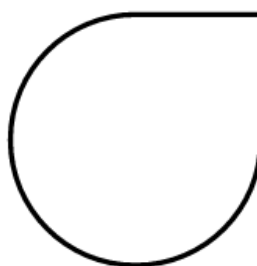


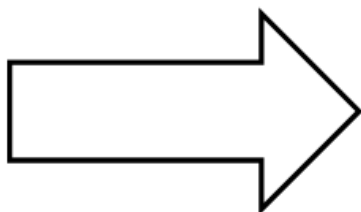
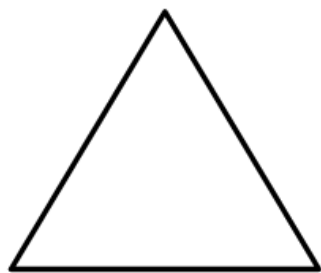
| | | | | | | | | | |
|---|---|---|---|---|---|---|---|---|---|
| 5 | 4 | 3 | 2 | 1 | 1 | 2 | 3 | 4 | 5 |
| 5 | 4 | 3 | 2 | 1 | 1 | 2 | 3 | 4 | 5 |
| 5 | 4 | 3 | 2 | 1 | 1 | 2 | 3 | 4 | 5 |
| 5 | 4 | 3 | 2 | 1 | 1 | 2 | 3 | 4 | 5 |
| 5 | 4 | 3 | 2 | 1 | 1 | 2 | 3 | 4 | 5 |
| 5 | 4 | 3 | 2 | 1 | 1 | 2 | 3 | 4 | 5 |

11 Trace l'ou les axe(s) de symétrie de chaque figure.


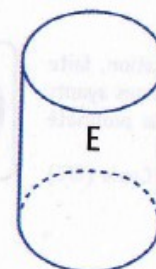
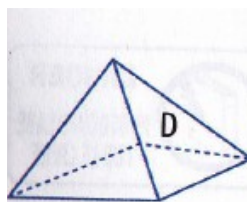
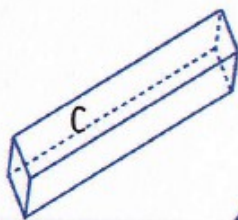
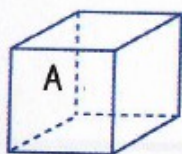


Plan de travail n°20 (suite 6)

11 suite



12 Colorie en jaune les cubes et en vert les pavés.

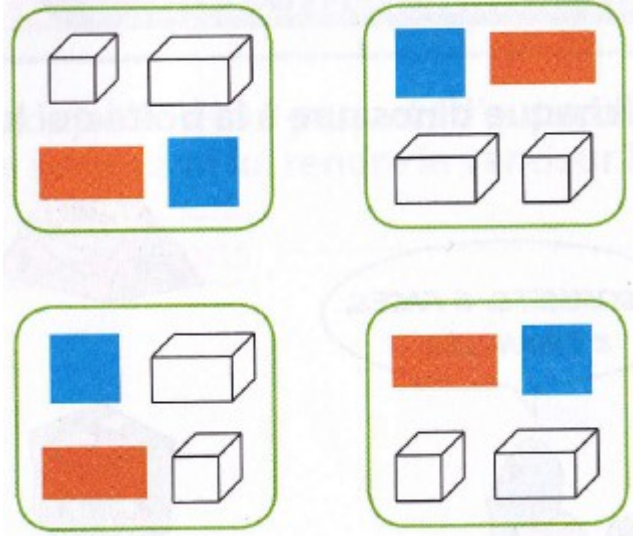


Plan de travail n°20 (suite 7)

13

Entoure la carte sur laquelle il y a :

- un carré en haut à gauche ;
- un cube en bas à droite ;
- un pavé droit en haut à droite ;
- un rectangle en bas à gauche.



14

Pose et calcule les multiplications.

$49 \times 4 = \underline{\quad}$

$82 \times 2 = \underline{\quad}$

$92 \times 5 = \underline{\quad}$

$276 \times 3 = \underline{\quad}$

$58 \times 3 = \underline{\quad}$

$64 \times 3 = \underline{\quad}$

$28 \times 4 = \underline{\quad}$

$153 \times 5 = \underline{\quad}$

15

Pose et calcule les soustractions.

$440 - 164 = \underline{\quad}$

$556 - 372 = \underline{\quad}$

$906 - 438 = \underline{\quad}$

$871 - 203 = \underline{\quad}$

$326 - 189 = \underline{\quad}$

$757 - 369 = \underline{\quad}$

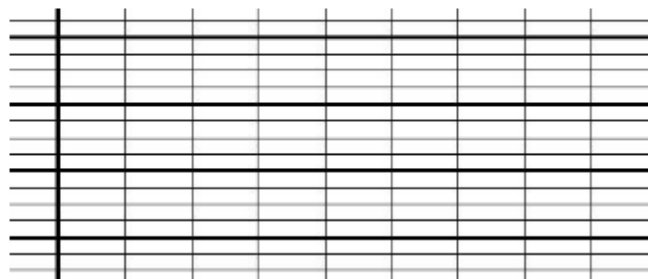
Plan de travail n°20 (suite 8)

22 Lis ces énoncés de problèmes puis résous-les.

a) Noé joue aux fléchettes. Il marque 185 points, 3 fois de suite.
Combien de points Noé a-t-il marqués ?

Enquête

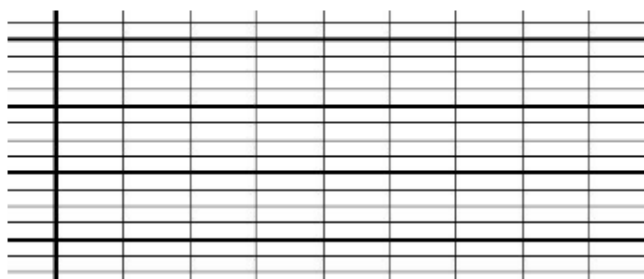
Réponse



b) Rachid a 25 bonbons. Il en distribue 2 à chacun de ses 6 copains.
Combien de bonbons lui reste-t-il ?

Enquête

Réponse



c) La directrice achète 152 protège-cahiers bleus, 64 rouges et 95 jaunes.
Combien de protège-cahiers achète-t-elle ?

Enquête

Réponse

