

Prénom : \_\_\_\_\_

Date : \_\_\_\_\_

Appréciation


Signature des parents

CMI

# Evaluation d'Histoire

Le Moyen Âge : H3, H4

Soin, présentation



## Compétence évaluée

Connaître les principales caractéristiques, quelques dates et les événements importants Moyen Age.

1	acquis
2	à renforcer
3	en cours d'acquisition
4	non acquis

### 1 Réponds aux questions

Comment s'appelle la dynastie de rois qui commence avec Pépin le Bref ?

Combien y a-t-il eu de rois dans cette dynastie ? \_\_\_\_\_

Comment s'appelle le plus connu ? \_\_\_\_\_

### 2 Cite 3 actions importantes de Charlemagne

1. Il agrandit \_\_\_\_\_

2. Il encourage \_\_\_\_\_

3. Il ouvre \_\_\_\_\_

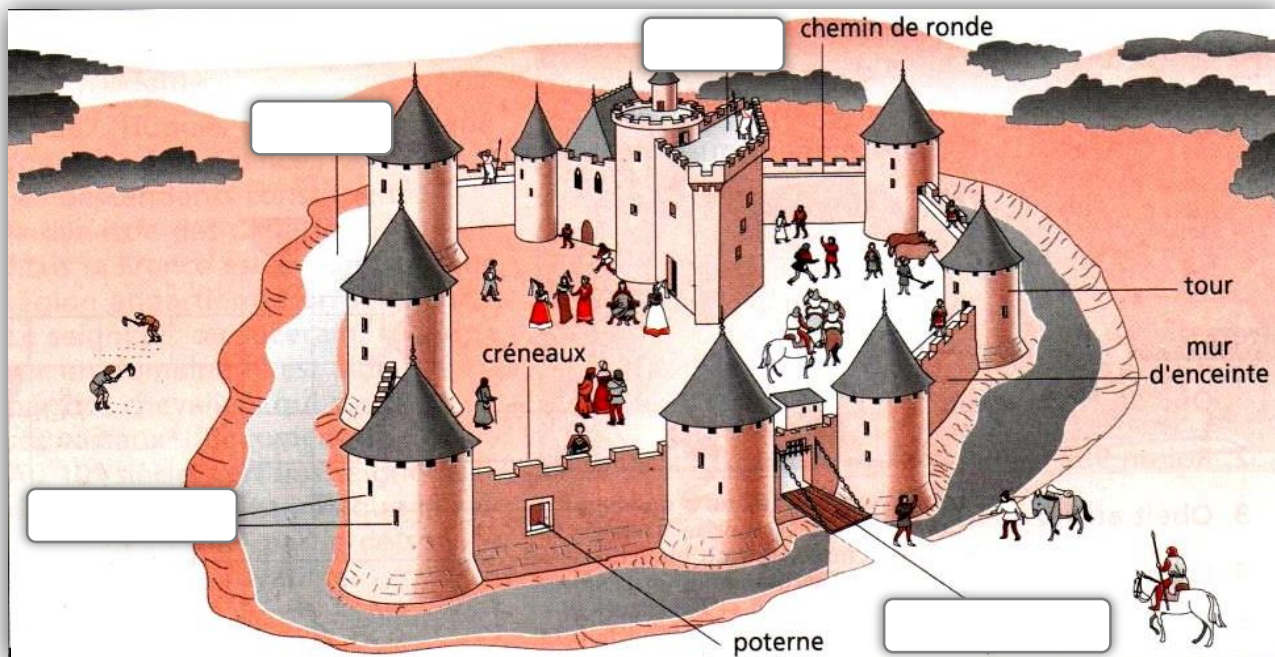
### 3 Vrai ou faux ?

Charlemagne nomme des comtes dans les régions pour organiser des bals. \_\_\_\_\_

Ces comtes surveillent les missi dominici. \_\_\_\_\_

Le pouvoir royal affaibli, les comtes choisissent un nouveau roi, Hugues Capet. \_\_\_\_\_

### 4 Complète le dessin



Charlemagne et les Carolingiens

La vie au Moyen Age

5 Comment s'appelle ce schéma ?  
À quoi cela sert-il ?

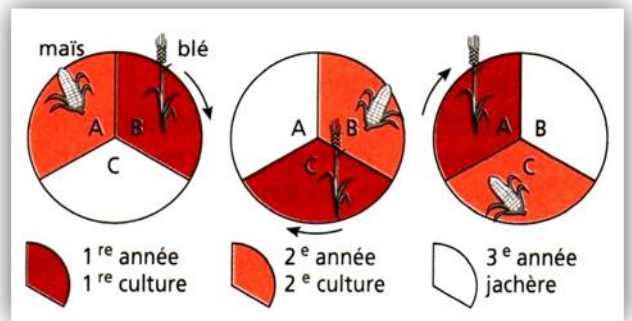
---



---



---



6 Les paysans :

a) Comment vivaient-ils ? \_\_\_\_\_

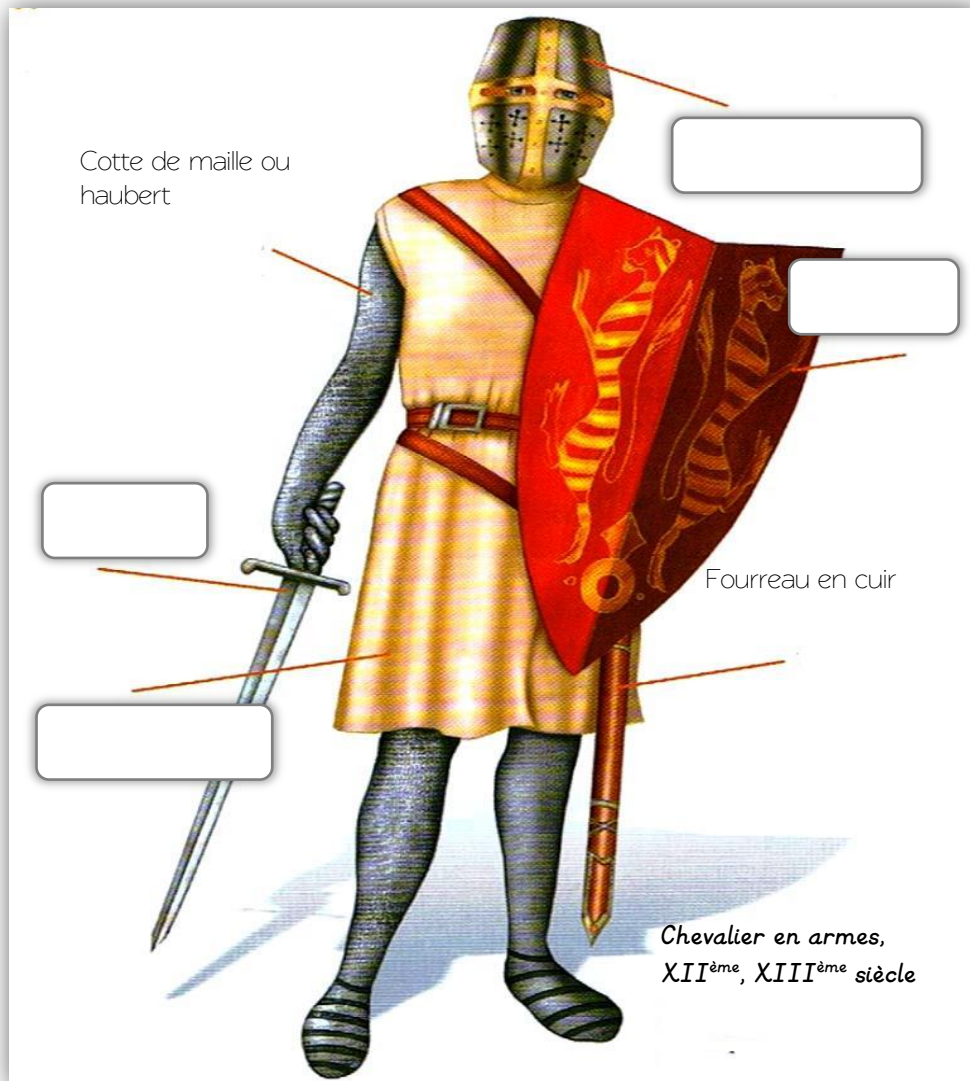
b) Dans quoi habitaient-ils ? \_\_\_\_\_

c) Comment s'appellent les deux sortes de paysans ? Que peux-tu dire de chacun d'eux ?

1. \_\_\_\_\_

2. \_\_\_\_\_

7 Complète ce schéma de chevalier



Prénom : \_\_\_\_\_

Date : \_\_\_\_\_

Appréciation

Signature des parents

CMI

# Evaluation d'Histoire

Le Moyen Âge : H3, H4

Soin, présentation



Compétence évaluée

Connaître les principales caractéristiques, quelques dates et les événements importants Moyen Age.

1	acquis
2	à renforcer
3	en cours d'acquisition
4	non acquis

Charlemagne et les Carolingiens

## 1 Réponds aux questions

Comment s'appelle la dynastie de rois qui commence avec Pépin le Bref ?

*La dynastie des carolingiens*

Combien y-a-t-il eu de rois dans cette dynastie ? *15*

Comment s'appelle le plus connu ? *Charlemagne*

## 2 Cite 3 actions importantes de Charlemagne

1. Il agrandit *beaucoup son royaume en faisant des guerres.*

2. Il encourage *le développement des arts et du savoir.*

3. Il ouvre *des écoles religieuses et une dans son palais.*

## 3 Vrai ou faux ?

Charlemagne nomme des comtes dans les régions pour organiser des bals.

*faux*

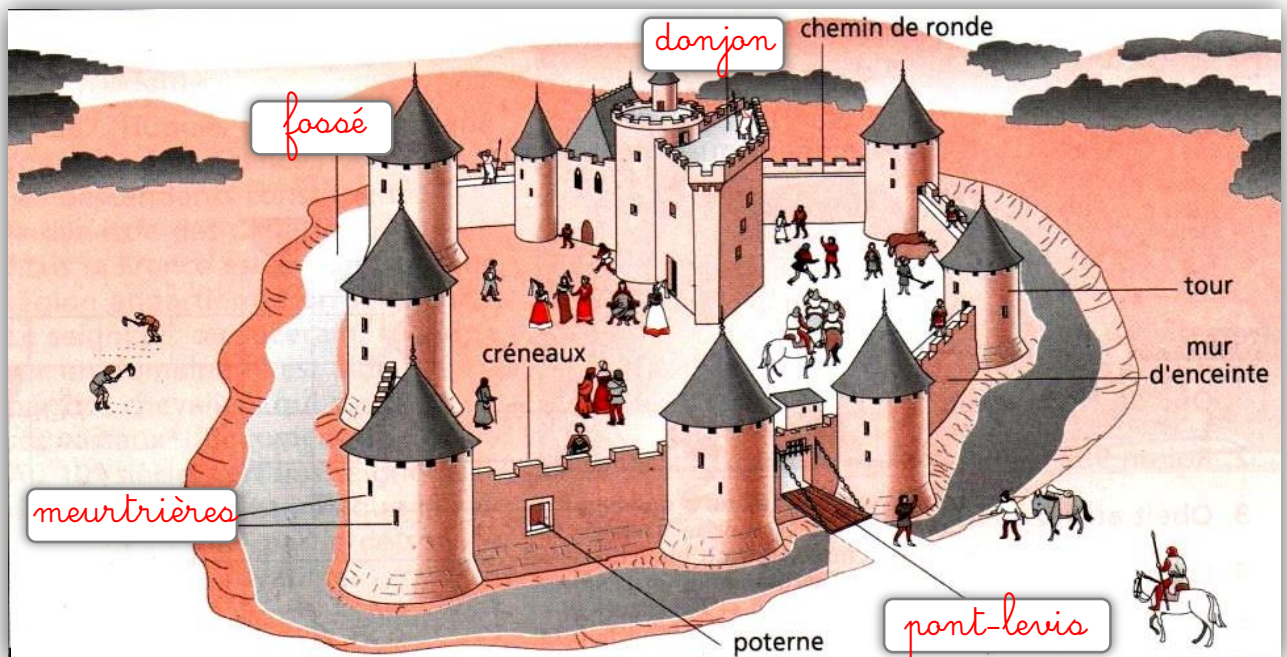
Ces comtes surveillent les missi dominici.

*faux*

Le pouvoir royal affaibli, les comtes choisissent un nouveau roi, Hugues Capet.

*vrai*

## 4 Complète le dessin

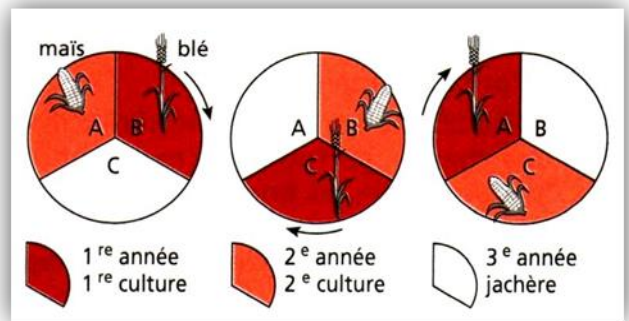


La vie au Moyen Age

5 Comment s'appelle ce schéma ?

À quoi cela sert-il ?

C'est l'assolement triennal qui sert à faire reposer une partie de la terre un an sur trois pour ne pas l'épuiser.



6 Les paysans :

a) Comment vivaient-ils ? Dans des conditions misérables.

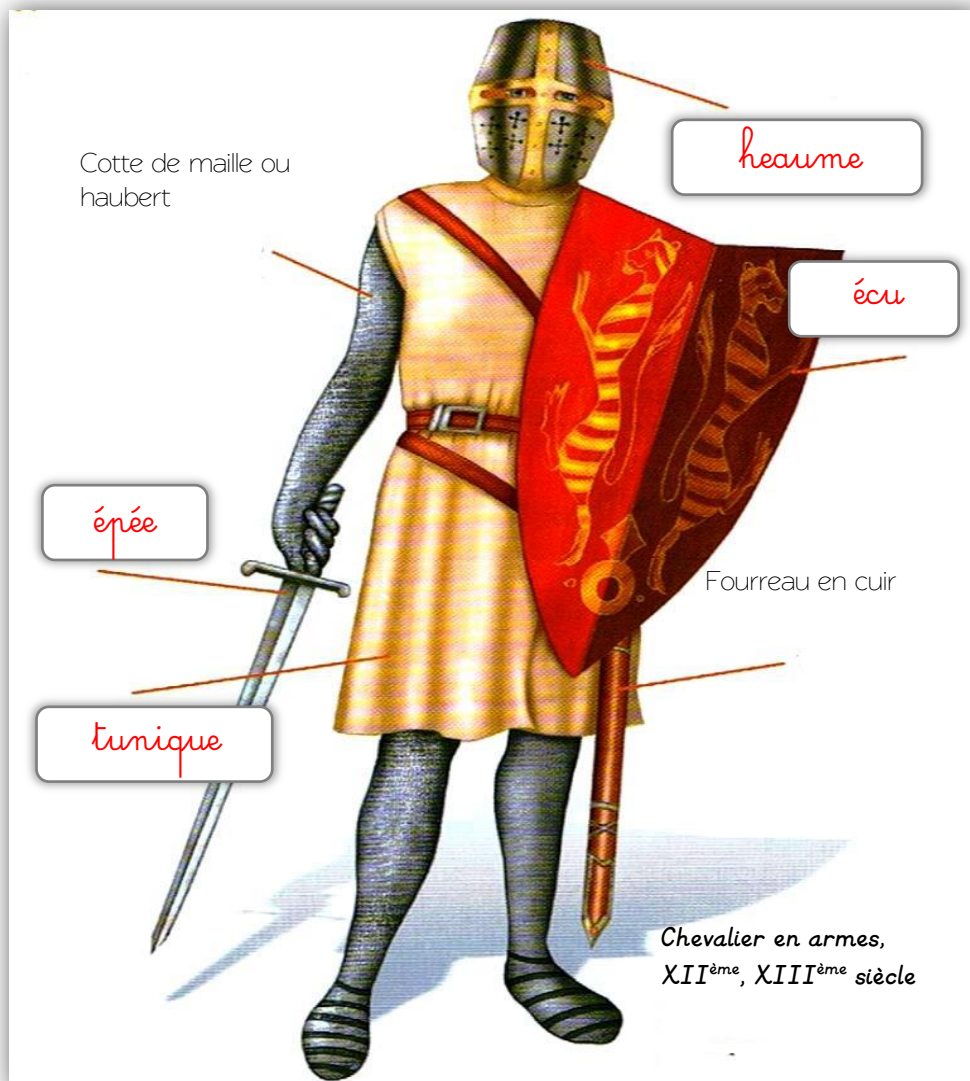
b) Dans quoi habitaient-ils ? Dans de pauvres chaumières

c) Comment s'appellent les deux sortes de paysans ? Que peux-tu dire de chacun d'eux ?

1. Les serfs : ils dépendaient complètement du seigneur.

2. Les vilains : ils étaient plus libres.

7 Complète ce schéma de chevalier



Chevalier en armes, XII<sup>ème</sup>, XIII<sup>ème</sup> siècle