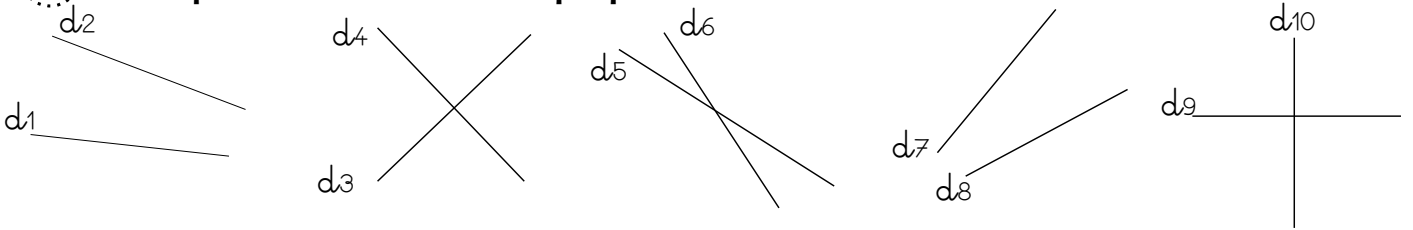


Nom :

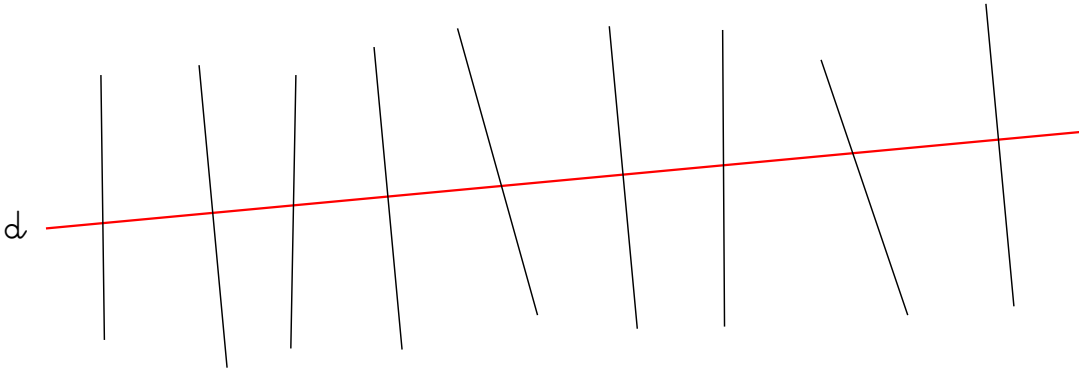
Date :

Les droites perpendiculaires

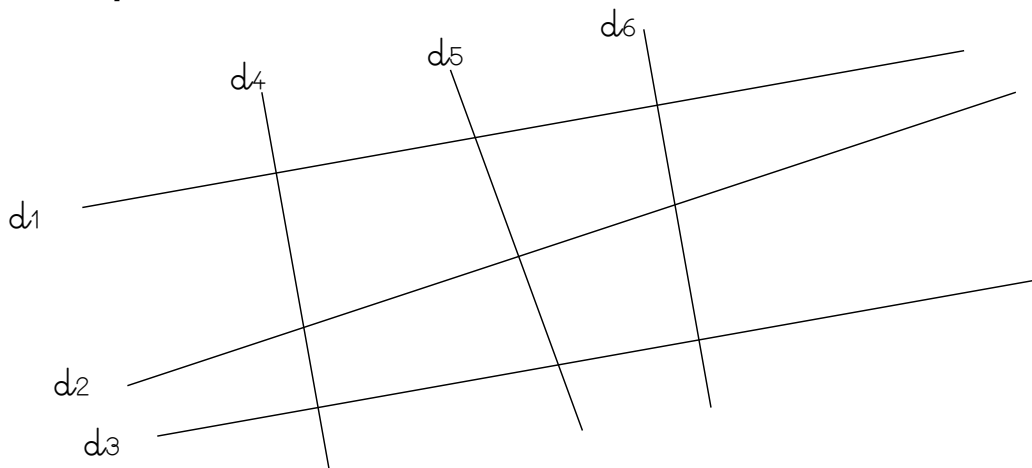
1 Écris quelles sont les droites perpendiculaires.



2 Repasse en bleu les droites qui sont perpendiculaires à la droite (d).



3 Écris si ces phrases sont vraies ou fausses.



Les droites (d1) et (d4) sont perpendiculaires.

Les droites (d1) et (d5) sont perpendiculaires.

Les droites (d3) et (d6) ne sont pas perpendiculaires.

Les droites (d2) et (d4) ne sont pas perpendiculaires.

Les droites (d1) et (d6) sont perpendiculaires.

Les droites (d2) et (d5) sont perpendiculaires.

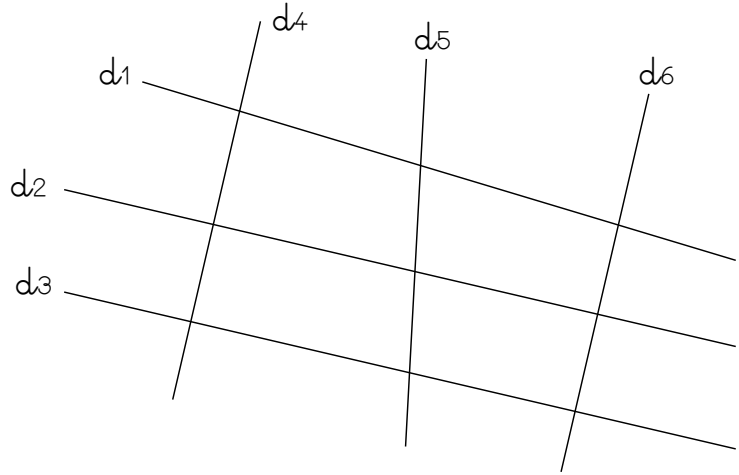
Nom :

Date :

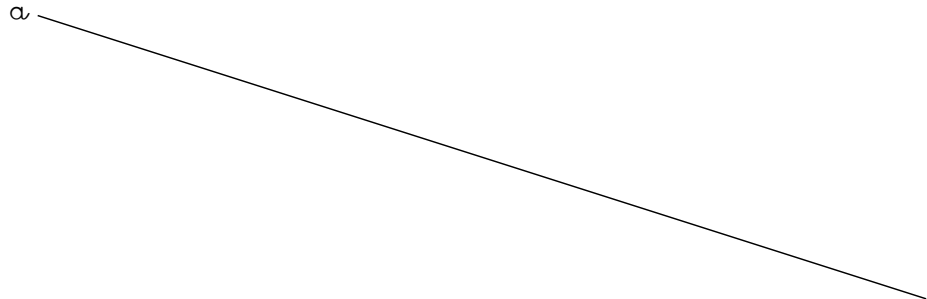
Les droites perpendiculaires

1 Coche dans le tableau les droites qui sont perpendiculaires.

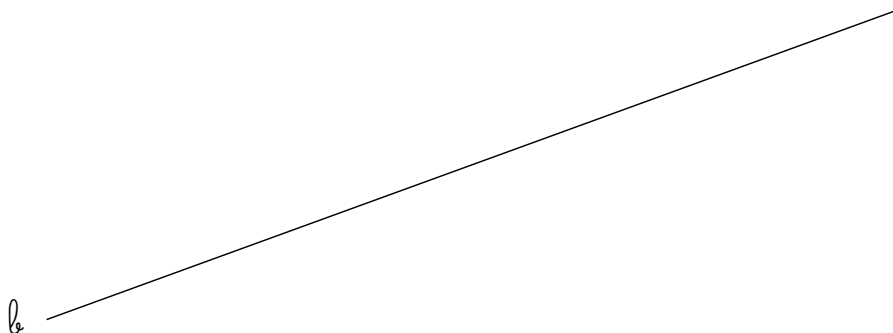
	d1	d2	d3	d4	d5	d6
d1	<input checked="" type="checkbox"/>	<input type="checkbox"/>	<input type="checkbox"/>	<input type="checkbox"/>	<input type="checkbox"/>	<input type="checkbox"/>
d2	<input type="checkbox"/>	<input checked="" type="checkbox"/>	<input type="checkbox"/>	<input type="checkbox"/>	<input type="checkbox"/>	<input type="checkbox"/>
d3	<input type="checkbox"/>	<input type="checkbox"/>	<input checked="" type="checkbox"/>	<input type="checkbox"/>	<input type="checkbox"/>	<input type="checkbox"/>
d4	<input type="checkbox"/>	<input type="checkbox"/>	<input type="checkbox"/>	<input checked="" type="checkbox"/>	<input type="checkbox"/>	<input type="checkbox"/>
d5	<input type="checkbox"/>	<input type="checkbox"/>	<input type="checkbox"/>	<input type="checkbox"/>	<input checked="" type="checkbox"/>	<input type="checkbox"/>
d6	<input type="checkbox"/>	<input type="checkbox"/>	<input type="checkbox"/>	<input type="checkbox"/>	<input type="checkbox"/>	<input checked="" type="checkbox"/>



2 Trace une droite perpendiculaire à la droite (a).



3 Trace une droite perpendiculaire à la droite (b).

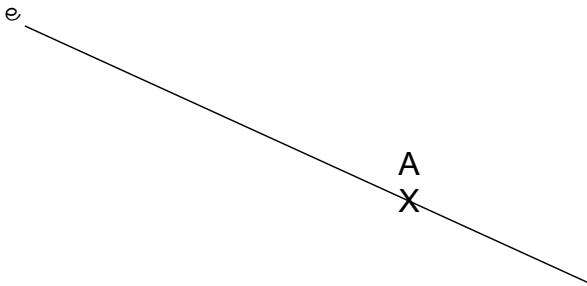


Nom :

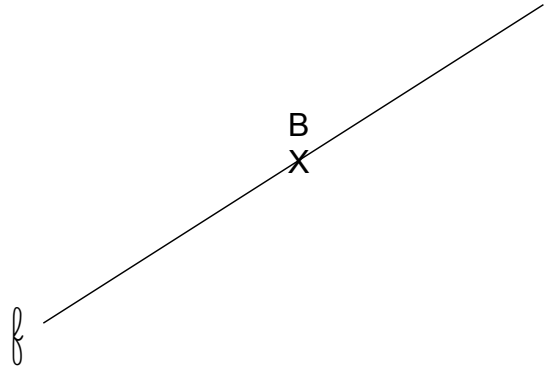
Date :

Les droites perpendiculaires

1 Trace une droite perpendiculaire à la droite (e) passant par A.




2 Trace une droite perpendiculaire à la droite (f) passant par B.

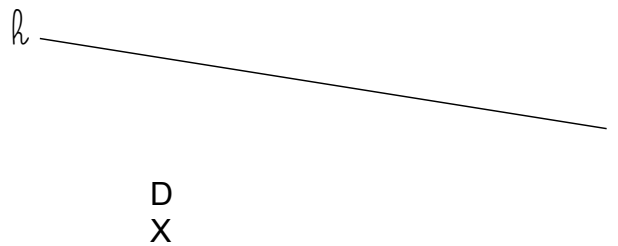


3 Trace une droite perpendiculaire à la droite (g) passant par C.

C
X



4 Trace une droite perpendiculaire à la droite (h) passant par D.

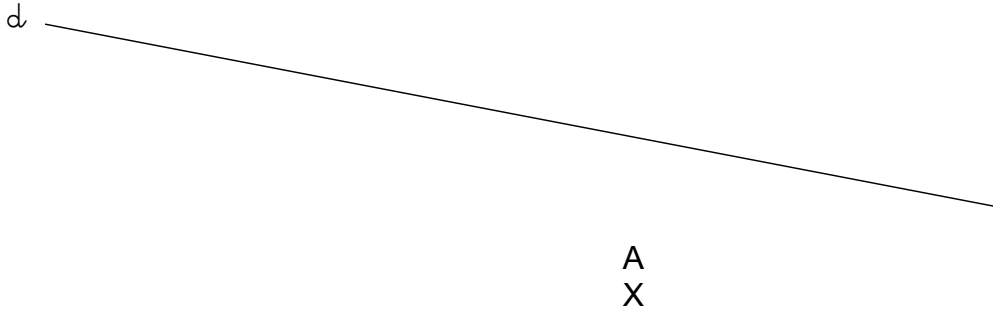


Nom :

Date :

Les droites perpendiculaires

- 1 Trace une droite perpendiculaire à la droite (d) passant par A.



- 2 Trace une droite (d). Place un point A sur la droite (d).
Trace la droite perpendiculaire à la droite (d) passant par A.

- 3 Trace une droite (l) . Place un point m sur la droite (l). Trace une droite perpendiculaire à la droite (l) passant par M.