

Plan 4A CP 2010-2011

**Localiser un phonème.
Classer des mots de phonème identique en faisant apparaître les différentes graphies.**



fiche 1




Mets une croix quand tu entends

« k »



fiche 2



Retrouve les mots correspondant aux dessins

kiwi ; kilomètre ; kayak ; karaté ; masque ; cirque ; kart ; ski.

(présente ainsi dans ton cahier)

1 -

Écrire des mots inconnus ou vu en lecture.

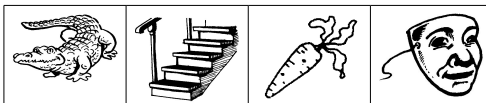


fiche 3



Écris les mots

ca - cro - ro - que - co - tte - di - mas
- le - lier - es -



1 2 3 4



fiche 4



Trouve 7 mots avec les syllabes :

qua cou que
quel tre cha ket
mas ssin Car ta
bas ble

Commencer à utiliser correctement la majuscule.



fiche 5



Recopie comme le modèle.

K
Akli



fiche 6



Recopie le texte.

Quand je suis allée au cirque, j'ai vu des crocodiles, un kangourou, un canari, des canards et des écureuils.

C'était magique !

Sur un élastique, l'équilibriste jonglait avec quatre balles. Après le spectacle, j'ai mangé du chocolat.

Comprendre un mot, une phrase.



fiche 7



Recopie les animaux

un cheral une dame
une tulipe un cube
un chat un rat
un pirate une vache
un crabe un canard



fiche 8



Recopie ce qui est vrai

La plume est lourde.

Il a attrapé la lune.

Le cochon est un animal.

Le camion vole.

Le coca est sucré.

Maman coupe un poulet rôti.

La voiture nage dans la piscine.

Le margouillat rampe sur les murs.

Comparer, ranger, encadrer ces nombres.




fiche 9



Colorie le plus petit

34	43	18	9 + 3
18	16	38	57
28	19	59	49
30	33	74	47


Plan 4A CP 2010-2011

★ *fiche 10* 


Complète avec = < > .

15 ... 25	10+10+3 ... 10+3
20+3 ... 20+5	10+2 ... 20+2
20+7 ... 10+7	29 ... 10+10+9
24 ... 20+4	17 ... 27
10+10 ... 20	10+10+5 ... 20+5

Résoudre des problèmes de logique

★ *fiche 11* 


Trouve tous les nombres de 2 chiffres qu'on peut écrire avec les chiffres 1, 2, 3 et 4.

★ *fiche 12* 

Dessine toutes les tours différentes, de trois étages, que l'on peut faire en n'utilisant qu'une seule fois pour chaque tour ces trois cubes:

● + ▲

Compléter une addition à trou avec le résultat <50.

★ *fiche 13* 

Calcule

10 + 3 =	10 + ... = 14	20 + 3 =
10 + 7 = + 3 = 13	20 + ... = 25
10 + 4 =	10 + 10 + 9 =	20 + 20 =
10 + 2 = + 3 = 23 + 7 = 27

★ *fiche 14* 

Complète

10 + 10 + ... + 2 = 42	20 + 20 =
20 + = 30 + 7 = 37
30 + 1 =	40 + = 48
40 + 6 =	20 + 10 + 6 + . = 46
10 + 10 + 10 + 10 + 5 =	10 + 20 + 2 =

★ 15



Nom:

Prénom:

4A