

Plan 4 B CP 2010-2011

Connaître l'ordre alphabétique



fiche 1



Complète dans l'ordre

B _ D

G H _

U _ w

_ B C

o _ _

d e _



fiche 2



Complète la lettre juste avant et après

_____ f _____
 _____ h _____
 _____ p _____
 _____ B _____
 _____ m _____

Range dans l'ordre alphabétique

B E A H S

O D X F Z

M D H E A

Je sais identifier des phrases.



fiche 4



Sépare les phrases par un trait

C'est lundi. Akli vient de partir. Il dit aux agnelets de fermer la porte. Le loup surveille. Il veut rentrer.



fiche 5



Place les points qui manquent Recopie le texte correctement

C'est l'automne Les feuilles des arbres jaunissent Le temps est gris Les enfants jouent dans la cour

Je commence à utiliser correctement la majuscule.



fiche 6



Recopie comme le modèle.

M

N



fiche 7



Recopie ce texte.

Maman est avec Marie, son amie.
 Nathalie est là aussi. Mardi, elles iront à Naples, en Italie.

Connaître le nombre et le genre



fiche 8



Classe ces mots dans un tableau en mettant un ou une

bateau – table – tomate – fille – loup –
 porte – grotte - agnelet – mouton –
 pantalon – montagne – route – matin -
 voiture

Noms féminins	Noms masculins



fiche 9



Colorie en bleu les noms masculins, en rouge les noms féminins

l'usine		l'étoile		l'éléphant
	l'eau		l'avion	
l'orange		l'arbre		l'orage
	l'ours		l'hirondelle	
l'ombre		l'olive		l'homme
	l'ami		l'hiver	
l'enfant		l'entrée		l'oiseau

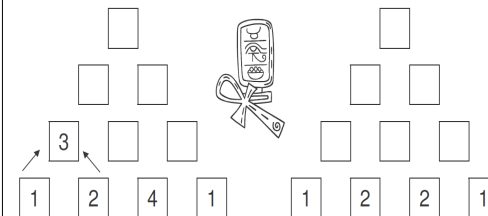
Calculer en ligne



fiche 10




Calcule les additions pour arriver en haut de la pyramide



fiche 11



Calcule les additions pour arriver en haut de la pyramide



Plan 4 B CP 2010-2011

Je sais poser une addition

fiche 12 

Pose et calcule

21 + 15 =

14 + 13 =

25 + 41 =

34 + 25 =

fiche 13 

Pose et calcule

24 + 28 =

26 + 47 =

52 + 29 =

44 + 26 =

fiche 14

Calcule

7	+	3	-	5	=
+		+		+		+
5	+	5	-	6	=
-		-		-		+
3	+	6	-	4	=
=		=		=		=
.....	-	+	=

Ordonner les nombres

fiche 15 

Trouve les nombres qui manquent

20- 25 - ____ - 35 - ____ - ____ - ____ - ____

65- 64- 63- ____ - ____ - ____ - ____ - ____ - ____


44 - 46 - 48 - ____ - ____ - ____ - ____ - ____

fiche 16 


Place les nombres sur la bande

52- 48 - 56 - 54

		50				55		
--	--	----	--	--	--	----	--	--

fiche 17 

Colorie quand tu as fini tous les exercices.



Nom:

Prénom:

4B