

Tracer un rectangle

Décrire, reproduire, tracer un carré, un rectangle, un triangle rectangle.

Voici le rectangle ABCD.

Le rectangle a côtés.

Le rectangle a sommets.

AB et CD sont les **longueurs**:

AB mesure cm

CD mesure cm

BC et AD sont les **largeurs**:

BC mesure cm


AD mesure cm

Les deux **longueurs** sont : égales inégales

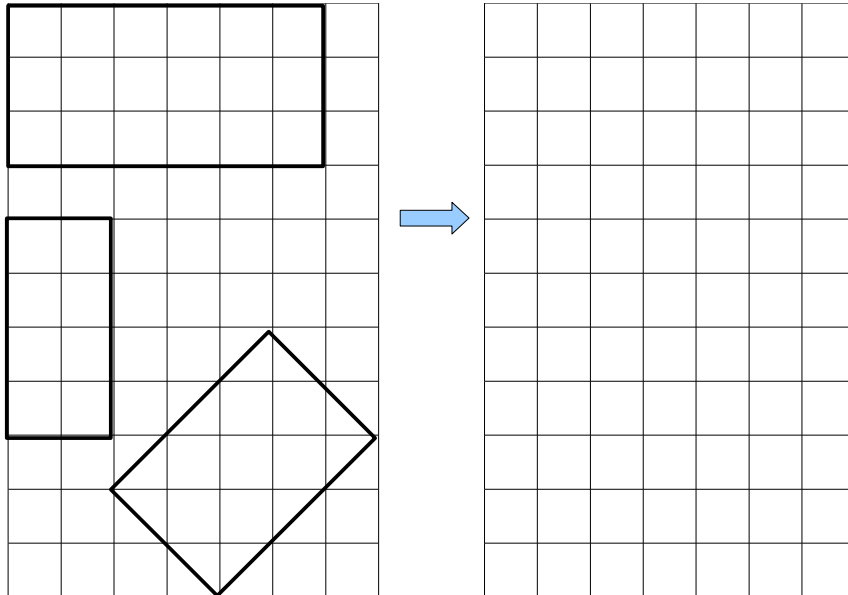
Les deux **largeurs** sont : égales inégales

Observe ses angles. Que peux-tu dire ?

.....



Reproduis ces rectangles sur le quadrillage:

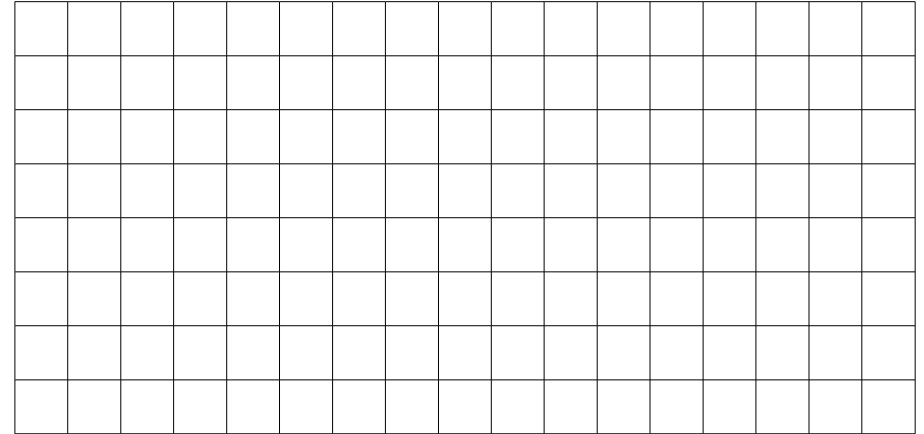


Tracer un rectangle

Décrire, reproduire, tracer un carré, un rectangle, un triangle rectangle.

Trace le rectangle ABCD en suivant les indications:

- Ses longueurs mesurent 10 carreaux
- Ses largeurs mesurent 5 carreaux.



Complète le tracé pour former un rectangle:



Trace un rectangle de 8 cm de longueur et 4 cm de largeur.

