

## Tracer un triangle

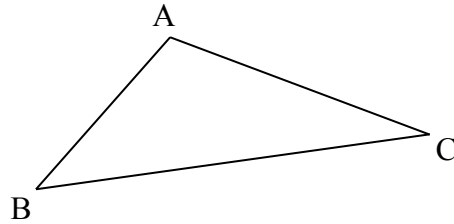
Décrire, reproduire, tracer un carré, un rectangle, un triangle rectangle.

Voici le triangle ABC.

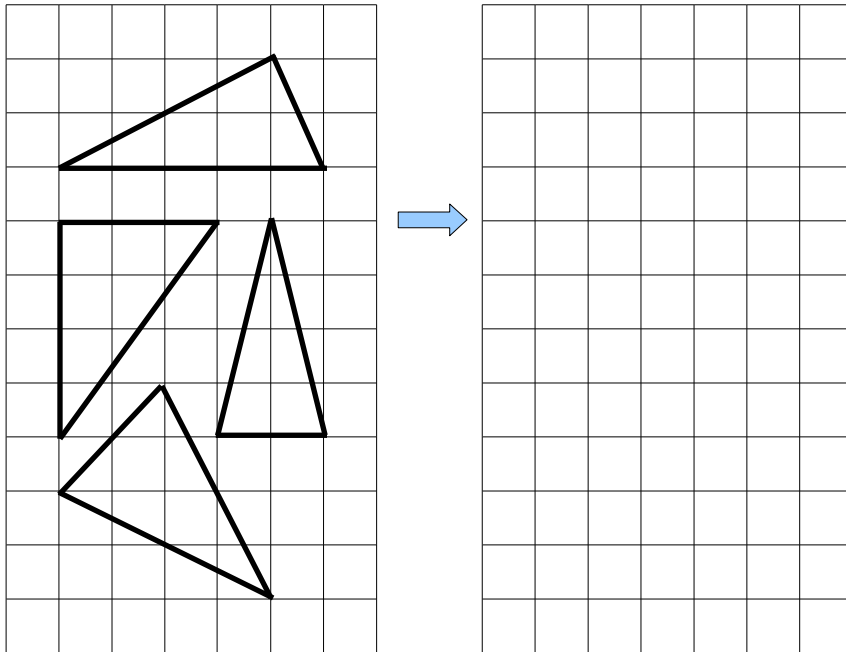
Le triangle a ..... côtés.

Le triangle a ..... sommets.

Le triangle a ..... angles



Reproduis ces triangles sur le quadrillage:



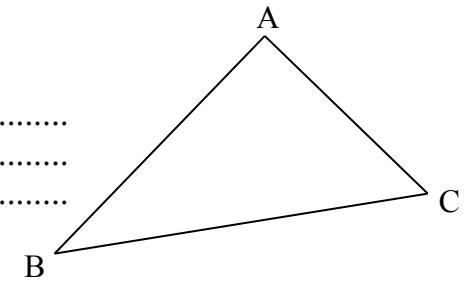
Trace un triangle dont un côté mesure 5 cm.

## Tracer un triangle rectangle

Décrire, reproduire, tracer un carré, un rectangle, un triangle rectangle.

Observe bien les angles de ce triangle. Qu'a-t-il de particulier ?

.....  
.....  
.....



Trace le segment HF.

Combien vois-tu de triangles ?

.....  
.....

Marque les angles droits dans les deux triangles.



Trace deux triangles rectangles différents sur ce quadrillage.

