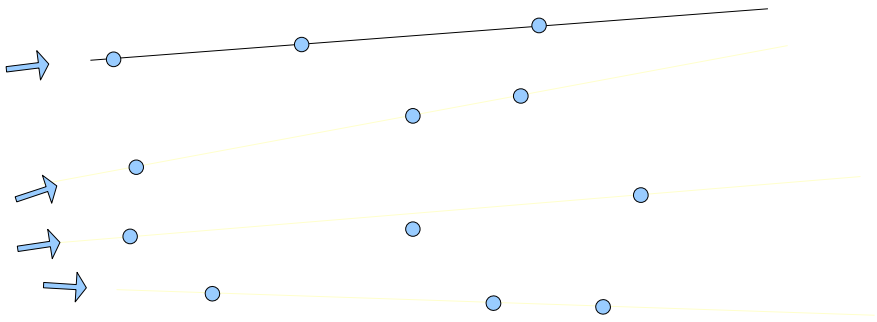


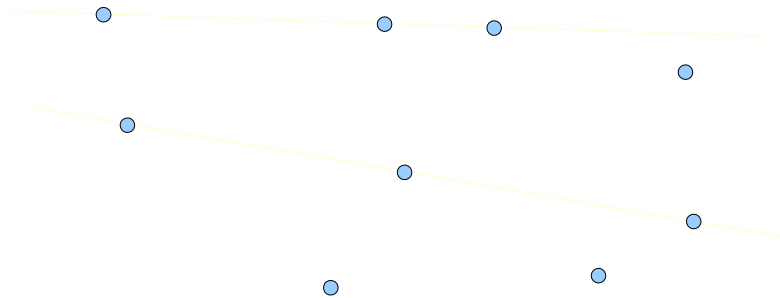
Repérer des points alignés

Percevoir et reconnaître quelques relations et propriétés géométriques : alignement.

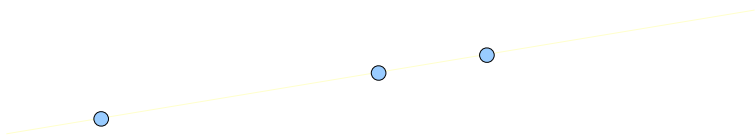
Trace la droite si les 3 points sont alignés :



Cherche les points alignés. Il y a quatre solutions.



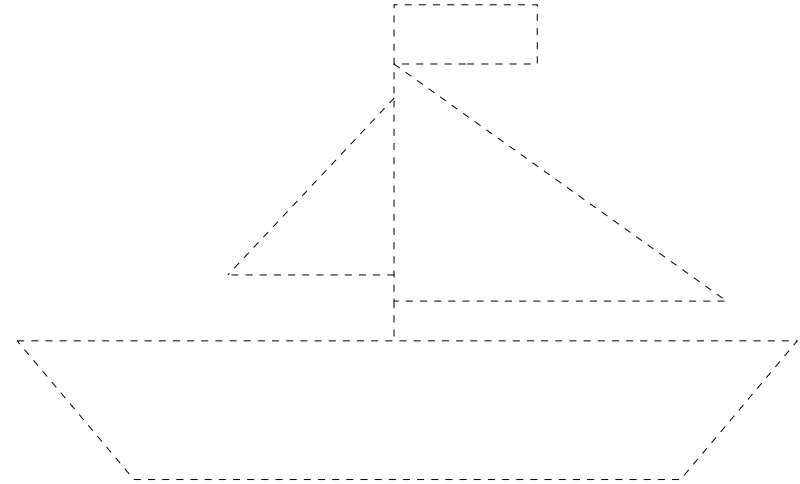
Dessine deux autres points. Ils doivent tous être alignés.



Utiliser la règle

Utiliser des instruments pour réaliser des tracés : règle

Repasse les traits avec ta règle et ton crayon.



Complète la figure avec ta règle et ton crayon.

