



# Les quadrillages

Géom2

Il est difficile d'expliquer dans quelle case se trouve la souris :

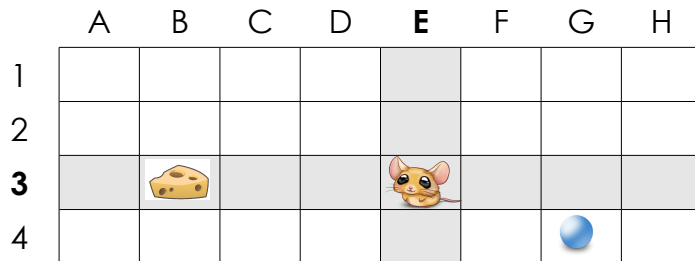


Pour que ce soit plus facile, on donne un nom à chaque colonne et à chaque ligne .



Maintenant, chaque case a un nom, composé **d'une lettre** et **d'un nombre**.

La souris est dans la **colonne E** et dans la **ligne 3**. On dit qu'elle est dans la **case E3**



Le fromage se trouve dans la case ..... et la bille dans la case .....

Trace une croix dans la case H2 et un rond dans la case A1.


# Les quadrillages

Géom2

Il est difficile d'expliquer dans quelle case se trouve la souris :

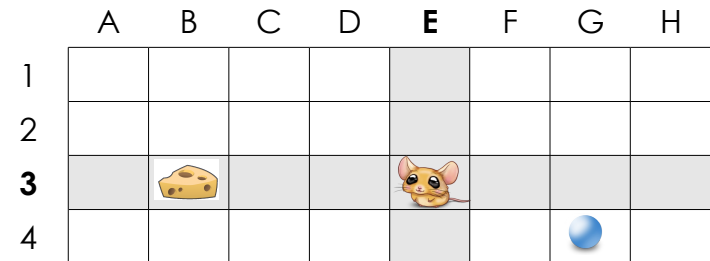


Pour que ce soit plus facile, on donne un nom à chaque colonne et à chaque ligne .



Maintenant, chaque case a un nom, composé **d'une lettre** et **d'un nombre**.

La souris est dans la **colonne E** et dans la **ligne 3**. On dit qu'elle est dans la **case E3**



Le fromage se trouve dans la case ..... et la bille dans la case .....

Trace une croix dans la case H2 et un rond dans la case A1.