


Calcul rapide

- a. $3 + 8 =$ b. $5 + 7 =$ c. $4 + 5 =$ d. $9 + 7 =$ e. $2 + 8 =$
f. $6 + 7 =$ g. $4 + 8 =$ h. $10 + 7 =$ i. $5 + 5 =$ j. $6 + 9 =$

Problèmes

1. Mélanie a 4 feutres. On lui en donne 7. Combien de feutres possède-t-elle en tout ?
2. Adrien a 7 ans de plus que sa sœur qui est âgée de 6 ans. Quel est l'âge d'Adrien ?
3. Dans sa poche, Kévin a 3 billes vertes et 5 billes bleues. Combien de billes Kévin possède-t-il en tout ?

Comptes mystérieux

4. Trouve la suite : $5 - 7 - 9 - 11 -$ 
5. Remets 2 nombres à leur place : $6 - 11 - 4 - 3 - 2 \rightarrow \dots + \dots = 9$

Mes petites techniques :


Calcul rapide

- a. $3 + 8 =$ b. $5 + 7 =$ c. $4 + 5 =$ d. $9 + 7 =$ e. $2 + 8 =$
f. $6 + 7 =$ g. $4 + 8 =$ h. $10 + 7 =$ i. $5 + 5 =$ j. $6 + 9 =$

Problèmes

1. Mélanie a 4 feutres. On lui en donne 7. Combien de feutres possède-t-elle en tout ?
2. Adrien a 7 ans de plus que sa sœur qui est âgée de 6 ans. Quel est l'âge d'Adrien ?
3. Dans sa poche, Kévin a 3 billes vertes et 5 billes bleues. Combien de billes Kévin possède-t-il en tout ?

Comptes mystérieux

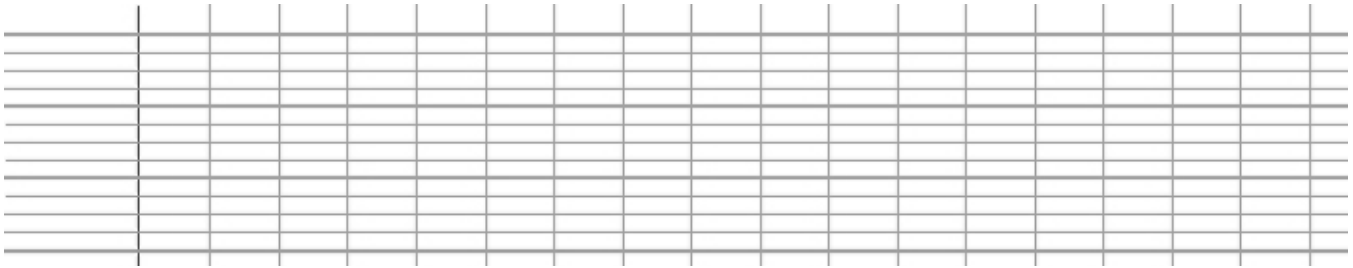
4. Trouve la suite : $5 - 7 - 9 - 11 -$ 
5. Remets 2 nombres à leur place : $6 - 11 - 4 - 3 - 2 \rightarrow \dots + \dots = 9$

Mes petites techniques :

Calcul rapide



Problèmes



Comptes mystérieux

4.



5.

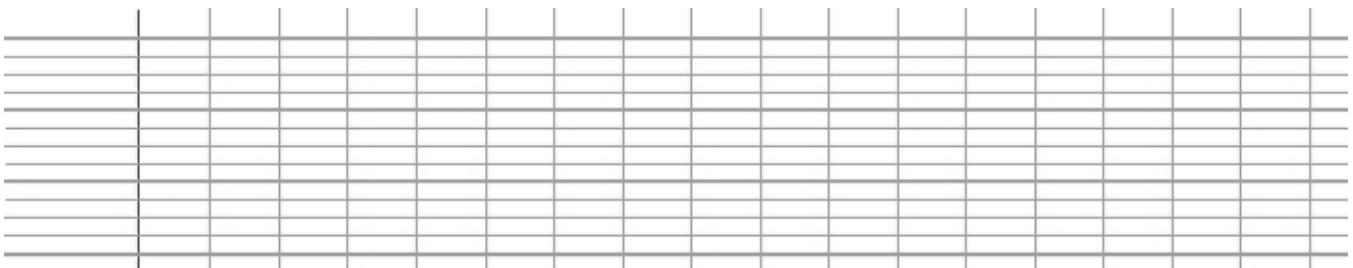
..... + = 9

Total :
/ 20

Calcul rapide



Problèmes



Comptes mystérieux

4.



5.

..... + = 9

Total :
/ 20