

Je révisé en Mathématiques



4P

année 2015-2016

Prénom : _____

1. Dans ce tableau, on a placé tous les nombres de 0 à 59 dans l'ordre mais beaucoup de nombres se sont effacés.

Retrouve ceux qui vont dans les cases grises !



0	1	2	3					8	9
10				14	15	16	17		
				24		26			
		32			35				
50					55		57		

2. Dans la première grille, cherche et entoure toutes les sommes qui font 10 en additionnant 2 cases voisines. Dans la deuxième, les sommes qui font 20.

7	9	1	4	6
10	0	9	7	3
2	8	1	9	7
5	2	8	1	9
5	6	4	6	4

8	7	13	5	9	13
17	3	6	4	16	0
9	2	14	5	17	20
11	10	9	15	3	12
0	19	1	3	18	2

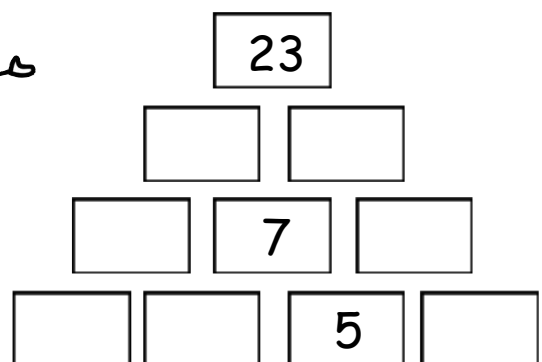
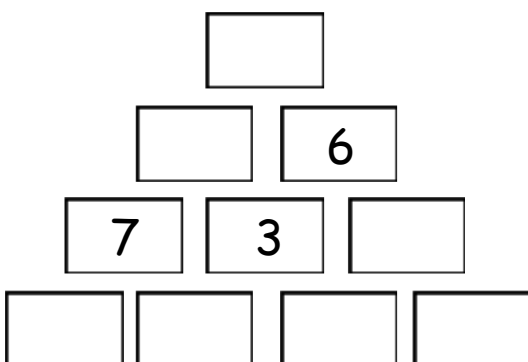
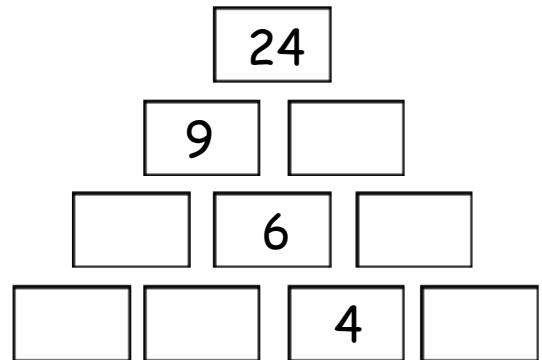
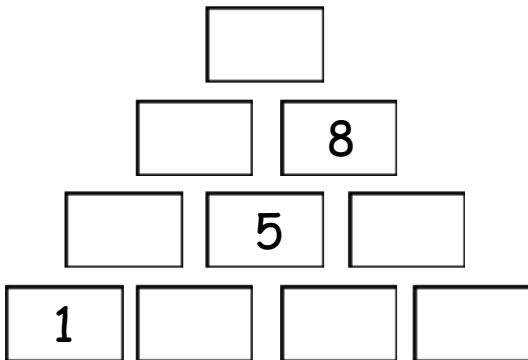
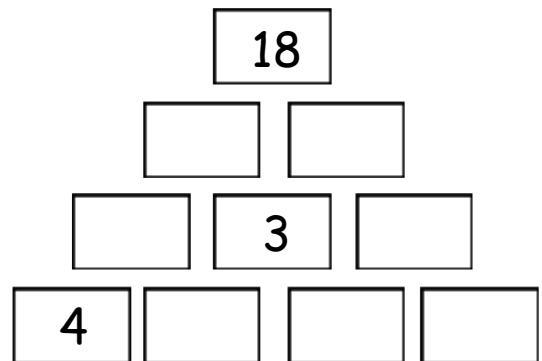
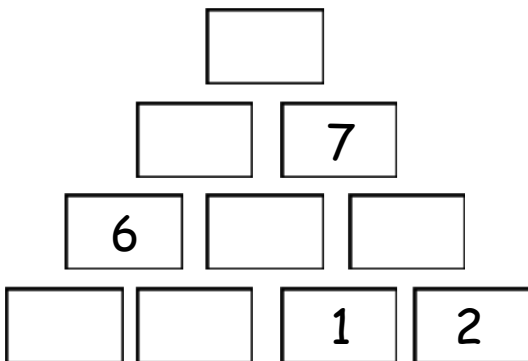
3. Trouve le chemin qui mène à l'arrivée en respectant l'exemple.






<p>9 1 + 1</p>	<p>5 6 + 3</p>	<p>Départ 4 + 2</p>	<p>6 3 + 5</p>	<p>19 10 + 9</p>	<p>13 7 + 7</p>
<p>12 2 + 9</p>	<p>11 6 + 6</p>	<p>7 5 + 6</p>	<p>8 2 + 7</p>	<p>17 3 + 6</p>	<p>14 8 + 5</p>
<p>6 4 + 4</p>	<p>16 6 + 9</p>	<p>11 12 + 4</p>	<p>9 3 + 8</p>	<p>14 6 + 2</p>	<p>13 2 + 9</p>
<p>17 10 + 7</p>	<p>15 3 + 7</p>	<p>10 5 + 7</p>	<p>12 11 + 9</p>	<p>20 14 + 1</p>	<p>15 7 + 9</p>
<p>20 10 + 5</p>	<p>11 0 + 5</p>	<p>5 6 + 8</p>	<p>17 4 + 0</p>	<p>7 4 + 9</p>	<p>16 2 + 5</p>
<p>9 3 + 8</p>	<p>11 2 + 12</p>	<p>14 Arrivée</p>	<p>20 14 + 0</p>	<p>13 12 + 8</p>	<p>1 4 + 12</p>



4. Complète ces pyramides additives.

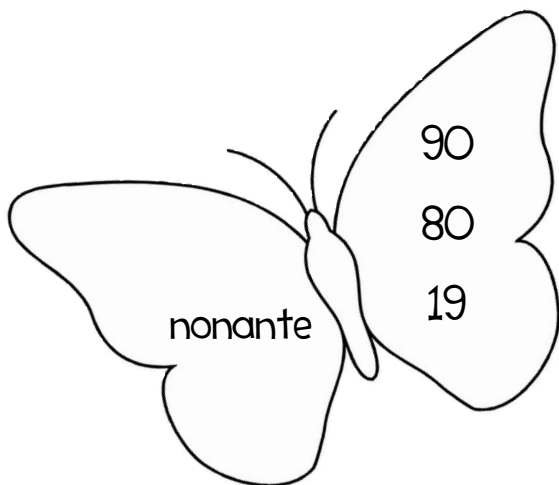
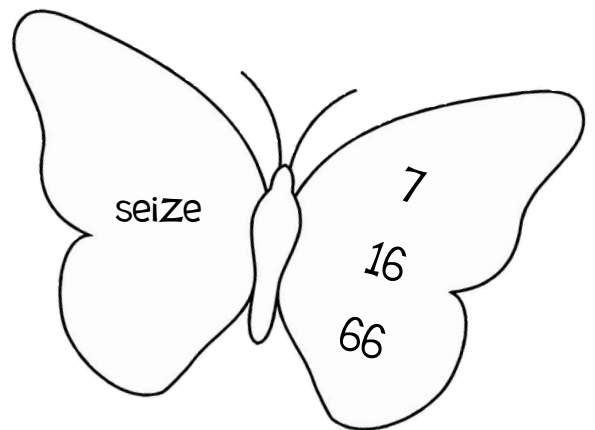
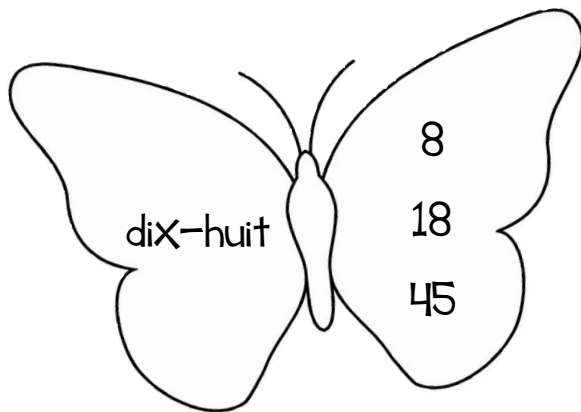
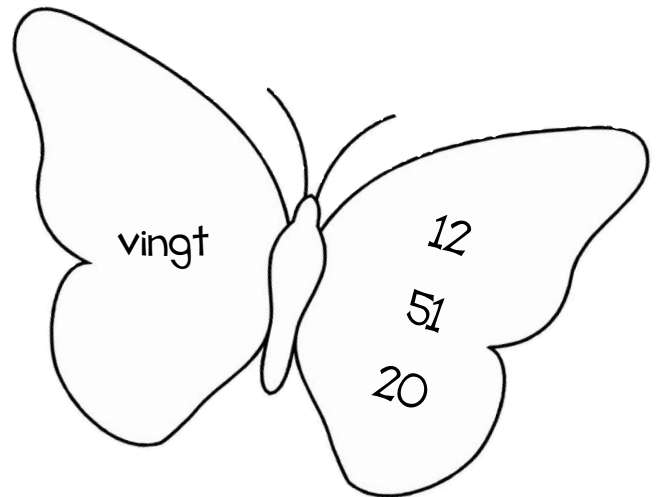
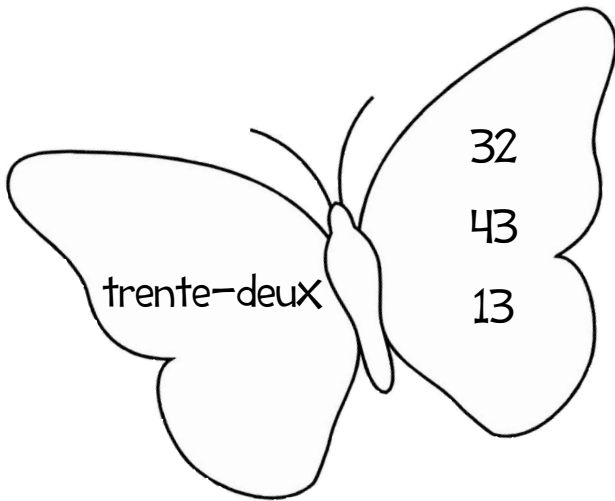


5. Chaque coccinelle fait le tour de son jardin. Quel est celle qui fait le plus long chemin ? Tu dois pouvoir me montrer comment tu as fait !



C'est la coccinelle _____ qui parcourt le plus long chemin.

6. Dans chaque papillon, entoure le nombre qui correspond à celui écrit en lettres.



7. Observe et continue.

28			31	32					
----	--	--	----	----	--	--	--	--	--

43							36	35	
----	--	--	--	--	--	--	----	----	--

			20	25					50
--	--	--	----	----	--	--	--	--	----

		6				14	16		
--	--	---	--	--	--	----	----	--	--

0	3								
---	---	--	--	--	--	--	--	--	--

8. Calcule.

$8 + 6 = \underline{\quad}$

$1 + \underline{\quad} = 10$

$18 + \underline{\quad} = 20$

$9 + 3 = \underline{\quad}$

$3 + \underline{\quad} = 10$

$13 + \underline{\quad} = 20$

$12 + 5 = \underline{\quad}$

$5 + \underline{\quad} = 10$

$11 + \underline{\quad} = 20$

$10 - 2 = \underline{\quad}$

$13 + 7 = \underline{\quad}$

$7 + \underline{\quad} = 10$

$10 + \underline{\quad} = 20$

$4 - 3 = \underline{\quad}$

$11 + 2 = \underline{\quad}$

$9 + \underline{\quad} = 10$

$12 + \underline{\quad} = 20$

$8 - 5 = \underline{\quad}$

$17 + 8 = \underline{\quad}$

$2 + \underline{\quad} = 10$

$16 + \underline{\quad} = 20$

$7 - 6 = \underline{\quad}$

$5 + 10 = \underline{\quad}$

$4 + \underline{\quad} = 10$

$19 + \underline{\quad} = 20$

$9 - 1 = \underline{\quad}$

$14 + 8 = \underline{\quad}$

$0 + \underline{\quad} = 10$

$15 + \underline{\quad} = 20$

$6 - 4 = \underline{\quad}$



9. Relie les nombres de 1 à 100 et découvre le dessin.

