

mon prénom :

# Evaluation : Mathématiques CM1 (1)




la date :

Compétences du LSUN :	Non atteint	Partiellement atteint	Atteint	Dépassé
Utiliser et représenter les nombres entiers.				

**Exercice 1 : Entoure** la bonne réponse.

67 centaines s'écrit :	67	670	6 700
5 milliers 9 centaines s'écrit :	5 900	5 090	5 009
68 centaines 2 unités s'écrit :	682	6 802	6082
Le nombre 4 centaines 7 milliers 5 unités 2 dizaines s'écrit :	7 265	4 752	7 425

**Exercice 2 : Écris** les nombres dictés .

				
---	---	---	--	---

**Exercice 3 : Écris** les nombres en chiffres ou en lettres.

	sept-mille-huit-cent-vingt-trois
	quinze-mille-quatre-vingt-douze
	deux-mille-huit-cent-trois
9 605	
3 075	

**Exercice 4 : Range** les nombres dans l'ordre croissant. Pense à écrire le signe entre chaque nombre.

2 222 / 20 202 / 2 020 / 220 / 4 888 / 8 444 / 888

.....

**Exercice 5 : Écris** le signe qui convient : < ou > .

7 548 ..... 4 550

6 280 ..... 6 199

9 409 ..... 8 999

5 524 ..... 4 452

*Signature des parents*

